



UP POLICE 2018 - 19

REASONING

**TOP 30 QUESTIONS
BASED ON PREVIOUS YEAR**

TUE-THU-SAT 5:00 PM

 **Mahendras**

LIKE US ON FACEBOOK  **/Emahendras**

JOIN MAHENDRAS !!! BEST CHOICE TO OPT FOR THE PREPARATION OF BANK, S

TOP- 30

0:30

Q.1 In the following question, select the one which is different from the other three options./ निम्नलिखित प्रश्न में, उस एक का चयन करें जो शेष तीन से भिन्न है।

(A) 15, 13, 02

(B) 24, 01, 05

(C) 13, 16, 01

(D) 15, 15, 5

TOP- 30

0:30

Q.2 In the following question, select the one which is different from the other three options./ निम्नलिखित प्रश्न में, उस एक का चयन करें जो शेष तीन से भिन्न है।

(A) United Kingdom/यूनाइटेड किंगडम

(B) Australia/ऑस्ट्रेलिया

(C) Europe/यूरोप

(D) 4North America/उत्तरी अमेरिका

TOP- 30

0:30

Q.3 In the following question, select the one which is different from the other three options./निम्नलिखित प्रश्न में, उस एक का चयन करें जो शेष तीन से भिन्न है।

(A) ILRO

(B) CFLI

(C) AGMJ

(D) ORXU

TOP- 30

0:30

Q.4 In the following question, select the related Letter/ Word/ Number from the given alternatives.

निम्नलिखित प्रश्न में, दिए गए विकल्पों में से सम्बंधित अक्षर/शब्द/संख्या का चयन करें।

5 : 56 :: 12 : ?

(A) 124

(B) 160

(C) 220

(D) 301

TOP- 30

0:30

Q.5 In the following question, select the related Letter/ Word/ Number from the given alternatives.

निम्नलिखित प्रश्न में, दिए गए विकल्पों में से सम्बंधित अक्षर/शब्द/संख्या का चयन करें।

BFUA : AIPH : : KLPO : ?

(A) MNRT

(B) JOKV

(C) MNST

(D) JOLV

TOP- 30

0:30

Q.6 In the following question, select the related Letter/ Word/ Number from the given alternatives.

निम्नलिखित प्रश्न में, दिए गए विकल्पों में से सम्बंधित अक्षर/शब्द/संख्या का चयन करें।

Taka/टका : Bangladesh/बांग्लादेश : : Lira/लीरा : ?

(A) Cambodia/कम्बोडिया

(B) Italy/इटली

(C) India/भारत

(D) Pakistan/पाकिस्तान

TOP- 30

0:30

Q.7 Which one set of letter when sequentially placed at the gaps in the given letter series shall complete it?

नीचे लिखे अक्षरों का कौन सा समूह खाली स्थानों पर क्रमवार रखने से दी गई श्रृंखला को पूरा करेगा ?

a a _ b b b _ c c a a a b _ b c _ c

(A) bbcc

(B) bccc

(C) cccb

(D) acbc



TOP- 30

0:30

Q.8 Which one set of letter when sequentially placed at the gaps in the given letter series shall complete it?

नीचे लिखे अक्षरों का कौन सा समूह खाली स्थानों पर क्रमवार रखने से दी गई श्रृंखला को पूरा करेगा ?

b c c _ b c _ a b c c _ b _ c a

(A) acab

(B) babc

(C) acca

(D) acac

TOP- 30

0:30

Q.9 From the given alternative words, select the word which cannot be formed using the letters of the given word.

निम्नलिखित विकल्पों में से उस विकल्प को चुनिये जो दिये गये शब्द के अक्षरों का प्रयोग करके नहीं बनाया जा सकता है।

EXAMINATION

(A) EXAMIN

(B) NATION

(C) NOTES

(D) TONEA

TOP- 30

0:30

Q.10 From the given alternative words, select the word which cannot be formed using the letters of the given word.

निम्नलिखित विकल्पों में से उस विकल्प को चुनिये जो दिये गये शब्द के अक्षरों का प्रयोग करके नहीं बनाया जा सकता है।

CREATION

(A) RATION

(B) CATION

(C) TORRN

(D) ACTION

TOP- 30

0:30

Q.11 In a certain code TEACHER is written as XWPBRWN and HIGHLY is written as RSNRDZ, then how can CHARITY be written in that code?

यदि एक निश्चित कोड में TEACHER को XWPBRWN लिखा जाता है और HIGHLY को RSNRDZ लिखा जाता है, तो उसी कोड में CHARITY को कैसे लिखा जा सकता है?

(A) BRPNSXZ

(B) BRPMSDZ

(C) BRPMSZB

(D) BPRNSBZ

TOP- 30

0:30

Q.12 In a certain code **ERASER** is written as **IZIVHV**, then how can **SLIDES** be written in that code?

यदि एक निश्चित कोड में ERASER को IZIVHV लिखा जाता है, तो उसी कोड में SLIDES को कैसे लिखा जा सकता है?

(A) HROWVH

(B) HROVWH

(C) GRLWVG

(D) GROVVH

TOP- 30

0:30

Q.13 A series is given with one term missing, choose the correct alternative from the given one that will complete the series.

एक श्रृंखला एक लुप्त पद के साथ दी गयी है, उस सही विकल्प को चुनिए जो श्रृंखला को पूरा करेगा।

5, 6, 8, 12, 20, ?, 68

(A) 36

(B) 22

(C) 28

(D) 30

TOP- 30

0:30

Q.14 A series is given with one term missing, choose the correct alternative from the given one that will complete the series.

एक श्रृंखला एक लुप्त पद के साथ दी गयी है, उस सही विकल्प को चुनिए जो श्रृंखला को पूरा करेगा।

5, 6, 9, 20, ?, 414

(A) 96

(B) 108

(C) 75

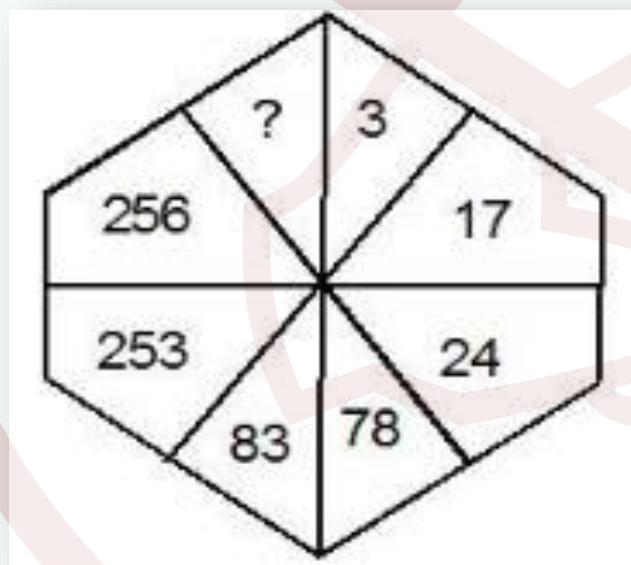
(D) 192

TOP- 30

0:30

Q.15 In the question, select the missing number from the given responses.

प्रश्न में, दिये गये विकल्पों से लुप्त संख्या को चुनिये।



(A) 770

(B) 546

(C) 702

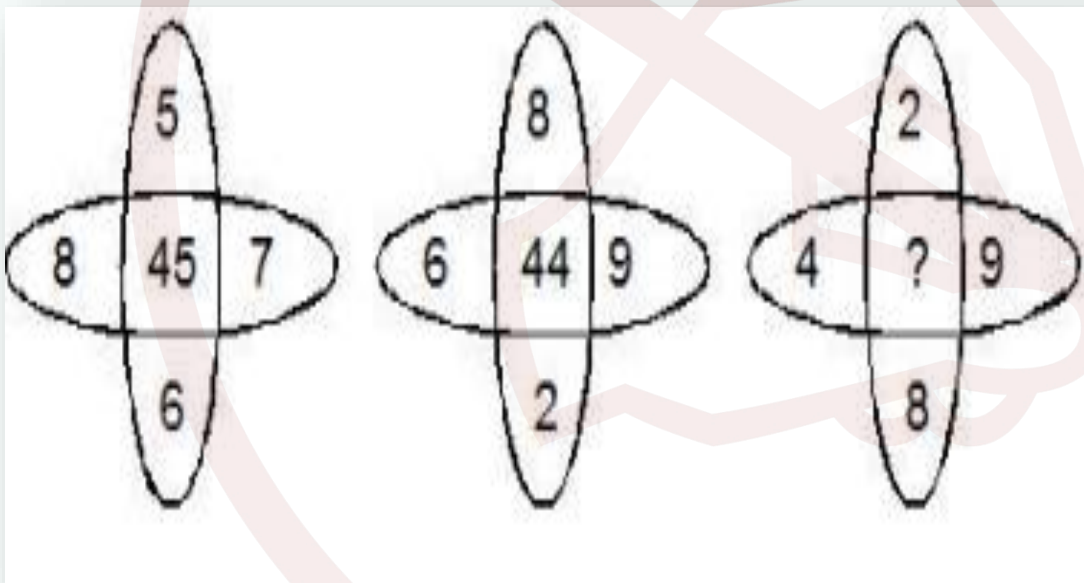
(D) 618

TOP- 30

0:30

Q.16 In the question, select the missing number from the given responses.

प्रश्न में, दिये गये विकल्पों से लुप्त संख्या को चुनिये।



(A) 26

(B) 18

(C) 72

(D) 46

TOP- 30

0:30

Q.17 In the question, select the missing number from the given responses.

प्रश्न में, दिये गये विकल्पों से लुप्त संख्या को चुनिये।

18

21

24

3

9

3

6

4

8

21

26

?

(A) 24

(B) 27

(C) 29

(D) 12

TOP- 30

0:30

Q.18 A tourist drives 10 km towards north and turns to right and takes a drive of another 4 km. He then drives towards east and drive another 4 km and then turns to his right and drives 5 km. Afterwards he turns to his right and travels 5 km. Finally he turns to his left and drives 9 km. How far and in which direction is the starting point from that person?

एक पर्यटक उत्तर की ओर 10 किमी सफर करता है और दाएँ ओर घूमकर 4 किमी जाता है। इसके बाद वह पूर्व की ओर 4 किमी सफर करता है और फिर अपने दायें घूमकर 5 किमी का सफर करता है। बाद में वह अपने दायें ओर घूमकर 5 किमी की यात्रा करता है। अन्त में बायें मुड़कर 9 किमी चलता है प्रारंभिक बिंदु उस व्यक्ति से कितनी दूरी और किस दिशा में है?

(A) 9 km West

(B) 5 km South-East

(C) 2 km

(D) 5 km North-West

TOP- 30

0:30

Q.19 What is the code of 'DROP' ?/ 'DROP' का कूट क्या है?

	0	1	2	3	4
0	D	E	F	I	N
1	I	N	D	E	F
2	E	F	I	N	D
3	N	D	E	F	I
4	F	I	N	D	E

	5	6	7	8	9
5	O	P	R	S	T
6	S	T	O	P	R
7	P	R	S	T	O
8	T	O	P	R	S
9	R	S	T	O	P

(A) 31, 95, 54, 56

(B) 31, 96, 55, 56

(C) 31, 95, 55, 56

(D) 31, 95, 56, 55

TOP- 30

0:30

Q.20 How many such pairs of letters are there in the word 'COMPREHENSIVE' each of which has as many letters between them in the word as they have between them in the English alphabet?
शब्द 'COMPREHENSIVE' में ऐसे कितने अक्षर-युग्म हैं जिनमें से प्रत्येक के बीच शब्द में उतने ही अक्षर हैं जितने कि अंग्रेजी वर्णमाला में उनके बीच में होते हैं?

(A) One/एक

(B) Four/चार

(C) Three/तीन

(D) None/कोई नहीं

TOP- 30

0:30

Q.21 Statements /कथन:

All girls are women. / सभी लड़कियां महिलायें हैं।
Some women are intelligent. / कुछ महिलायें बुद्धिमान हैं।

Conclusions/निष्कर्ष :

I. Some girls are not intelligent.

कुछ लड़कियां बुद्धिमान नहीं हैं।

II. Some women are not intelligent.

कुछ महिलायें बुद्धिमान नहीं हैं।

(A) Only I follows

(B) Only II follows

(C) Both I and II follows

(D) Neither I nor II follows

TOP- 30

0:30

Q.22 If $20+15 = 24$ and $64+13 = 42$ then $12+18 = ?$ / यदि $20+15 = 24$ और $64+13 = 42$ तो $12+18 = ?$

(A) 31

(B) 34

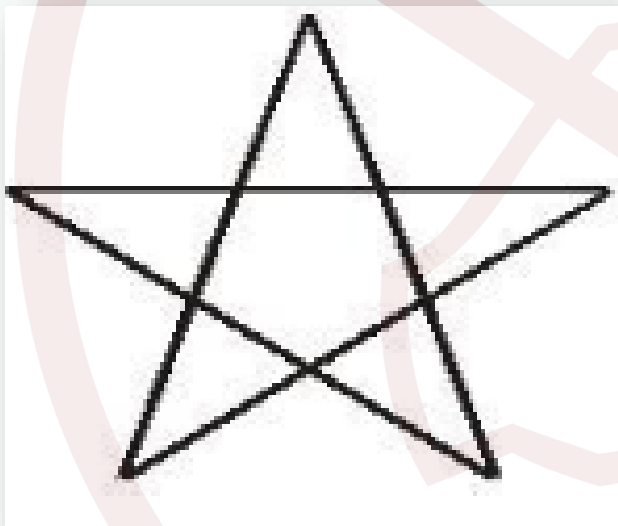
(C) 33

(D) 36

TOP- 30

0:30

Q.23 How many triangles are there in the following figure?
निम्नलिखित आकृति में त्रिभुजों की संख्या कितनी है?



(A) 12

(B) 9

(C) 18

(D) 10

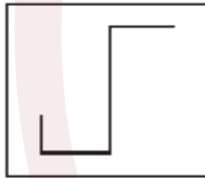
TOP- 30

0:30

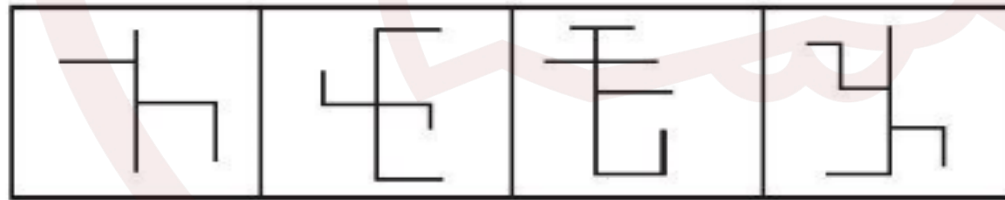
Q.24 From the given answer figures, select the one in which the question figure is hidden/embedded.

दी गयी उत्तर आकृतियों में से उस एक का चयन करें जिसमें प्रश्न आकृति में सन्निहित है।

Question Figure:/प्रश्न आकृति:



Answer Figures:/उत्तर आकृतियाँ:



(A)

(B)

(C)

(D)

(A) A

(B) B

(C) C

(D) D

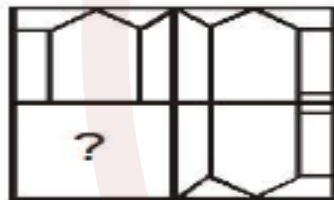
TOP- 30

0:30

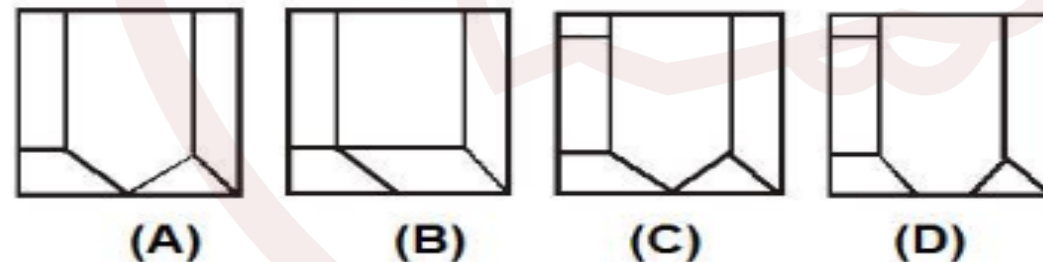
Q.25 Which answer figure will be complete the pattern in the question figure?

कौन सी उत्तर आकृति प्रश्न आकृति के प्रतिरूप को पूरा करेगी?

Question Figure:/प्रश्न आकृति:



Answer Figures:/उत्तर आकृतियाँ:



(A) A

(B) B

(C) C

(D) D

TOP- 30

0:30

Q.26 Select the missing from the given responses:
दिए गये विकल्पों में लुप्त संख्या ज्ञात कीजिए।

6	10	15	12
5	9	4	2
7	13	8	12
79	259	124	?

(A) 157

(B) 168

(C) 144

(D) 169

TOP- 30

0:30

Q.27 Select the missing from the given responses:
दिए गये विकल्पों में लुप्त संख्या ज्ञात कीजिए।

13	76	57
24	63	83
24	117	?

(A) 132

(B) 120

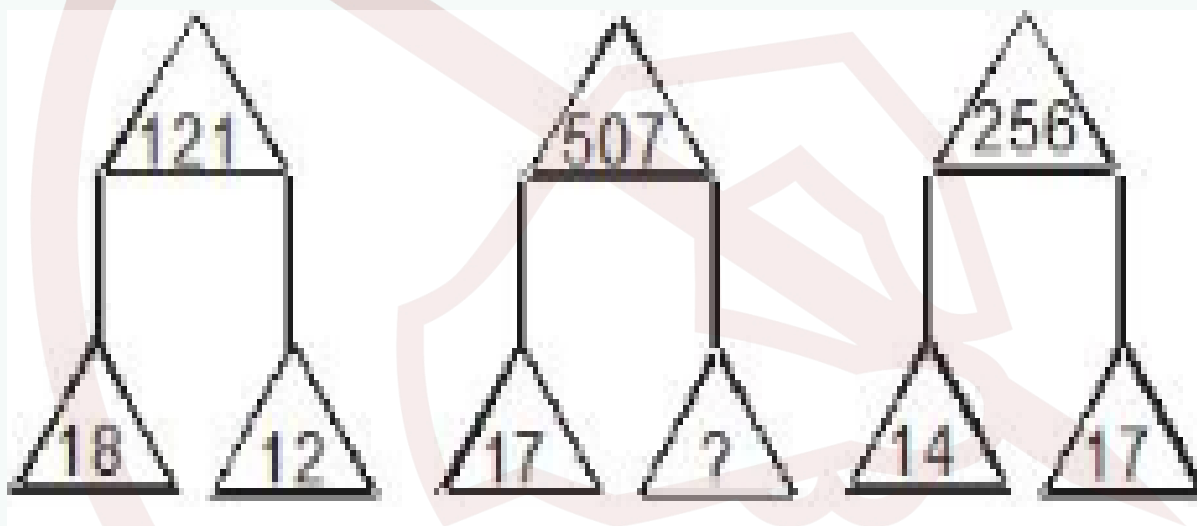
(C) 130

(D) 126

TOP- 30

0:30

Q.28 Select the missing from the given responses:
 दिए गये विकल्पों में लुप्त संख्या ज्ञात कीजिए।



(A) 19

(B) 41

(C) 40

(D) 30

TOP- 30

0:30

Q.29 If the second day of July month is a Tuesday. Which of the following would be the last day of the next month?

यदि जुलाई महीने का दूसरा दिन मंगलवार है तो निम्न में से कौन अगले महीने का अंतिम दिन होगा?

(A) Friday / शुक्रवार

(B) Sunday / रविवार

(C) Saturday / शनिवार

(D) Monday / सोमवार

TOP- 30

0:30

Q.30 Statements / कथन:

No pen is paper. / कोई पेन कागज नहीं हैं।
All paper are pink. / सभी कागज, गुलाबी हैं।
Some pink are plate. / कुछ गुलाबी प्लेट हैं।

Conclusion / निष्कर्ष:

- I. Some pink are not pen. / कुछ गुलाबी पेन नहीं हैं।
II. Some paper are plate. / II. कुछ कागज प्लेट हैं।

(A) Only I follows

(B) Only II follows

(C) Both I and II follows

(D) Neither I nor II follows



www.mahendraguru.com

LIKE

COMMENT

SHARE

SUBSCRIBE

**A COMPLETE WEBSITE
TO PREPARE FOR
COMPETITIVE EXAMS**