

REASONING (TOP 30 QUESTIONS 03 SEPTEMBER 2018)

Q.1 If O denotes \times , N denotes \div , K denotes $+$ and J denotes $-$, then find the value of $24\ O\ 84\ N\ 12\ K\ 16\ J\ 52 = ?$

यदि L को X से इंगित किया जाये, M को \div से इंगित किया जाये P को $+$ से इंगित किया जाये और Q को $-$ से इंगित किया जाये तब $24\ O\ 84\ N\ 12\ K\ 16\ J\ 52 = ?$ मान क्या होगा?

- (A) 159
(B) 132
(C) 155
(D) 130

Ans: B

Q.2 A is wife of B who is children of C. M is mother of D who is son of C, then how is C related to A?

A, B की पत्नी है जो C का बच्चा है। M, D की माता है जो C का बेटा है तो C, A से किस प्रकार संबंधित है?

- (A) Father / पिता
(B) Brother-in-law / ब्रदर-इन-लॉ
(C) Brother / भाई
(D) Father-in-law / ससुर

Ans: D

Q.3 Arrange the following words according to the order given in the dictionary.

निम्नलिखित शब्दों का शब्दकोश में दिए गए क्रम के अनुसार व्यवस्थित करें।

1. Represent 2. Recession 3. Reforms
4. Resign 5. Reptiles

- (A) 2, 3, 1, 4, 5
(B) 1, 3, 2, 5, 4
(C) 2, 3, 1, 5, 4
(D) 3, 1, 5, 2, 4

Ans: C

Q.4 From the given alternative words select the one which can/can't be formed using the letters of the given word?

दिये गये विकल्पों में से उस शब्द को चुनिए जो प्रश्न में दिये गये शब्दों के अक्षरों का प्रयोग कर बनाया/नहीं बनाया जा सकता है।

COMBINATIONS

- (A) NAME
(B) NATIONAL
(C) MOTION
(D) COMMON

Ans: C

Q.5 From the given alternative words select the one which can/can't be formed using the letters of the given word?

दिये गये विकल्पों में से उस शब्द को चुनिए जो प्रश्न में दिये गये शब्दों के अक्षरों का प्रयोग कर बनाया/नहीं बनाया जा सकता है।

REVOLUTIONARY

- (A) VOLUTE
(B) RELATION
(C) EVALUATE
(D) RELUTION

Ans: C

Q.6 Statements / कथन:

All copy are notes. / सभी कॉपी नोट्स हैं।

All notes are books. / सभी नोट्स किताबें हैं।

Conclusions / निष्कर्ष:

I. Some books are copy. / कुछ किताबें कॉपी हैं।

II. No books are copy. / कोई पुस्तक कॉपी नहीं है।

- (A) Only conclusion I follows.
(B) Only conclusion II follows.
(C) Both conclusions I and II follow.
(D) Neither conclusion I nor II follows.

Ans: A

Q.7 A man is facing north. He turns 45° in clockwise direction and another 45° in the same direction and then 225° in the anticlockwise direction. Again he turns 135° clockwise direction and 270° anticlockwise direction. In which direction he is facing now?

एक व्यक्ति उत्तर की ओर देख रहा है वह दक्षिणावर्त दिशा में 45° और उसी दिशा में 45° और फिर वामावर्ती दिशा में 225° मुड़ता है। फिर वह 135° की दक्षिणावर्त दिशा और 270° वामावर्ती दिशा में मुड़ता है। अब वह किस दिशा में देख रहा है?

- (A) South-East
(B) East
(C) South-West
(D) South

Ans: A

Q.8 In a certain code language 'DATE' is written as 'ZDRF' and 'EXAM' is written as 'AAYN'. How is 'VIEW' will be written in that code language?

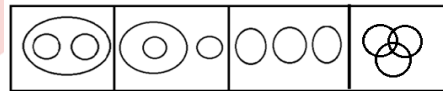
एक निश्चित कूट भाषा में 'DATE' को 'ZDRF' लिखा जाता है और 'EXAM' को 'AAYN' लिखा जाता है तो उसी कूट भाषा में 'VIEW' को कैसे लिखा जायेगा?

- (A) RLCX
(B) RLBZ
(C) ROCY
(D) IVEW

Ans: A

Q.9 Which one of the following diagram best depicts the relationship among Boys, Students and Athletics?

निम्नलिखित में से कौन सा आरेख लड़के, विद्यार्थी और एथलेटिक्स का सही संबंध दर्शाता है?



- (A) A
(B) B
(C) C
(D) D

Ans: D

Q.10 In each of the following questions, select the related letter/word/number from the given alternatives.

दिये गये विकल्पों में से संबंधित शब्द/अक्षरों/संख्या को चुनियें।

SQC : LJV :: DAK : ?

- (A) WTE
(B) VSD
(C) WTD
(D) VTE

Ans: C

Q.11 In each of the following questions, select the related letter/word/number from the given alternatives.

दिये गये विकल्पों में से संबंधित शब्द/अक्षरों/संख्या को चुनियें।

4 : 50 :: 1 : ?

- (A) 2
(B) 4
(C) 9
(D) 10

Ans: A

Q.12 In each of the following questions, select the related letter/word/number from the given alternatives. / दिये गये विकल्पों में से संबंधित शब्द/अक्षरों/संख्या को चुनिये।

Termite : Wood :: ?

दीमक : लकड़ी :: ?

- (A) Neem : Cotton
(B) Fibre : Jute
(C) Thread : Cloth
(D) Moth : Wheat

Ans: D

Q.13 Find the odd number/letter/figure/number pair from the given alternative.

दिये गये विकल्पों में से विषम अक्षरों/शब्दों/संख्याओं को चुनिये।

- (A) Luanda
(B) Seoul
(C) Rome
(D) Turkey

Ans: D

Q.14 Find the odd number/letter/figure/number pair from the given alternative.

दिये गये विकल्पों में से विषम अक्षरों/शब्दों/संख्याओं को चुनिये।

- (A) 633
(B) 541
(C) 862
(D) 498

Ans: D

Q.15 Find the odd number/letter/figure/number pair from the given alternative.

दिये गये विकल्पों में से विषम अक्षरों/शब्दों/संख्याओं को चुनिये।

- (A) LAB
(B) MAC
(C) EGI
(D) XBD

Ans: C

Q.16 In each of the following questions, a series is given, with one term missing choose the correct alternative from the given one that will complete the series.

एक अनुक्रम दिया गया है जिसमें एक आकृति लुप्त है चार दिए गए विकल्पों में से वह विकल्प चुनिए जो अनुक्रम को पूरा करे:

3, 1.5, 1.5, 2.25, 4.5, ?

- (A) 4.50
(B) 21.25
(C) 11.25
(D) 9.25

Ans: C

Q.17 In each of the following questions, a series is given, with one term missing choose the correct alternative from the given one that will complete the series.

एक अनुक्रम दिया गया है जिसमें एक आकृति लुप्त है चार दिए गए विकल्पों में से वह विकल्प चुनिए जो अनुक्रम को पूरा करे:

4, 3, 6, 25, 168, ?

- (A) 1512
(B) 1414
(C) 1503
(D) 1308

Ans: C

Q.18 In each of the following questions, a series is given, with one term missing choose the correct alternative from the given one that will complete the series.

एक अनुक्रम दिया गया है जिसमें एक आकृति लुप्त है चार दिए गए विकल्पों में से वह विकल्प चुनिए जो अनुक्रम को पूरा करे:

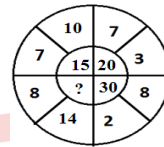
LGK, KIL, JKM, IMN, ?

- (A) HOM
(B) HOO
(C) GNL
(D) GON

Ans: B

Q.19 In the questions, select the missing number from the given responses:

प्रश्नों में, दिये गये विकल्पों से लुप्त संख्या को चुनिये:

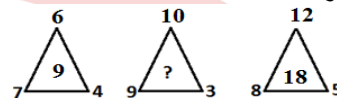


- (A) 45
(B) 30
(C) 35
(D) 40

Ans: B

Q.20 In the questions, select the missing number from the given responses:

प्रश्नों में, दिये गये विकल्पों से लुप्त संख्या को चुनिये:



- (A) 27
(B) 30
(C) 28
(D) 17

Ans: B

Q.21 In the questions, select the missing number from the given responses:

प्रश्नों में, दिये गये विकल्पों से लुप्त संख्या को चुनिये:

11	10	14
15	?	19
17	24	12

- (A) 45
(B) 50
(C) 35
(D) 60

Ans: D

Q.22 In a certain code ONLINE is written as 235832, then how can GROUND be written in that code?

यदि एक निश्चित कोड में ONLINE को 235832 लिखा जाता है, तो GROUND को क्या लिखा जा सकता है ?

- (A) 092633
(B) 792634
(C) 190263
(D) 111833

Ans: A

Q.23 Which set of letters when sequentially placed at the gaps in the given letters series shall complete it?

अक्षरों का कौन सा समूह खाली स्थानों पर क्रमवार रखने से दी गई अक्षर शृंखला को पूरा करेगा?

ab _ aa _ caab _ c _ abb _ c

Ans: D

Q.24 What is the code of 'FONT'?

'FONT' का कूट क्या है?

0	1	2	3	4	5	6	7	8	9		
0	D	E	F	I	N	5	O	P	R	S	T
1	I	N	D	E	F	6	S	T	O	P	R
2	E	F	I	N	D	7	P	R	S	T	O
3	N	D	E	F	I	8	T	O	P	R	S
4	F	I	N	D	E	9	R	S	T	O	P

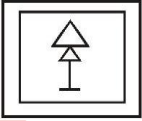
- (A) 14, 86, 30, 77
(B) 14, 86, 31, 78
(C) 14, 87, 30, 78
(D) 14, 86, 30, 78

Ans: D

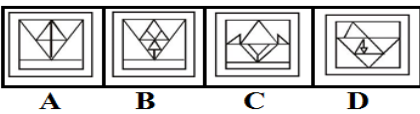
Q.25 From the given answer figures, select the one in which the question figure is hidden/embedded.

दी गयी उत्तर अकृतियों में से उस एक का चयन करे जो प्रश्न आकृति में सन्नहित है?

Question Figure/ प्रश्न आकृति:



Answer Figure/ उत्तर आकृति:



- (A) A
(B) B
(C) C
(D) D

Ans: B

Q.26 If L denotes X, M denotes ÷, P denotes + and Q denotes -, then find the value of 16L24M8P6Q2P3 =?

यदि L को X से इंगित किया जाये, M को ÷ से इंगित किया जाये P को + से इंगित किया जाये और Q को - से इंगित किया जाये तब 16L24M8P6Q2P3 मान क्या होगा?

- (A) 59
(B) 56
(C) 55
(D) 60

Ans: C

Q.27 K is the wife of R, G and P are brothers. G is the brother of R. How is K related to P? /

K, R की पत्नी है, G और P भाई हैं। G, R का भाई है K, P से कैसे संबंधित है?

- (A) Father
(B) Brother-in-law
(C) Brother
(D) Sister-in-law

Ans: D

Q.28 Arrange the following words according to the order given in the dictionary.

निम्नलिखित शब्दों का शब्दकोश में दिए गए क्रम के अनुसार व्यवस्थित करें।

1. Alligator 2. Allegation
3. Aliphatic 4. Alphabet
5. Alteration

- (A) 3,2,1,4,5
(B) 2,3,4,5,1
(C) 1,2,3,4,5
(D) 5,4,3,2,1

Ans: A

Q.29 From the given alternative words select the one which can/can't be formed using the letters of the given word? दिये गये विकल्पों में से उस शब्द को चुनिए जो प्रश्न में दिये गये शब्दों के अक्षरों का प्रयोग कर बनाया/नहीं बनाया जा सकता है।

NEWSPAPER

- (A) PIPE
(B) RAIN
(C) REVISE
(D) RENEW

Ans: D

Q.30 From the given alternative words select the one which can/can't be formed using the letters of the given word?

दिये गये विकल्पों में से उस शब्द को चुनिए जो प्रश्न में दिये गये शब्दों के अक्षरों का प्रयोग कर बनाया/नहीं बनाया जा सकता है।

DEPARTMENT

- (A) PATENT
(B) TENTED
(C) DEMORE
(D) TREAT

Ans: C

CLICK ON THIS VIDEO

