

# REASONING (TOP 30 QUESTIONS 07 SEPTEMBER 2018)

Q.1 WAIT

	0	1	2	3	4
0	A	E	F	G	L
1	H	B	I	J	K
2	M	A	C	B	C
3	D	E	F	D	L
4	H	I	J	K	E

	5	6	7	8	9
5	N	S	R	S	T
6	Q	O	T	U	X
7	W	X	P	U	V
8	Y	Z	Y	Q	X
9	Z	W	R	S	R

- (A) 75, 40, 21, 68 (B) 75, 40, 21, 59  
(C) 96, 21, 41, 59 (D) 98, 40, 66, 96

Ans: C

Q.2 Statements / कथन:

Some children are monkey. / कुछ बच्चे बंदर है।  
All monkey are parrot. / सभी बंदर तोता है।

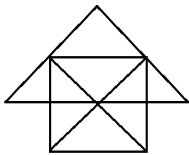
Conclusions / निष्कर्ष:

- (I) Some children are parrot. / कुछ बच्चे तोता है।  
(II) All children are not parrot. / सभी बच्चे तोता नहीं है।  
(A) Only I follows (B) None follows  
(C) Only II follow (D) Both I and II follow

Ans: A

Q.3 How many triangles are there in the following figure?

निम्नलिखित आकृति में त्रिभुज की संख्या ज्ञात करें?



- (A) 28 (B) 27 (C) 26 (D) 29

Ans: B

Q.4 In each of the following questions, a series is given, with one term missing choose the correct alternative from the given one that will complete the series.

एक अनुक्रम दिया गया है जिसमें एक आकृति लुप्त है चार दिए गए विकल्पों में से वह विकल्प चुनिए जो अनुक्रम को पूरा करे:

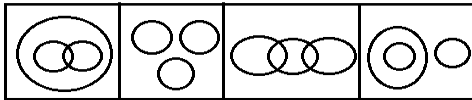
ace, gik, moq, suw, ?

- (A) ABC (B) YAC (C) DFH (D) YCE

Ans: B

Q.5 Select the figure which represents the relationship between Bed Cover, Pillow, and Quilt.

वह आकृति चुनिए जो बिस्तर कवर, तकिया, और रजाई के बीच संबंध दर्शाता है?



- (A) A (B) B (C) C (D) D

Ans: B

Q.6 If ÷ stands for 'addition', × stands for 'subtraction', - stands for 'division', + stands for 'multiplication', then  $4 \div 6 + 30 - 5 \times 8 = ?$

यदि ÷, 'जोड़' के लिए, ×, 'घटाव' के लिए, -, 'भाग' के लिए, +, 'गुणा' के लिए, के लिए है, तो

$$4 \div 6 + 30 - 5 \times 8 = ?$$

- (A) 40 (B) 36 (C) 32 (D) 16

Ans: C

Q.7 In the following questions, select the one which is different from the other three options:

प्रश्न में दिए गए चार विकल्पों में से कौन सा एक शेष तीन से भिन्न है:

- (A) 15, 13, 02 (B) 24, 01, 05 (C) 13, 16, 01 (D) 15, 15, 5

Ans: D

Q.8 In the following questions, select the one which is different from the other three options:

प्रश्न में दिए गए चार विकल्पों में से कौन सा एक शेष तीन से भिन्न है:

- (A) United Kingdom (B) Australia  
(C) Europe (D) North America

Ans: A

Q.9 In the following questions, select the one which is different from the other three options:

प्रश्न में दिए गए चार विकल्पों में से कौन सा एक शेष तीन से भिन्न है:

- (A) ILRO (B) CFLI (C) AGMJ (D) ORXU

Ans: C

Q.10 In the following question select the related Letter/ Word/ Number from the given alternatives:

निम्नलिखित में नीचे दिए गए विकल्पों में से सम्बंधित शब्द/ अक्षर/ संख्या ज्ञात कीजिए:  
 $5 : 56 :: 12 : ?$

- (A) 124 (B) 160 (C) 220 (D) 301

Ans: D

Q.11 In the following question select the related Letter/ Word/ Number from the given alternatives:

निम्नलिखित में नीचे दिए गए विकल्पों में से सम्बंधित शब्द/ अक्षर/ संख्या ज्ञात कीजिए:  
 $BFUA : AIPH :: KLPO : ?$

- (A) MNRT (B) JOKV (C) MNST (D) JOLV

Ans: B

Q.12 In the following question select the related Letter/ Word/ Number from the given alternatives:

निम्नलिखित में नीचे दिए गए विकल्पों में से सम्बंधित शब्द/ अक्षर/ संख्या ज्ञात कीजिए:  
Taka : Bangladesh :: Lira : ?

टका : बांग्लादेश :: लीरा : ?

- (A) Cambodia (B) Italy (C) India (D) Pakistan

Ans: B

Q.13 Which one set of letter when sequentially placed at the gaps in the given letter series shall complete it?

नीचे लिखे अक्षरों का कौन सा समूह खली स्थानों पर क्रमवार रखने से दी गई श्रंखला को पूरा करेगा:

aa \_ bbb \_ ccaab \_ bc \_ c

- (A) bbcc (B) bccc (C) cccb (D) acbc

Ans: D

Q.14 Which one set of letter when sequentially placed at the gaps in the given letter series shall complete it?

नीचे लिखे अक्षरों का कौन सा समूह खली स्थानों पर क्रमवार रखने से दी गई श्रंखला को पूरा करेगा:

bcc \_ bc \_ abcc \_ b \_ ca

- (A) acab (B) babc (C) acca (D) acac

Ans: D

Q.15 From the given alternative words, select the word which cannot be formed using the letters of the given word:

निम्नलिखित प्रश्नों में एक शब्द देकर उसके आगे चार अन्य शब्द दिए गए हैं। इनमें से एक दिए गए शब्द में अक्षरों द्वारा नहीं लिखा जा सकता है वह शब्द कौन सा है?

EXAMINATION

- (A) EXAMIN (B) NATION (C) NOTES (D) TONEA

Ans: C

Q.16 From the given alternative words, select the word which cannot be formed using the letters of the given word:

निम्नलिखित प्रश्नों में एक शब्द देकर उसके आगे चार अन्य शब्द दिए गए हैं। इनमें से एक दिए गए शब्द में अक्षरों द्वारा नहीं लिखा जा सकता है वह शब्द कौन सा है?

CREATION

- (A) RATION (B) CATION (C) TORRN (D) ACTION

Ans: C

Q.17 In a certain code TEACHER is written as XWPBRWN and HIGHLY is written as QSNRDZ, then how can CHARITY be written in that code?

यदि एक निश्चित कोड में TEACHER को XWPBRWN लिखा जाता है और HIGHLY को QSNRDZ लिखा जाता है, तो CHARITY को क्या लिखा जा सकता है?

- (A) BRPNSXZ (B) BRPMSDZ (C) BRPMSZB (D) BPRNSBZ

Ans: A

Q.18 In a certain code ERASER is written as IZIVHV, then how can SLIDES be written in that code?

यदि एक निश्चित कोड में PRECISE को FULCBPO लिखा जाता है, तो MONSOON को क्या लिखा जा सकता है?

- (A) HROWVH (B) HROVWH (C) GRLWVG (D) GROVVH

Ans: B

Q.19 In each of the following questions, a series is given, with one term missing choose the correct alternative from the given one that will complete the series.

एक अनुक्रम दिया गया है जिसमें एक आकृति लुप्त है चार दिए गए विकल्पों में से वह विकल्प चुनिए जो अनुक्रम को पूरा करे:

5, 6, 8, 12, 20, ?, 68

- (A) 36 (B) 22 (C) 28 (D) 30

Ans: A

Q.20 In each of the following questions, a series is given, with one term missing choose the correct alternative from the given one that will complete the series.

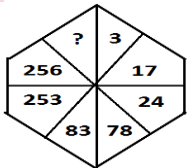
एक अनुक्रम दिया गया है जिसमें एक आकृति लुप्त है चार दिए गए विकल्पों में से वह विकल्प चुनिए जो अनुक्रम को पूरा करे:

5, 6, 9, 20, ?, 414

- (A) 960 (B) 1080 (C) 414 (D) 1920

Ans: C

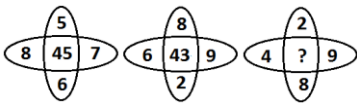
Q.21 In the questions, select the missing number from the given responses: प्रश्नों में, दिये गये विकल्पों से लुप्त संख्या को चुनिये:



- (A) 770 (B) 546 (C) 702 (D) 618

Ans: A

Q.22 In the questions, select the missing number from the given responses: प्रश्नों में, दिये गये विकल्पों से लुप्त संख्या को चुनिये:



- (A) 26 (B) 18 (C) 72 (D) 46

Ans: A

Q.23 In the questions, select the missing number from the given responses: प्रश्नों में, दिये गये विकल्पों से लुप्त संख्या को चुनिये:

18	21	24
3	9	3
6	4	8
21	26	?

- (A) 24 (B) 27 (C) 29 (D) 22

Ans: C

Q.24 Find out the set of number amongst the four sets of numbers given in the alternatives which is similar to the set given in question.

उत्तर विकल्पों में चार संख्या-समुच्चय दिये गये हैं, इनमें से उस संख्या-समुच्चय को पहचानें जो प्रश्न में दिये गये समुच्चय से अधिकतम मेल खाता हो।

Given Set - [32, 69, 153]

दिया गया समुच्चय- [32, 69, 153]

- (A) (2, 4, 15) (B) (7, 16, 85) (C) (17, 42, 84) (D) (19, 48, 108)

Ans: D

Q.25 A tourist drives 10 km towards west and turns to left and takes a drive of another 4 km. He then drives towards east another 4 km and then turns to his right and drives 5 km. Afterwards he turns to his left and travels 6 km. Finally turns left and drives 7 km. How far and in which direction starting point from that person?

एक पर्यटक पश्चिम की ओर 10 किमी सफर करता है और बायीं ओर घूमकर 4 किमी जाता है। इसके बाद वह पूर्व की ओर 4 किमी सफर करता है और फिर अपने दायें घूमकर 5 किमी का सफर करता है। बाद में वह अपने बायें ओर घूमकर 6 किमी की यात्रा करता है। प्रारंभिक बिंदु उस व्यक्ति से कितनी दूरी और किस देश में है?

- (A) 9 km West (B) 5 km South (C) 2 km North (D) 7 km East

Ans: C

Q.26 WHAT

	0	1	2	3	4
0	A	E	F	G	L
1	H	B	I	J	K
2	M	A	C	B	C
3	D	E	F	D	L
4	H	I	J	K	E

	5	6	7	8	9
5	N	S	R	S	T
6	Q	O	T	U	X
7	W	X	P	U	V
8	Y	Z	Y	Q	X
9	Z	W	R	S	R

- (A) 75, 40, 21, 68 (B) 75, 40, 21, 59  
(C) 58, 34, 66, 95 (D) 98, 40, 66, 96

Ans: B

Q.27 Statements / कथन:

All smart are cat. / सभी चालाक, बिल्ली है।

No cat is parrot. / कोई बिल्ली, तोता नहीं है।

Conclusions / निष्कर्ष:

(I) Some smart are not parrot. / (I) कुछ चालाक तोता नहीं है।

(II) Some smart are parrot. / (II) कुछ चालाक तोता है।

(III) Only I follows

(IV) None follows

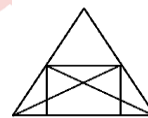
(V) Only II

(VI) Both I and II follow

Ans: A

Q.28 How many simple lines are there in the following figure?

निम्नलिखित आकृति में सरल रेखाओं की संख्या ज्ञात करें?



- (A) 12 (B) 9 (C) 18 (D) 10

Ans: B

Q.29 In the following questions, select the one which is different from the other three options:

प्रश्न में दिए गए चार विकल्पों में से कौन सा एक शेष तीन से भिन्न है:

- (A) 5, 13, 17 (B) 29, 1, 5  
(C) 13, 17, 5 (D) 15, 5, 5

Ans: D

Q.30 In the following questions, select the one which is different from the other three options:

प्रश्न में दिए गए चार विकल्पों में से कौन सा एक शेष तीन से भिन्न है:

- (A) Africa (B) Australia (C) Europe (D) Sri Lanka

Ans: D

CLICK ON THIS VIDEO

