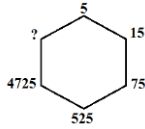


# REASONING (TOP 30 QUESTIONS 14 SEPTEMBER 2018)

- Q.1 Select the missing number from the given responses.  
दिये गये विकल्पों में से लुप्त संख्या ज्ञात कीजिए।



- (A) 61560 (B) 61570 (C) 51975 (D) 51870

Ans: C

- Q.2 A series is given with one/two term missing choose the correct alternative from the given ones that will complete the series.

दिये गये विकल्पों में से लुप्त संख्या/ अक्षर/ आकृति को ज्ञात कीजिए।  
850, 843, 829, 808, 780, ?

- (A) 456 (B) 745 (C) 812 (D) 766

Ans: B

- Q.3 A series is given with one/two term missing choose the correct alternative from the given ones that will complete the series.

दिये गये विकल्पों में से लुप्त संख्या/ अक्षर/ आकृति को ज्ञात कीजिए।  
33, 321, 465, 537, 573, 591, ?

- (A) 611 (B) 705 (C) 182 (D) 600

Ans: B

- Q.4 A series is given with one/two term missing choose the correct alternative from the given ones that will complete the series.

दिये गये विकल्पों में से लुप्त संख्या/ अक्षर/ आकृति को ज्ञात कीजिए।  
AXI, FTL, QPO, VLR, ?

- (A) AHV (B) BGT (C) AHU (D) KVP

Ans: C

- Q.5 If '+' means '÷', '÷' means '×', '×' means '-' and '-' means '+' then simplify-  
यदि चिन्ह '+' का अर्थ '÷', चिन्ह '÷' का अर्थ '×', चिन्ह '×' का अर्थ '-' और चिन्ह '-' का अर्थ '+' है तब हल कीजिए-

$$96 \div 4 \times 66 + 3 - 9 = ?$$

- (A) 369 (B) 368 (C) 371 (D) 360

Ans: C

- Q.6 In each of the following questions, select the related letter/word/number from the given alternatives. / दिए गए विकल्पों में से सम्बन्धित शब्द/ अक्षरों/ संख्या को चुनिए।  
DONE : EMQA :: TIME : ?

- (A) UGPB (B) UGPA (C) VHBP (D) AQGU

Ans: B

- Q.7 If sign '+' means '-', sign '×' means '÷', sign '÷' means '+' and sign '-' means '×' then simplify-

यदि चिन्ह '+' का अर्थ '-', चिन्ह '×' का अर्थ '÷', चिन्ह '÷' का अर्थ '+' और चिन्ह '-' का अर्थ '×' है तब हल कीजिए-

$$252 \times 9 - 5 + 32 \div 92 = ?$$

- (A) 168 (B) 192 (C) 200 (D) 147

Ans: C

- Q.8 Amit start from point A moves 20km north then turn 90° anti-clockwise direction and moves 20km then turn to right and moves 26km and reaches point B, now turn back and moves 36km now turn to left and move 15km and reaches point C, finally turn to right and moves 10km and reaches point D. अमित बिंदु A से 20 किमी उत्तर की ओर चलना शुरू करता है फिर 90° वामावर्त दिशा की ओर मुड़ता है और फिर 20km की ओर चलता है, अब वह बाएं मुड़ता है और 26 किमी की दूरी तय करता है और बिंदु B पर पहुंचता है, अब वह वापस मुड़ता है 36 किमी चलता है अब वह बायें मुड़ता है और 15 किमी चलता है और बिंदु C पर पहुंचता है, अंत में वह दाएं मुड़ता है और 10 किमी की दूरी तय करता है और बिंदु D पर पहुंचता है।

How far and which direction point A with respect to point D?

बिंदु D से बिंदु A कितनी दूरी और किस दिशा में है ?

- (A) East (B) West (C) North (D) South

Ans: A

- Q.9 If the 11th of a month is Saturday, then what will be the day on the 30th of the same month?

अगर किसी महीने की 11 तारीख को शनिवार है तो उसी महीने की 30 तारीख को कौन सा दिन होगा?

- (A) Monday / सोमवार (B) Thursday / गुरुवार  
(C) Tuesday / मंगलवार (D) Friday / शुक्रवार

Ans: B

- Q.10 Amit start from point A moves 30 km East, then turn left and moves 10 km, again he turn to left and moves 10 km, then he turn to right and moves 15 km moves, now he turn to left and moves 20 km, finally he turn to south and moves 17 km to reaches point B.

अमित बिंदु A से 30 किमी पूर्व की ओर चलना शुरू करता है, फिर बायें मुड़ता है और 10 किमी चलता है, फिर से वह बायें मुड़ता है और 10 किमी चलता है फिर वह दायें मुड़ता है और 15 किमी चलता है फिर बायें मुड़ता और 20 किमी चलता है आखरी में वह दक्षिण दिशा में 17 किमी चलता है और बिंदु B पर पहुंचता है।

How far point B with respect to point A?

बिंदु A से बिंदु B की दूरी कितनी होगी?

- (A) 8 km / किमी (B) 4 km / किमी (C) 9 km / किमी (D) 7 km / किमी

Ans: A

- Q.11 Statements/कथन:

All keyboard are mouse. / सभी कीबोर्ड माउस है।

Some mouse are laptop. / कुछ माउस लैपटॉप है।

All laptop are computer. / सभी लैपटॉप कंप्यूटर है।

Conclusions/ निष्कर्ष:

I. Some computers are Keyboard. / कुछ कंप्यूटर कीबोर्ड है।

II. Some mouse are computer./ कुछ माउस कंप्यूटर है।

(A) Only conclusion I follows

(B) Only conclusion II follows.

(C) Both conclusions I and II follow.

(D) Neither conclusion I nor II follows.

Ans: B

- Q.12 Select the missing number from the given responses.

दिये गये विकल्पों में से लुप्त संख्या ज्ञात कीजिए।

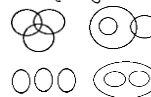
7	8	6
4	5	7
51	41	?
5	2	4

- (A) 73 (B) 56 (C) 47 (D) 28

Ans: A

- Q.13 Select the figure which represents the relationship between Police, Runners and Football Players.

वह आकृति चुनिए जो पुलिस, धावक और फुटबॉल खिलाड़ी योग्य के बीच संबंध दर्शाता है



- (A) A (B) B (C) C (D) D

Ans: A

- Q.14 In each of the following questions, Select the related letter/word/number from the given alternatives. / दिए गए विकल्पों में से सम्बन्धित शब्द/ अक्षरों/ संख्या को चुनिए।

North : South-East :: North-East : ?

उत्तर : दक्षिण-पूर्व :: उत्तर-पूर्व : ?

- (A) South (B) South-West (C) East (D) North-West

Ans: A

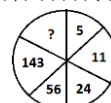
- Q.15 When will both hand of the clock make right angles between 3 and 4 o'clock? 3 और 4 बजे के बीच घड़ी की दोनों सूइयां कब समकोण बनाएंगी?

- (A) 3:05 and 3: (B) 3 and 3:40 (C) 3:07 and 3:32 (D) 3 and 3:

Ans: D

- Q.16 Select the missing number from the given responses.

दिये गये विकल्पों में से लुप्त संख्या ज्ञात कीजिए।



(A) 245 (B) 393 (C) 521 (D) 221

Ans: B

Q.17 The age of Pankaj is four times the age of his son. After 10 years, the age of Pankaj will be twice the age of his son. What is the present age of Pankaj's son?

पंकज की आयु उनके पुत्र की आयु की चार गुनी है। 10 वर्ष पश्चात पंकज की आयु उनके पुत्र की आयु से दुगुनी हो जाती है। पंकज के पुत्र की वर्तमान आयु क्या है?

(A) 8 (B) 7 (C) 5 (D) 6

Ans: C

Q.18 From the given alternative words, select the word which cannot be formed using the letters of the given word:

निम्नलिखित प्रश्नों में एक शब्द देकर उसके आगे 4 अन्य शब्द दिए गए हैं। इनमें से एक दिए गए शब्द में अक्षरों द्वारा नहीं लिखा जा सकता है वह शब्द कौन सा है?

CARDIOGRAM

(A) AEROGRAM (B) RADIO  
(C) DIAGRAM (D) CARGO

Ans: A


Q.19 Choose the correct alternative from given alternatives that will complete the series.

दिये हुये विकल्पों से सही विकल्प चुनें जो श्रृंखला को पूरा करेगा।

Question Figure / प्रश्न आकृति:



Answer Figure / उत्तर आकृति:



(A) A (B) B (C) C (D) D

Ans: A

Q.20 Find the odd word/letters/ number pair from the given alternatives. / दिए गए विकल्पों में से विषम शब्द/ अक्षरों/संख्या युग्म को चुनिए।

(A) Cockroach / तिलचट्टा (B) Termite / दीमक  
(C) Cough / खटमल (D) Bee / मधुमक्खी

Ans: D

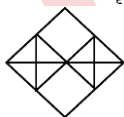
Q.21 If the day before yesterday was Sunday, then what will be the day after tomorrow?

यदि गत परसों का दिन रविवार था, तो आगामी परसों कौन सा दिन होगा?

(A) Monday / सोमवार (B) Thursday / गुरुवार  
(C) Tuesday / मंगलवार (D) Friday / शुक्रवार

Ans: B

Q.22 How many triangles and squares are there in the following figure?  
निम्नलिखित आकृति में त्रिभुजों और वर्ग की संख्या ज्ञात करें।



(A) 18, 06 (B) 17, 08 (C) 18, 05 (D) 15, 10

Ans: C

Q.23 In each of the following questions, Select the related letter/word/number from the given alternatives. / दिए गए विकल्पों में से सम्बन्धित शब्द/ अक्षरों/ संख्या को चुनिए।  
Ammeter : power-stream :: Potential difference : ?

एमीटर : विद्युत-धारा :: विभवांतर : ?

(A) Reggae / रेगगेज (B) Planimeter / प्लेनोमीटर  
(C) Lactometer / लैक्टोमीटर (D) Voltmeter / वोल्टमीटर

Ans: D

Q.24 In each of the following questions, select the related letter/word/number from the given alternatives. / दिए गए विकल्पों में से सम्बन्धित शब्द/ अक्षरों/ संख्या को चुनिए।  
DRIVE : ETLZJ :: PARTY : ?

(A) XDPCU (B) QCUXD (C) QCWXD (D) TRACKE

Ans: B

Q.25 In each of the following questions, Select the related letter/word/number from the given alternatives. / दिए गए विकल्पों में से सम्बन्धित शब्द/ अक्षरों/ संख्या को चुनिए।  
74 : 133 :: 225 : ?

(A) 345 (B) 256 (C) 442 (D) 353

Ans: D

Q.26 Find the odd word/letters/ number pair from the given alternatives. / दिए गए विकल्पों में से विषम शब्द/ अक्षरों/संख्या युग्म को चुनिए।

(A) Sitar / सितार (B) Flute / फ्लूट (C) Violin / वायलिन (D) Santoor / संतूर

Ans: B

Q.27 Find the odd word/letters/ number pair from the given alternatives. / दिए गए विकल्पों में से विषम शब्द/ अक्षरों/संख्या युग्म को चुनिए।

(A) 68 (B) 88 (C) 102 (D) 238

Ans: B

Q.28 Find the odd word/letters/ number pair from the given alternatives. / दिए गए विकल्पों में से विषम शब्द/ अक्षरों/संख्या युग्म को चुनिए।

(A) RNTPT (B) PRSU (C) BDEG (D) KMNP

Ans: A

Q.29 Find out the set of number amongst the four sets of numbers given in the alternatives which is similar to the set given in question.

उत्तर विकल्पों में चार संख्या-समुच्चय दिये गये हैं, इनमें से उस संख्या-समुच्चय को पहचानें जो प्रश्न में दिये गये समुच्चय से अधिकतम मेल खाता हो।

Given set: (9, 70, 38)

दिया गया समुच्चय: (9, 70, 38)

(A) (5, 30, 12) (B) (6, 25, 38) (C) (8, 64, 100) (D) (7, 48, 55)

Ans: B

Q.30 Which set of letters when sequentially placed at the gaps in the given letters series shall complete it?

अक्षरों का कौन सा समूह खाली स्थानों पर क्रमवार रखने से दी गई अक्षर श्रृंखला को पूरा करेगा?  
do ed ne o e one o

(A) nodndd (B) nodnee (C) noeedd (D) nondnd

Ans: B

CLICK ON THIS VIDEO

