

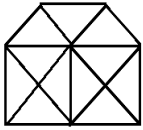
# REASONING (21 AUGUST 2018)

## TOP 20

Q.1 Statements / कथन:  
 All girls are beautiful. / सभी लड़कियां सुन्दर हैं  
 Some beautiful are intelligent. / कुछ सुन्दर बुद्धिमान हैं  
 Conclusions / निष्कर्ष: : I. Some intelligent are girls. / कुछ बुद्धिमान लड़कियां हैं  
 II. Some beautiful is a girls. / कुछ सुन्दर लड़की है  
 (A) Only conclusion I follows.  
 (B) Only conclusion II follows.  
 (C) Both conclusions I and II follow.  
 (D) Neither conclusion I nor II follows.

Ans: B

Q.2 How many triangles are there in the following figure?  
 निम्नलिखित आकृति में त्रिभुजों की संख्या ज्ञात करें?




- (A) 21
- (B) 22
- (C) 20
- (D) 18

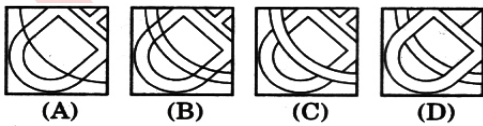
Ans: A

Q.3 From the given answer figures, select the one in which the question figure is hidden/embedded.  
 दी गयी उत्तर अकृतियों में से उस एक का चयन करें जो प्रश्न आकृति में सन्निहित है?

Question Figure/ प्रश्न आकृति:



Answer Figure/ उत्तर आकृति:

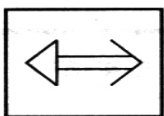


- (A) A
- (B) B
- (C) C
- (D) D

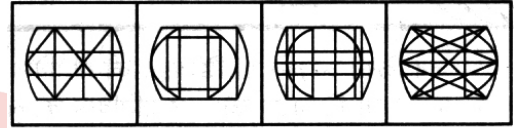
Ans: C

Q.4 Which answer figure will be complete the pattern in the question figure?  
 कौन सी उत्तर आकृति प्रश्न आकृति के प्रतिरूप को पूरा करेगी?

Question Figure/ प्रश्न आकृति:



Answer Figure/ उत्तर आकृति:

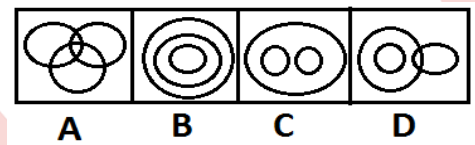


- (A) A
- (B) B
- (C) C
- (D) D

Ans: A

Q.5 Select the figure which represents the relationship between Earth, Satellites and Solar system.

वह आकृति चुनिए जो पृथ्वी, उपग्रह और सौर प्रणाली योग्य के बीच संबंध दर्शाता है



- (A) A
- (B) B
- (C) C
- (D) D

Ans: C

Q.6 In the following question select the related Letter/ Word/ Number from the given alternatives:

निम्नलिखित में नीचे दिए गए विकल्पों में से सम्बंधित शब्द/ अक्षर / संख्या ज्ञात कीजिए:

5 : 56 :: 12 : ?

- (A) 124
- (B) 160
- (C) 220
- (D) 301

Ans: D

Q.7 In the following question select the related Letter/ Word/ Number from the given alternatives:

निम्नलिखित में नीचे दिए गए विकल्पों में से सम्बंधित शब्द/ अक्षर / संख्या ज्ञात कीजिए: BFUA : AIPH :: KLPO : ?

- (A) MNRT
- (B) JOKV
- (C) MNST
- (D) JOLV

Ans: B

Q.8 In the following question select the related Letter/ Word/ Number from the given alternatives:

निम्नलिखित में नीचे दिए गए विकल्पों में से सम्बंधित शब्द/ अक्षर / संख्या ज्ञात कीजिए:

Taka : Bangladesh :: Lira : ?

टका : बांग्लादेश :: लीरा : ?

- (A) Cambodia / कम्बोडिया  
 (B) Italy / इटली  
 (C) India / भारत  
 (D) Pakistan / पाकिस्तान

Ans: B

Q.9 Which one set of letter when sequentially placed at the gaps in the given letter series shall complete it?

नीचे लिखे अक्षरों का कौन सा समूह खली स्थानों पर क्रमवार रखने से दी गई श्रंखला को पूरा करेगा:

aa \_ bbb \_ ccaab \_ bc \_ c

- (A) bbcc  
 (B) bccc  
 (C) cccb  
 (D) acbc

Ans: D

Q.10 Which one set of letter when sequentially placed at the gaps in the given letter series shall complete it?

नीचे लिखे अक्षरों का कौन सा समूह खली स्थानों पर क्रमवार रखने से दी गई श्रंखला को पूरा करेगा: bcc \_ bc \_ abcc \_ b \_ ca

- (A) acab  
 (B) babc  
 (C) acca  
 (D) acac

Ans: D

Q.11 From the given alternative words, select the word which cannot be formed using the letters of the given word:

निम्नलिखित प्रश्नों में एक शब्द देकर उसके आगे चार अन्य शब्द दिए गए हैं। इनमें से एक दिए गए शब्द में अक्षरों द्वारा नहीं लिखा जा सकता है वह शब्द कौन सा है ?

EXAMINATION

- (A) EXAMIN  
 (B) NATION  
 (C) NOTES  
 (D) TONEA

Ans: C

Q.12 From the given alternative words, select the word which cannot be formed using the letters of the given word:

निम्नलिखित प्रश्नों में एक शब्द देकर उसके आगे चार अन्य शब्द दिए गए हैं। इनमें से एक दिए गए शब्द में अक्षरों द्वारा नहीं लिखा जा सकता है वह शब्द कौन सा है ?

CREATION

- (A) RATION  
 (B) CATION  
 (C) TORRN  
 (D) ACTION

Ans: C

Q.13 In a certain code TEACHER is written as XWPBRWN and HIGHLY is written as RSMRDZ, then how can CHARITY be written in that code?

यदि एक निश्चित कोड में TEACHER को XWPBRWN लिखा जाता है और HIGHLY को RSMRDZ लिखा जाता है, तो CHARITY को क्या लिखा जा सकता है?

- (A) BRPMSXZ  
 (B) BRPMSDZ  
 (C) BRPMSZB  
 (D) BPRNSBZ

Ans: A

Q.14 In a certain code ERASER is written as IZIVHV, then how can SLIDES be written in that code?

यदि एक निश्चित कोड में PRECISE को FULCBPO लिखा जाता है, तो MONSOON को क्या लिखा जा सकता है ?

- (A) HROWVH  
 (B) HROVWH  
 (C) GRLWVG  
 (D) GROVVH

Ans: B

Q.15 In each of the following questions, a series is given, with one term missing choose the correct alternative from the given one that will complete the series.

एक अनुक्रम दिया गया है जिसमें एक आकृति लुप्त है चार दिए गए विकल्पों में से वह विकल्प चुनिए जो अनुक्रम को पूरा करे:

5, 6, 8, 12, 20, ?, 68

- (A) 36  
 (B) 22  
 (C) 28  
 (D) 30

Ans: A

Q.16 In each of the following questions, a series is given, with one term missing choose the correct alternative from the given one that will complete the series.

एक अनुक्रम दिया गया है जिसमें एक आकृति लुप्त है चार दिए गए विकल्पों में से वह विकल्प चुनिए जो अनुक्रम को पूरा करे:

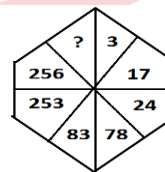
5, 6, 9, 20, ?, 414

- (A) 960  
 (B) 1080  
 (C) 414  
 (D) 1920

Ans: C

Q.17 In the questions, select the missing number from the given responses:

प्रश्नों में, दिये गये विकल्पों से लुप्त संख्या को चुनिये:

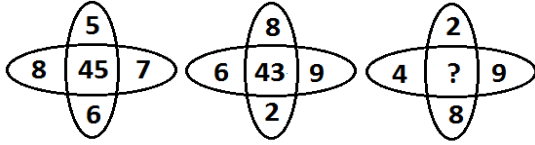


- (A) 770  
 (B) 546  
 (C) 702  
 (D) 618

Ans: A

Q.18 In the questions, select the missing number from the given responses:

प्रश्नों में, दिये गये विकल्पों से लुप्त संख्या को चुनिये:



- (A) 26
- (B) 18
- (C) 72
- (D) 46

Ans: A

Q.19 In the questions, select the missing number from the given responses:

प्रश्नों में, दिये गये विकल्पों से लुप्त संख्या को चुनिये:

18	21	24
3	9	3
6	4	8
21	26	?

- (A) 24
- (B) 27
- (C) 29
- (D) 22

Ans: C

Q.20 Find out the set of number amongst the four sets of numbers given in the alternatives which is similar to the set given in question.

उत्तर विकल्पों में चार संख्या-समुच्चय दिये गये हैं, इनमें से उस संख्या-समुच्चय को पहचानें जो प्रश्न में दिये गये समुच्चय से अधिकतम मेल खाता हो

Given Set - [32, 69, 153]

दिया गया समुच्चय- [32, 69, 153]

- (A) (2, 4, 15)
- (B) (7, 16, 85)
- (C) (17, 42, 84)
- (D) (19, 48, 108)

Ans: D