

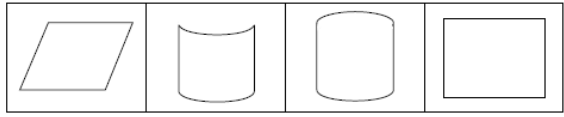


- Q.1 X and Y both are children of Z. If Z is the father of X, but Y is not the son of Z, so what is the relation between Y and Z?
X और Y दोनों Z के बच्चे हैं। यदि Z, X का पिता है, परन्तु Y, Z का पुत्र नहीं है, तो Y और Z में क्या सम्बन्ध है ?
(A) Daughter and Father / पुत्री तथा पिता
(B) Sister and Brother / बहन तथा भाई
(C) Niece and Uncle / भतीजी तथा चाचा
(D) Niece and Maternal Uncle / भौंजी तथा मामा
- Q.2 If + and ÷, 2 and 4 are interchanged so which of the following equation will be true?
यदि + तथा ÷ को तथा 2 व 4 को आपस में बदल दिया जाए तो निम्नलिखित समीकरणों में कौन सा सत्य है ?
(A) $4 \div 2 + 3 = 4$ (B) $2 + 4 \div 6 = 8$
(C) $4 + 2 \div 6 = 1.5$ (D) $2 + 4 \div 3 = 3$
- Q.3 If 'sky' is called 'black', 'black' is called 'water', 'water' is called 'green', 'green' is called 'cloud', 'cloud' is called 'blue', 'blue' is called 'ground', 'ground' is called 'red', so where do fishes live?
यदि 'आसमान' को 'काला' कहा जाए, 'काला' को 'जल' कहा जाए, 'जल' को 'हरा' कहा जाए, 'हरा' को 'बादल' कहा जाए, 'बादल' को 'नीला' कहा जाए, 'नीला' को 'जमीन' कहा जाए, 'जमीन' को 'लाल' कहा जाए तो मछलियाँ कहाँ रहेंगी ?
(A) Black / काला (B) Green / हरा
(C) Blue / नीला (D) Red / लाल
- Q.4 Human : walking :: Fish : ?
मनुष्य : चलना :: मछली : ?
(A) Swim / तैरना (B) Eat / खाना
(C) Fly / उड़ना (D) Run / दौड़ना
- Q.5 Which of the following word cannot be formed from the word **CLASSIFICATION**?
दिए गए शब्द को पहचाने जो **CLASSIFICATION** के अक्षरों से नहीं बन सकता
(A) FICTION (B) ACTION
(C) NATION (D) LIAISON
- Q.6 Which of the following Venn-diagram represents the correct relationship between 'Building', 'Long' and 'Human'?
निम्नलिखित में कौन सा चित्र 'भवन', 'लम्बा' और 'आदमी' के सम्बन्ध को दर्शाता है ?

(A) (B) (C) (D)
- Q.7 Find the odd one out:-
विषम को ढूँढे:-
(A) Petrol / पेट्रोल (B) Coal / कोयला
(C) Tide / ज्वार-भाटा (D) Soil / मिट्टी
- Q.8 A series is given with one term missing choose the correct alternative from the given ones that will complete the series:

- शृंखला में एक पद लुप्त है, जो शृंखला को पूरा कर सके उस सही विकल्प को चुनिए:
ab_d_aaba_na_b adna_b
(A) dbanb (B) andaa
(C) dabnd (D) andad
- Q.9 In a shoes there is always---?
एक जूते में हमेशा होता है---?
(A) Lace / फीता (B) Leather / चमड़ा
(C) Sole / सोल (D) Tongue / जीभ
- Q.10 If Ram and Shyam in a morning were standing in front of each other and talking, so Ram's shadow was towards Shyam's right. Then in which direction was Shyam facing?
यदि राम और श्याम सुबह के वक्त एक-दूसरे के आमने-सामने खड़े होकर बात कर रहे थे जिससे राम की छाया श्याम के दाहिनी ओर बन रही थी श्याम किस दिशा में देख रहा था ?
(A) East / पूर्व (B) West / पश्चिम
(C) North / उत्तर (D) South / दक्षिण
- Q.11 Which of the following Venn-diagram represents the correct relationship between 'Husband', 'Wife' and 'Family'?
कौन सा आरेख दिए गए तीन वर्ग 'पति', 'पत्नी' तथा 'परिवार' के बीच सम्बन्ध को सही तौर पर दर्शाता है ?

(A) (B) (C) (D)
- Q.12 If day before yesterday was Saturday, so what will be day after tomorrow?
यदि बीता हुआ परसों शनिवार था, तो आने वाला परसों कौन सा दिन होगा ?
(A) Friday / शुक्रवार (B) Tuesday / मंगलवार
(C) Thursday / बृहस्पतिवार (D) Wednesday / बुधवार
- Q.13 Lucknow : Uttar Pradesh :: Ranchi : ?
लखनऊ : उत्तर प्रदेश :: राँची : ?
(A) Odisha / ओड़िशा (B) Jharkhand / झारखण्ड
(C) Uttarakhand / उत्तराखण्ड (D) Chhattisgarh / छत्तीसगढ़
- Q.14 Find the odd one out:-
निम्नलिखित में से उसे चुनें जो अन्य विकल्पों से भिन्न है।

(A) (B) (C) (D)
- Q.15 How many formation does the Ducks can form while swimming, if there are two ducks before one duck, or two ducks after one duck or one duck between two ducks?

कितने बतखे कम से कम संख्या में फार्मेशन बना कर तैर सकती है, यदि एक बतख के आगे दो बतखे है और बतख के पीछे दो बतखे है और दो बतखों के बीच में एक बतख हो ?

- (A) Three / तीन (B) Four / चार
(C) Five / पाँच (D) Six / छः

Q.16 A series is given with one term missing choose the correct alternative from the given ones that will complete the series:
श्रृंखला में एक पद लुप्त है, जो श्रृंखला को पूरा कर सके उस सही विकल्प को चुनिए:
5, 41, 149, 329, ?

- (A) 581 (B) 831
(C) 501 (D) 402

Q.17 Once returning at night after watching cinema you found some goons following two girls, so what will you do?

आप रात को सिनेमा देखकर आ रहे है और अचानक आप देखते है कि कुछ गुंडे दो लड़कियों का पीछा कर रहे है तो आप क्या करेंगे ?

- (A) You tell the goons to go away from it or be prepared to suffer the consequences. आप गुंडों से कहते हैं कि वहाँ से चले जाए या इसका नतीजा भुगतने को तैयार रहें।
(B) You go with the girls and leave them to the house. आप लड़कियों के साथ जाकर उन्हें घर तक छोड़ देते हैं।
(C) You gather the surrounding people to get rid of the goons. आप आसपास के लोगों को इकट्ठा करते है ताकि गुंडों से छुटकारा पाया जाए।
(D) You go out looking silently. आप चुपचाप देखते हुए निकल जाते हैं।

Q.18 CK: JF:: GT: ?

- (A) M N (B) O P
(C) L M (D) NO

Q.19 If the circumference of a circle is 3 times higher than the small circle whose radius is 2 inches, what will be the radius of the big circle?

अगर एक वृत्त की परिधि 3 गुना ज्यादा है छोटे वृत्त से जिसकी त्रिज्या 2 इंच है तो बड़े वृत्त की त्रिज्या क्या होगी ?

- (A) 12 इंच (B) 10 इंच
(C) 8 इंच (D) 6 इंच

Q.20 The speed of the pendulum: Periodic momentum:: clock hands: ?

- लोलक की गति : आवर्त गति :: घड़ी की सुई :
(A) Straight Speed / सरल गति
(B) Circular motion / वृत्तीय गति
(C) Simple spiral speed / सरल वर्तुल गति
(D) The motion of the plane / समतल गति

ANSWER KEY

Q.1. (A) Daughter and Father / पुत्री तथा पिता

Q.2. (B) $2 + 4 \div 6 = 8$

Q.3. (B) Green / हरा

Q.4. (A) Swim / तैरना

Q.5. (C) NATION

Q.6. (C) C

Q.7. (D) Soil / मिट्टी

Q.8. (B) andaa

Q.9. (C) Sole / सोल

Q.10. (D) South / दक्षिण

Q.11. (C) C

Q.12. (D) Wednesday / बुधवार

Q.13. (B) Jharkhand / झारखण्ड

Q.14. (C) C

Q.15. (A) Three / तीन

Q.16. (A) 581

Q.17. (B) You go with the girls and leave them to the house. आप लड़कियों के साथ जाकर उन्हें घर तक छोड़ देते हैं।

Q.18. (D) NO

Q.19. (D) 6 इंच

Q.20. (B) Circular motion / वृत्तीय गति

CLICK ON THIS VIDEO

