



Mahendra's



SSC CGL EXAM

REASONING

10:00 AM

MOST EXPECTED PAPER

BASED ON

3RD & 4TH MARCH

DAY 61



RITIKA MAHENDRAS

<https://t.me/joinchat/AAAAAFIFrmfglJslepg3yg>



Mahendra's

ENSURE YOUR SUCCESS WITH- VIDEO GURU



A COMPLETE VIDEO CLASS
FOR YOUR PREPARATION

Subscribe
BUTTON



BOOST YOUR PREPARATIONS WITH MAHENDRAS: **STUDY MATERIAL, E-MICA, E-NEWS, BAGS & MUCH MORE.** VISIT NOW: myshop.mahendras.c

**HOLI
OFFER**



50% OFF

USE CODE HOLI50

7th MAR 12:00 AM **TO** **12th MAR 11:59 PM**

BUY NOW

myshop.mahendras.org

Mahendra's

ENSURE YOUR SUCCESS WITH- VIDEO GURU



**A COMPLETE VIDEO CLASS
FOR YOUR PREPARATION**

**Subscribe
BUTTON**

BOOST YOUR PREPARATIONS WITH MAHENDRAS: STUDY MATERIAL, E-MICA, E-NEWS, BAGS & MUCH MORE. VISIT NOW: myshop.mahendras.org

1.

A bear runs 30 meters towards East and turns to the right, runs 40 meters and turns to left, runs 19 meters and again turns to left, run 15 meters and then turns to left, runs 2 meters and turns to left and runs 16 meters. Now, which direction is the bear facing?

एक भालू 30 मीटर पूर्व में दौड़ता है और दायें मुड़ता है 40 मीटर दौड़ता है और बायें मुड़ता है 19 मीटर दौड़ता है और दुबारा बायें मुड़ता है, 15 मीटर दौड़ता है और फिर बायें मुड़ता है, 2 मीटर दौड़ता है और बायें मुड़ता है और 16 मीटर दौड़ता है। अब भालू का मुँह किस दिशा में है?



- (1) East / पूर्व
- (2) South / दक्षिण
- (3) West / पश्चिम
- (4) North / उत्तर

2.

Select the related Letter/ Word/ Number from the given alternatives.
नीचे दिए गए विकल्पों में से सम्बंधित शब्द/ अक्षर / संख्या ज्ञात कीजिए।

Springy/ लचीला : Tough/ कठोर :: Assuredness/ आत्मविश्वास : ?



(1) Diffidence / संशय

(2) Indifference / उदासीनता

(3) Cowardice / कायरता

(4) Scare / डराना

3. If the day before yesterday was Saturday, then what will be the day after tomorrow?

यदि गत परसों का दिन शनिवार था, तो आगामी परसों कौन-सा दिन होगा?



- (1) Monday / सोमवार
- (2) Thursday / गुरुवार
- (3) Tuesday / मंगलवार
- (4) Wednesday/ बुधवार

4.

From the given alternative words, select the word which cannot be formed using the letters of the given word.

दिए गए वैकल्पिक शब्दों से, उस शब्द का चयन करें जिसे दिए गए शब्द के अक्षरों का उपयोग करके गठित नहीं किया जा सकता है।

INDOCTRINATION



(1) DOCTOR

(2) INDIA

(3) RARE

(4) NATION

5. Select the related Letter/ Word/ Number from the given alternatives.

दिए गए विकल्पों में से सम्बंधित शब्द/अक्षर / संख्या ज्ञात कीजिए।

UNDATED : 2114412054 : : CORRECT : ?

A. 31518185320

B. 31518185321

C. 11518185320

D. 31518185120



6.

If Z means +, R means -, A means \times and B means \div then-
यदि Z का अर्थ +, R का अर्थ -, A का अर्थ \times और B का अर्थ \div है तो-

$$8 A 13 Z 510 B 3 R 9 = ?$$

(1) 168

(2) 117

(3) 130

(4) 265



7.

Which one set of the letter when sequentially placed at the gaps in the given letter series shall complete it?

नीचे लिखे अक्षरों का कौन सा समूह खाली स्थानों पर क्रमवार रखने पर वह दी गई श्रृंखला को पूरा करेगा?

o _ po _ r _ qopp _ q _ rq

(1) Prqoq

(2) oqqro

(3) pqrrq

(4) pqrqr



8.

Select the missing number from the given responses.
दिये गये विकल्पों में से लुप्त संख्या ज्ञात कीजिए।

408	52	395
129	?	122

A. 25

B. 28

C. 35

D. 45



9. Select the one which is different from the other three options.
उस एक का चयन करें जो अन्य तीन विकल्पों से भिन्न है।



A. 500

B. 661

C. 200

D. 471

10.

Arrange the following words in a logical sequence.

निम्नलिखित शब्दों को तार्किक अनुक्रम में व्यवस्थित करें।

1. Sleep/विश्राम करना

2. Breakfast/नाश्ता

3. Brush/ ब्रश

4. Lunch/ लंच

5. Dinner/ रात्रिभोज



(1) 1, 2, 3, 5, 4

(2) 5, 1, 3, 4, 2

(3) 5, 3, 1, 4, 2

(4) 3, 2, 4, 5, 1

11. Select the one which is different from the other three options.

उस एक का चयन करें जो अन्य तीन विकल्पों से भिन्न है।



(1) Brighten-8

(2) Lighten-7

(3) Written-6

(4) Weaken-6

12. Shashi is 2 years older than Sunita, Sunita is 3 years older than Bindu, Shekhar is 1 year older than the Bindu. Who is the smallest?
शशि, सुनीता से 2 वर्ष बड़ी है, सुनीता, बिंदु से 3 वर्ष बड़ी है, शेखर, बिंदु से 1 वर्ष बड़ा है। कौन सबसे छोटा है?



- (1) Shashi / शशि
- (2) Sunita / सुनीता
- (3) Bindu / बिंदु**
- (4) Shekhar / शेखर

13.

How many such pairs of letters are there in the word '**HISTORICAL**' each of which has as many letters between them in the word as they have between them in the English alphabet?

शब्द '**HISTORICAL**' में अक्षरों के ऐसे कितने युग्म हैं जिनमें से प्रत्येक के बीच शब्द में उतने ही अक्षर हैं जितने कि उनके बीच अंग्रेजी वर्णमाला में होते हैं?

A. Six/ छः

B. Nine / नौ

C. Seven / सात

D. Ten / दस



14.

Select the one which is different from the other three options.

उस एक का चयन करें जो अन्य तीन विकल्पों से भिन्न है।



(1) DFIMR

(2) CEHLQ

(3) GILPU

(4) HJMPT

15. Select the related Letter/ Word/ Number from the given alternatives.
दिए गए विकल्पों में से सम्बंधित शब्द/ अक्षर / संख्या ज्ञात कीजिए।

Labourer : Wages :: Teacher : ?/ मजदूर : मजदूरी :: अध्यापक : ?



- (1) Proprietorship/स्वामित्व
- (2) Salary/वेतन
- (3) Bonus/बोनस
- (4) Profit/लाभ

16. Select the related Letter/ Word/ Number from the given alternatives.
दिए गए विकल्पों में से सम्बंधित शब्द/ अक्षर / संख्या ज्ञात कीजिए।

172 : 1376 :: 428 : ?

(1) 4332

(2) 1928

(3) 2404

(4) 3424



17. Select the related Letter/ Word/ Number from the given alternatives.
दिए गए विकल्पों में से सम्बंधित शब्द/ अक्षर / संख्या ज्ञात कीजिए।

BCJ/O : AFK/R :: CDE/L : ?



- (1) DEF/P
- (2) DEF/M
- (3) TAC/X**
- (4) CET/E

18. What is the product of the numbers from 13 to 19?
13 से 19 तक के अंकों का गुणनफल क्या है?



(1) 253955522

(2) 253955526

(3) 253955521

(4) 253955520

19.

What is the code for '**DEALE**'?
'**DEALE**' का कोड क्या है?

Matrix/आव्यूह I

Matrix/-आव्यूह II

	0	1	2	3	4
0	C	B	O	A	T
1	A	C	T	B	O
2	B	O	A	T	C
3	T	C	B	O	A
4	O	A	T	C	B

	5	6	7	8	9
5	R	E	K	D	L
6	D	L	R	E	K
7	E	K	D	L	R
8	L	R	E	K	D
9	K	D	L	R	E

(1) 58, 87, 22, 97, 75

(2) 58, 85, 22, 97, 74

(3) 58, 85, 22, 97, 74

(4) 58, 87, 22, 96, 75



20.

Select the related Letter/ Word/ Number from the given alternatives.

दिए गए विकल्पों में से सम्बंधित शब्द/ अक्षर / संख्या ज्ञात कीजिए।

Traveller : Journey : : Sailor : ?/यात्री: यात्रा:: नाविक : ?

(1) Ship/जहाज

(2) Crew/क्रू

(3) Water/जल

(4) Voyage/जलयात्रा



22. Select the figure that will come next in the following figure series.
उस आकृति का चयन करें जो अगले आकृति श्रृंखला में आएगी।



- (1) 216
- (2) 114
- (3) 100
- (4) 512**



24.

Select the missing number from the given responses.

दिये गये विकल्पों में से लुप्त संख्या ज्ञात कीजिए।



4	5	6
3	4	?
2	1	2
18	20	24

(1) 8

(2) 4

(3) 2

(4) 6

25. Find out the set of number amongst the four sets of numbers given in the alternatives which are similar to the set given in the question.

उत्तर विकल्पों में चार संख्या-समुच्चय दिये गये हैं, इनमें से उस संख्या-समुच्चय को पहचानें जो प्रश्न में दिये गये समुच्चय से अधिकतम मेल खाता हो।

Given Set/दिया गया समुच्चय- [14, 56, 196]



(1) (2, 4, 4)

(2) (9, 36, 81)

(3) (7, 15, 49)

(4) (9, 33, 81)

26.

Select the one which is different from the other three options.

उस एक का चयन करें जो अन्य तीन विकल्पों से भिन्न है।



- (1) IMTD
- (2) CGNX
- (3) AELV
- (4) ORYJ

27.

Statements/कथन : All sparrows are cuckoo./सभी गौरैया, कोयल है।
No cuckoo is parrot./कोई कोयल, तोता नहीं है।

Conclusions/निष्कर्ष:

(I) No sparrow is parrot./ कोई गौरैया, तोता नहीं है।

(II) Some sparrows are parrot./ कुछ गौरैया, तोता है।



(1) Only I follows/केवल I अनुसरण करता है।

(2) None follows/कोई भी अनुसरण नहीं करता है।

(3) (Only II follows/केवल II अनुसरण करता है।

(4) (Both I and II follow/दोनों I और II अनुसरण करता है।

28. In a certain code **IZRODZBH** is written as **6840**, then how can **KLHRGREV** be written in that code?

यदि एक निश्चित कोड में **IZRODZBH** को **6840** लिखा जाता है, तो **KLHRGREV** को क्या लिखा जा सकता है?



- (1) 5293
- (2) 3448
- (3) 4952
- (4) 2131

30.

IF $133 = 6$, $624 = 26$, $813 = 25$ and $192 = 11$ then $713 = ?$
यदि $133 = 6$, $624 = 26$, $813 = 25$ और $192 = 11$ तो $713 = ?$



(1) 17

(2) 35

(3) 20

(4) 22

31. If the day before yesterday was Saturday, then what will be the day after tomorrow?

यदि गत परसों का दिन शनिवार था, तो आगामी परसों कौन-सा दिन होगा?



- (1) Monday / सोमवार
- (2) Thursday / गुरुवार
- (3) Tuesday / मंगलवार
- (4) Wednesday/ बुधवार

32.

11

23

15

231

713

?

21

31

17



(1) 255

(2) 218

(3) 137

(4) 239

33

Which face is opposite to 3?

कौन सा सतह 3 के विपरीत है?



1. 2

2. 1

3. 4

4. 5

00:20



33


Select the set in which the numbers are related in the same way as are the numbers of the following set.

उस सेट का चयन करें जिसमें नंबर उसी तरह से संबंधित हैं जैसे कि निम्नलिखित सेट के नंबर हैं।

(9,15,27)



- A. (6,9 ,18)
- B. (15,25,35)
- C. (21,35,56)
- D. (12,20,36)



34

Arrange the following words in a logical and meaningful order.

निम्नलिखित शब्दों को एक तार्किक और सार्थक क्रम में व्यवस्थित करें।

1. Salary/वेतन

2. Recruitment/भर्ती

3. Education/शिक्षा

4. Promotion/पदोन्नति

5. School/विद्यालय

6. Employment/रोजगार



A. 5,3,2,6,1,4

B. 5,3,2,6,4,1

C. 5,3,4,1,2,6


D. 3,5,4,2,6,1



35

Here 4 positions of a cube are shown. Which sign will be opposite to 'O'?

यहाँ एक घन के 4 पदों को दिखाया गया है। कौन सा चिन्ह 'O' के विपरीत होगा?

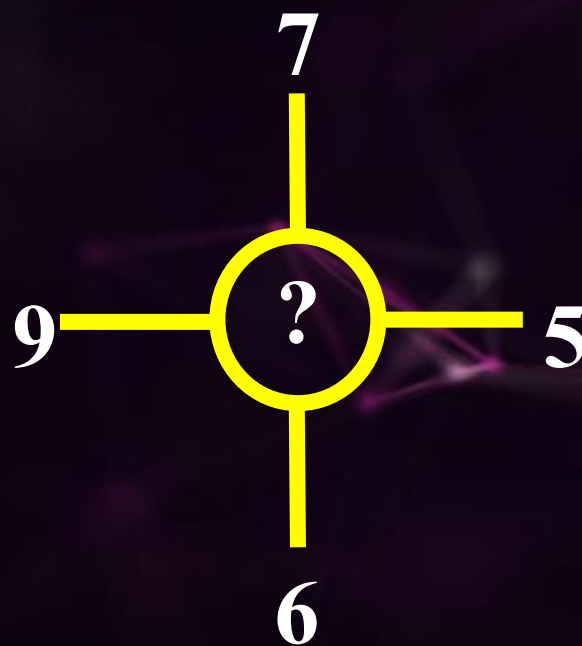
1. \times 2. $+$ 4. \div 

00:20

36.

Select the missing number from the given responses.

दिये गये विकल्पों में से लुप्त संख्या ज्ञात कीजिए।



(1) 19

(2) 89

(3) 27

(4) 69

29.

Select the related Letter/ Word/ Number from the given alternatives.

दिए गए विकल्पों में से सम्बंधित शब्द/ अक्षर / संख्या ज्ञात कीजिए।

3265 : 10436 :: 5731 : ?



(1) 12902

(2) 12901

(3) 13250

(4) 21123



Mahendra's



RAILWAY NTPC/GROUP D

6:15 PM

REASONING

NTPC - CBT - 01

अतिमहत्वपूर्ण
25 प्रश्न



Mahendra's

ENSURE YOUR SUCCESS WITH- VIDEO GURU



A COMPLETE VIDEO CLASS
FOR YOUR PREPARATION

Subscribe
BUTTON



BOOST YOUR PREPARATIONS WITH MAHENDRAS: STUDY MATERIAL, E-MICA, E-NEWS, BAGS & MUCH MORE. VISIT NOW: myshop.mahendras.com



 **Mahendra's**

ENSURE YOUR SUCCESS WITH- VIDEO GURU



A COMPLETE VIDEO CLASS
FOR YOUR PREPARATION

Subscribe
BUTTON 

BOOST YOUR PREPARATIONS WITH MAHENDRAS: **STUDY MATERIAL, E-MICA, E-NEWS, BAGS & MUCH MORE.** VISIT NOW: myshop.mahendras.com

 Mahendra's

ENSURE YOUR SUCCESS WITH- **VIDEO GURU**



A COMPLETE VIDEO CLASS
FOR YOUR PREPARATION

Subscribe
BUTTON



BOOST YOUR PREPARATIONS WITH MAHENDRAS: **STUDY MATERIAL, E-MICA, E-NEWS, BAGS & MUCH MORE.** VISIT NOW: myshop.mahendras.com