

**Q.1:** Which of the following elements will be 6th to the left of the 13 from right end in the alphabetical series?

वर्णमाला व्यवस्था में, निम्नलिखित तत्वों में से कौन सा दायें छोर से 13वें के बाएं को 6 वां होगा ?

(A) R

(B) S

(C) G

(D) Y

20

Q.2:

46 : 5 :: 357 : ?

(A) 45

(B) 123

(C) 3

(D) 5

20

**Q.3:** In a row of 44 girls, Sweta is 17th from left end. Palak is 7th to the right of Sweta. What is Palak's position from the right end of the row?

44 लडकियों की एक पंक्ति में, स्वेता का स्थान बाएं छोर से 17वां है। पलक, स्वेता के दायें 7वें स्थान पर बैठी है। तो बताइए की पलक का स्थान दायें छोर से कितना है?



- (A) 20
- (B) 21
- (C) 19
- (D) 5

**Q.4:** In morning Shadow of K is towards his right then find out in which **direction** is he facing now?

एक सुबह K की परछाई उसके दायें तरफ दिखाई दे रही थी तो बताइए की वह किस **दिशा** में देश रहा है?



- (A) उत्तर/ North
- (B) दक्षिण/ South
- (C) पश्चिम/ West
- (D) आकडे अधूरे है/Data inadequate

Q.5:

C : 6 :: J : ?

(A) 19

(B) 8

(C) 1

(D) 6

20

Q.6:

Statements -

Some wall are blue. कुछ दीवार नीली हैं।

No ground is blue. कोई जमीन नीली नहीं हैं।

Some ground are white. कुछ जमीन सफेद हैं।

**Conclusions:**

(I) All eraser can be pencil / सभी इरेज़र पेंसिल हो सकते हैं

(II) All pencil can be eraser / सभी पेंसिल इरेज़र हो सकता है

**Q.7:** What will come in a place of question mark? प्रश्नवाचक चिन्ह के स्थान पर क्या आएगा?

4, 5, 30, 61, 128, ?

- (A) 216
- (B) 219
- (C) 231
- (D) 213



**Q.8:** By looking in a WATER, it appears that it is 9:55 in the clock ;  
what is the real time?

जल में देखने से यह प्रतीत होता है कि घड़ी में 9:55 बजे है। वास्तविक समय क्या है?

(A) 8: 35

(B) 4: 45

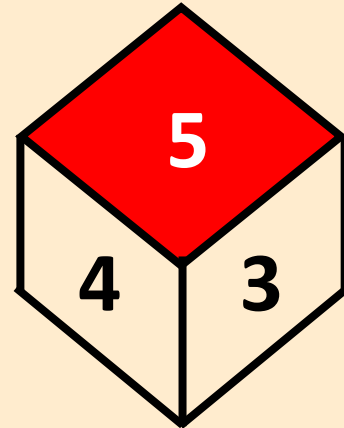
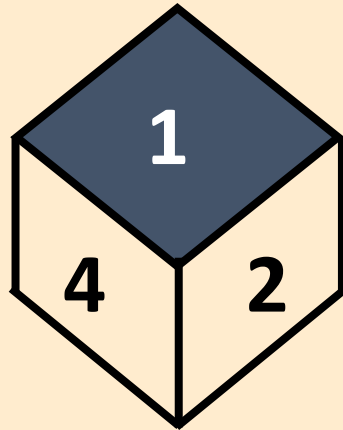
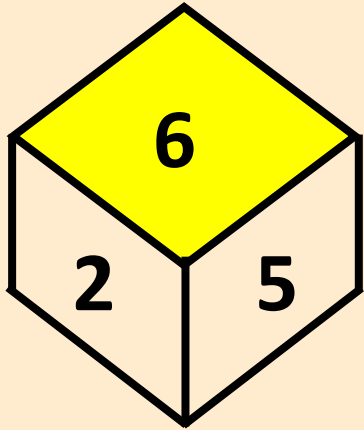
(C) 8: 55

(D) 9: 55





**Q.9: OPPOSITE OF 3 ? ?**



- (A) 2
- (B) 4
- (C) 6
- (D) 1

**Q.10:** The position of how many alphabets will remain unchanged if each of the alphabets in the word **ARGENTINA** is arranged in the alphabetical order from right to left?

यदि शब्द **ARGENTINA** में दायें से बायें प्रत्येक अक्षर को वर्णमाला क्रम में व्यवस्थित किया जाता है, तो कितने अक्षरों की स्थिति यथावत रहेगी?



- (A) 1
- (B) 2
- (C) 3
- (D) NOT

**Q.11:** Statement : (I) All pen are pencil / सभी कलम पेंसिल हैं  
(II) No pen is eraser / कोई कलम इरेज़र नहीं है

**Conclusions:**

- (I) All eraser can be pencil / सभी इरेज़र पेंसिल हो सकते हैं  
(II) All pencil can be eraser / सभी पेंसिल इरेज़र हो सकता है

**Q.12** What will come in a place of question mark? प्रश्नवाचक चिन्ह के स्थान पर क्या आएगा?

12, 12, 18, 45, 180 , ?

- (A) 1090
- (B) 1180
- (C) 1170
- (D) 700



**Q.13**

**What will come in a place of question mark? प्रश्नवाचक चिन्ह के स्थान पर क्या आएगा?**

**170, 90, 100, 165, 350 , ?**

**(A) 770**

**(B) 900**

**(C) 775**

**(D) 895**

**20**

**Q.14.**

A clock is started at 1PM . By 20 minutes past 1 , the Minute hand has turned through by what angle?

एक घड़ी दोपहर में 1 बजे प्रारम्भ होती है तो 1 बजकर 20 मिनट पर मिनट की सुई कितना कोण चल चुकी होगी ?



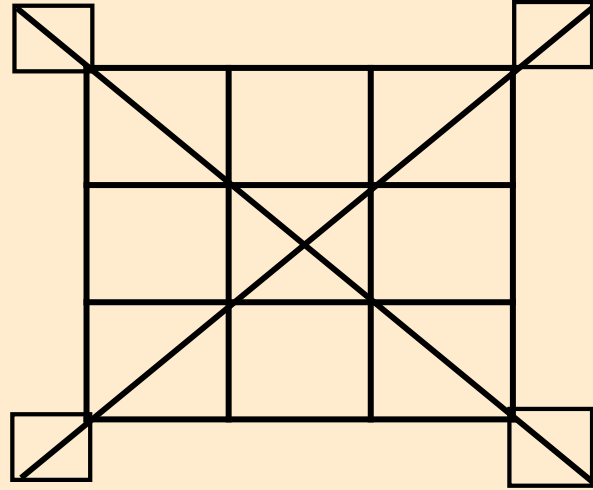
(A)  $80^\circ$

(B)  $10^\circ$

(C)  $120^\circ$

(D)  $15^\circ$

**Q.15.** **SQUARES**



20

- (A) 14
- (B) 16
- (C) 18
- (D) 20