

REASONING

रेलवे 2019 में आने वाले

अतिसम्भावित

20+ महत्वपूर्ण सवाल



06:00 PM

देखना ना भूलें



**RAILWAY
NTPC
2019**

Mahendra's

LIKE US ON FACEBOOK



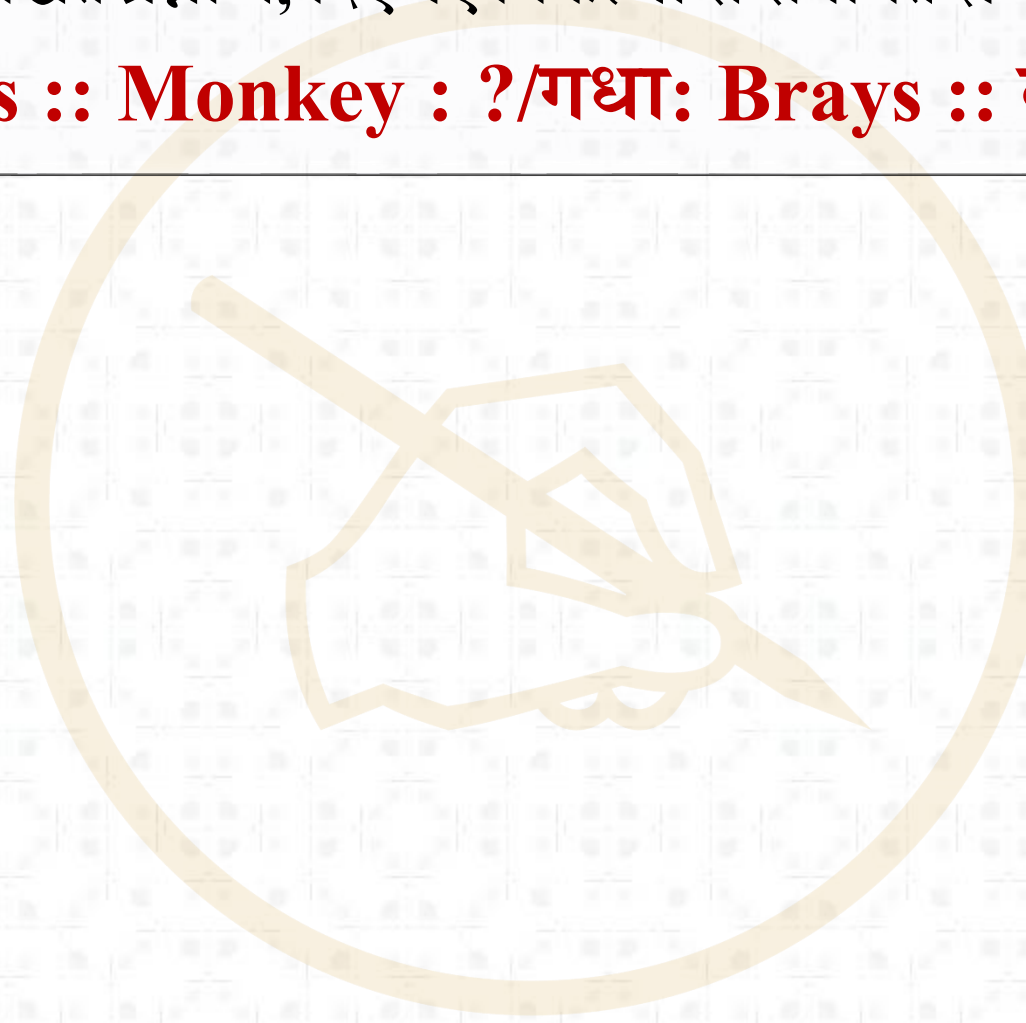
/Emahendras

JOIN MAHENDRAS !!! BEST CHOICE TO OPT FOR THE PREPARATION OF BANK, S

1

In the following questions, select the related word/letters/numbers from the given alternatives: निम्नलिखित प्रश्नों में, दिए गए विकल्पों से संबंधित शब्द / अक्षर / संख्या का चयन करें:

Donkey : Brays :: Monkey : ?/गधा: Brays :: बन्दर : ?



A. Chatters

B. Trumpets

C. Bellows

D. Grunts

2

In the following questions, select the related word/letters/number from the given alternatives. निम्नलिखित प्रश्नों में, दिए गए विकल्पों से संबंधित शब्द / अक्षर / संख्या का चयन करें।

ABDE : FGIJ :: IJLM : ?

A. NOQR

B. NOPQ

C. NMOP

D. NPQR

3

In the following questions, select the related word/letters/number from the given alternatives. निम्नलिखित प्रश्नों में, दिए गए विकल्पों से संबंधित शब्द / अक्षर / संख्या का चयन करें।

1 : 8 :: ? : 64

A. 25

B. 36

C. 30

D. 27

4

In the following questions, select the related word/letters/ numbers from the given alternatives: निम्नलिखित प्रश्नों में, दिए गए विकल्पों से संबंधित शब्द / अक्षर / संख्या का चयन करें:

- A. Swimming तैराकी
- B. Sailing नौकायन
- C. Diving गोताखोरी
- D. Driving ड्राइविंग

5

In the following questions, select the related word/letters/
numbers from the given alternatives: निम्नलिखित प्रश्नों में, दिए गए
विकल्पों से संबंधित शब्द / अक्षर / संख्या का चयन करें:

A. RGTF

B. MLOK

C. CTES

D. VDZC

6

In the following questions, select the related word/letters/numbers from the given alternatives: निम्नलिखित प्रश्नों में, दिए गए विकल्पों से संबंधित शब्द / अक्षर / संख्या का चयन करें:



A. 443

B. 633

C. 821

D. 245

7

Arrange the following words as per their order in the dictionary:

शब्दकोश में क्रम के अनुसार निम्नलिखित शब्द व्यवस्थित करें।

1. Dyke

2. Dwindle

3. Dwell

4. Dye

A. 3,2,4,1

B. 1,3,4,2

C. 2,1,3,4

D. 3,4,2,1

8

In the following questions, select the related word/letters/numbers from the given alternatives: निम्नलिखित प्रश्नों में, दिए गए विकल्पों से संबंधित शब्द / अक्षर / संख्या का चयन करें:

DHL, PTX, BFJ, ?

A. KOS

B. NRV

C. NPS

D. NRU

9

In the following questions, select the related word/letters/numbers from the given alternatives: निम्नलिखित प्रश्नों में, दिए गए विकल्पों से संबंधित शब्द / अक्षर / संख्या का चयन करें:

28, 33, 31, 36, 34, 29

A. 33

B. 36

C. 34

D. 29

10

The age of Rakhi is twelve times that of her daughter Anubha. If age of Anubha is 3 years now, then what was the age of Rakhi, 2 years earlier?

राखी की उम्र उसकी बेटी अनुभा की बारह गुना है। अगर अनुभा की उम्र अब 3 साल है, तो 2 साल पहले राखी की उम्र क्या थी?

A. 20 years

B. 34 years

C. 30 years

D. 36 years

11

Satya's birthday falls on 15th August and Meena's birthday falls on 25th June. If Meena's birthday was on Wednesday, what was the day on Sathya's birthday in the same year?

सत्य का जन्मदिन 15 अगस्त को पड़ता है और मीना का जन्मदिन 25 जून को पड़ता है। अगर मीना का जन्मदिन बुधवार को पड़ा, तो उसी वर्ष सत्य का जन्मदिन किस दिन पड़ा था?

A. Friday

B. Monday

C. Tuesday

D. Saturday

12

From the given words, select the word which can be formed using the letters of the given word./दिए गए शब्द से, दिए गए शब्द के अक्षरों का उपयोग करके कौन सा नया शब्द बनाया जा सकता है।

AMPLIFICATION

A. ACTOR

B. MANOR

C. CHAMP

D. MANIA

13

If **BLACKSMITH** is coded as **CNBELUNKUJ**, then **CHILDREN** will be coded as ?/यदि **BLACKSMITH** को **CNBELUNKUJ** के रूप में कोड किया गया है, तो **CHILDREN** को कैसे कोड किया जाएगा?

A. DIJMESFO

B. DJJNETFP

C. DJINETEP

D. DJJNETEP

14

If $17 + 17 = 2895$

$19 + 19 = 3615$

$18 + 18 = 3245$

Then $23 + 23 = ?$

A. 5765

B. 2565

C. 4005

D. 5295

15

In the following problem, '=' stands for ' \div ', '+' stands for ' $-$ ', ' \times ' stands for '=', ' $-$ ' stands for '+' and ' \div ' stands for ' \times '. Find the correct equation.

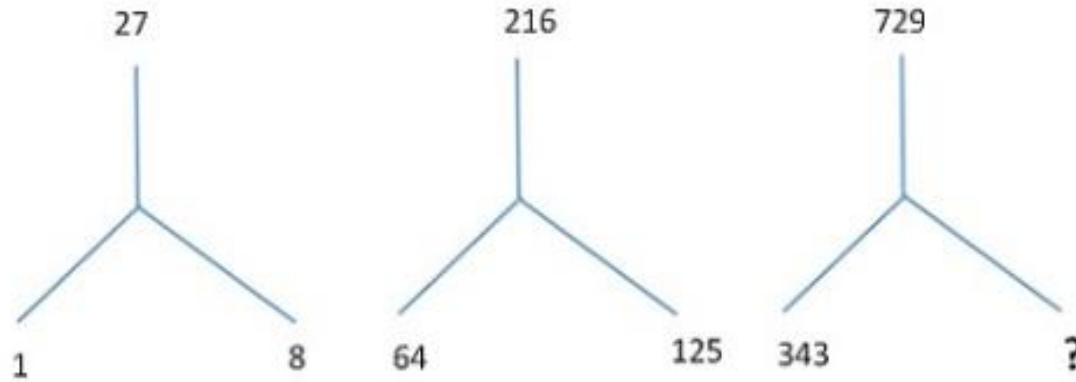
A. $8 \div 4 + 1 - 5 = 6 \times 4$

B. $4 \times 6 \div 4 + 4 = 7$

C. $5 \div 3 - 25 + 20 = 20 \times 39$

D. $96 \div 2 \times 6 \div 105 + 1$

16



A. 432

B. 334

C. 512

D. 501

18

A man walked 9 km towards East and then 12 km towards South. How far is he from the starting point?/ एक आदमी पूर्व की ओर 9 किमी और फिर दक्षिण की तरफ 12 किमी दूर चला। वह शुरुआती बिंदु से कितना दूर है?

A. 8 km

B. 6 km

C. 15 km

D. 7.5 km

Statement: Poverty is a symptom as well as a consequence of social disorder.

गरीबी सामाजिक विकार का एक लक्षण है और साथ ही साथ परिणाम भी है।

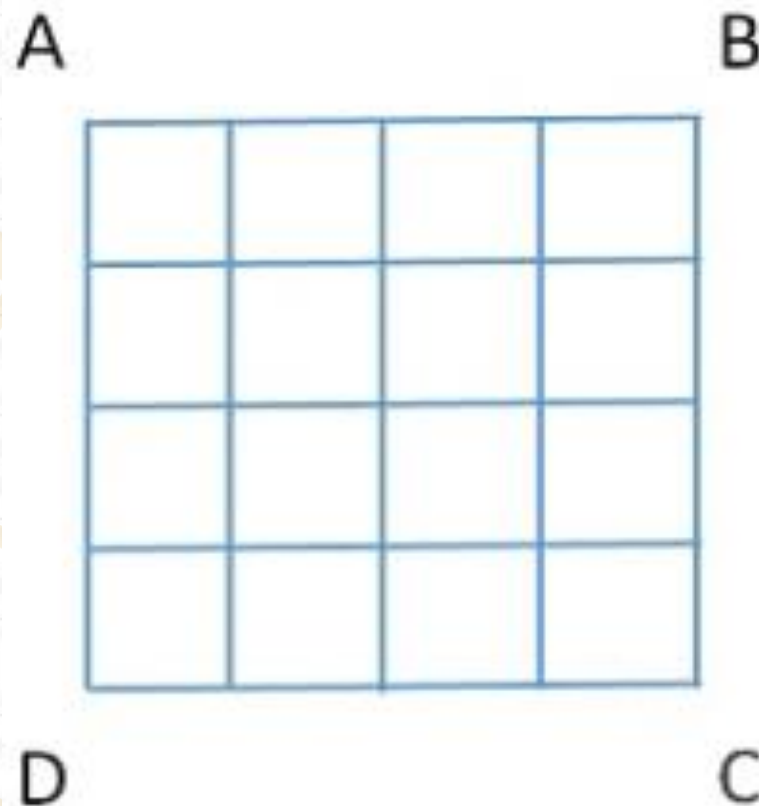
Assumptions: I. Poverty is a type of social order./ गरीबी सामाजिक व्यवस्था का एक प्रकार है

II. Poverty is related to social order./ गरीबी सामाजिक व्यवस्था से संबंधित है



20

How many squares?



A. 16

B. 17

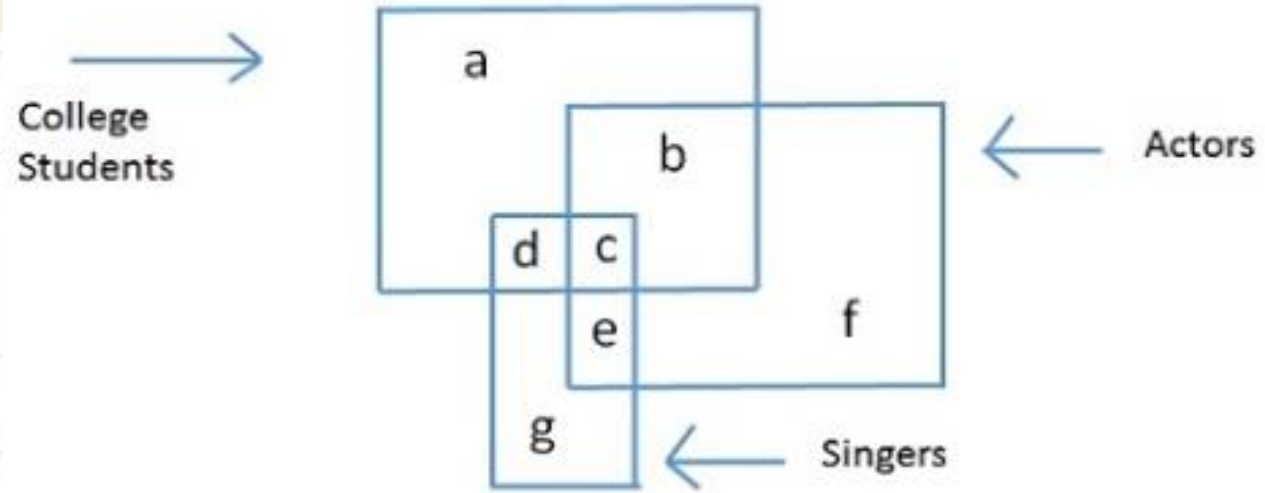
C. 26

D. 30

21

Find the part which represents those actors who are also singers.

वह हिस्सा ढूँढें जो उन Actors का प्रतिनिधित्व करता है जो Singers भी हैं।



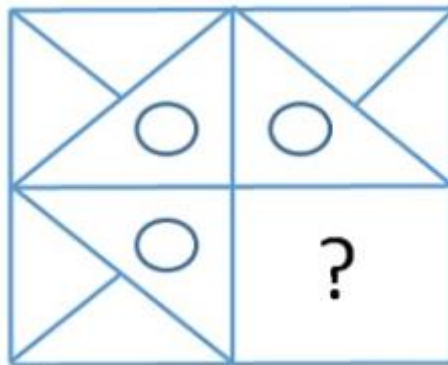
A. a

B. b

C. c

D. f

22



A



B

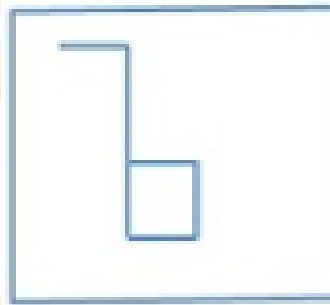


C



D


23



A



B

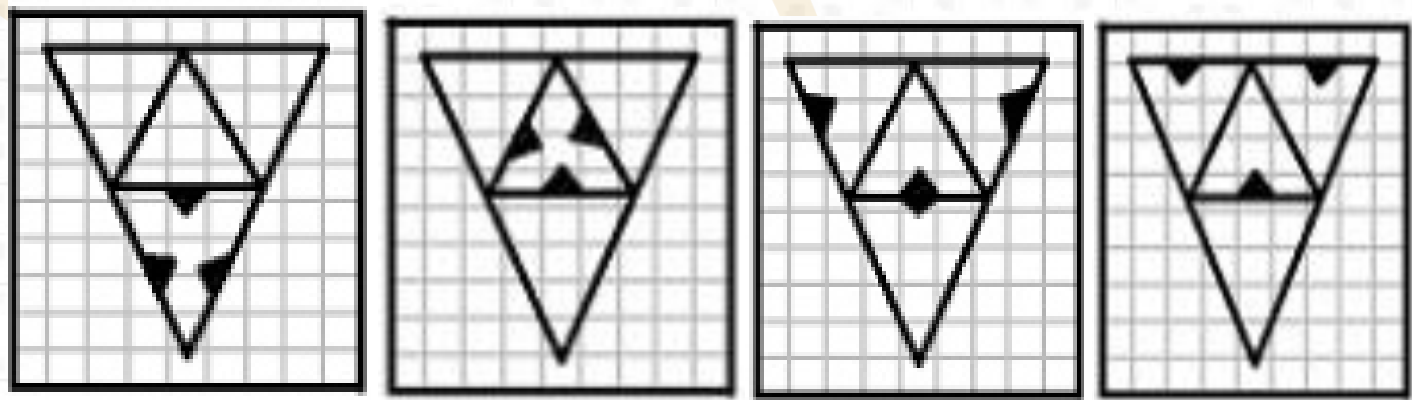
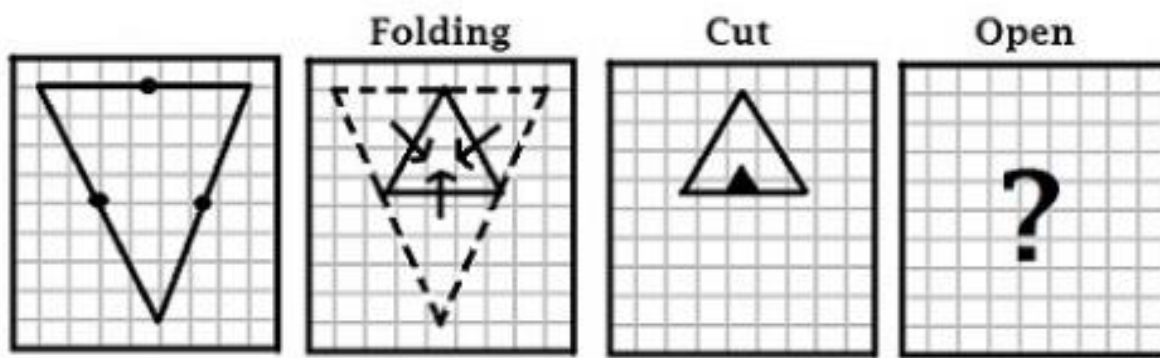


C



D

24



A

B

C

D

25

GROUP
649

GROUP
649

GROUP
649

GROUP
649

GROUP
649

A

B

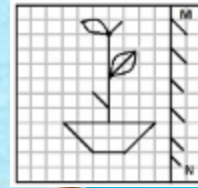
C

D



LIKE

COMMENT



SHARE

SUBSCRIBE