



RAILWAY NTPC

REASONING


20+

रेलवे 2019
में आने वाले
अतिसम्भावित महत्वपूर्ण सवाल

DAY- 54

6:00 PM

 **Mahendras**

LIKE US ON FACEBOOK  /Emahendras

JOIN MAHENDRAS !!! BEST CHOICE TO OPT FOR THE PREPARATION OF BANK, S

1

In a certain code DECEMBER is written as ERMBCEDE,
In that code which word will be written as ERMBVENO ?

- (a) **SEPTEMBER**
- (b) **AUGUST**
- (c) **NOVEMBER**
- (d) **OCTOBER**

2

Select the related word from the given alternatives.

दिए गए विकल्पों से संबंधित शब्द का चयन करें।

27 : 12 :: 39 : ?

A. 16

B. 15

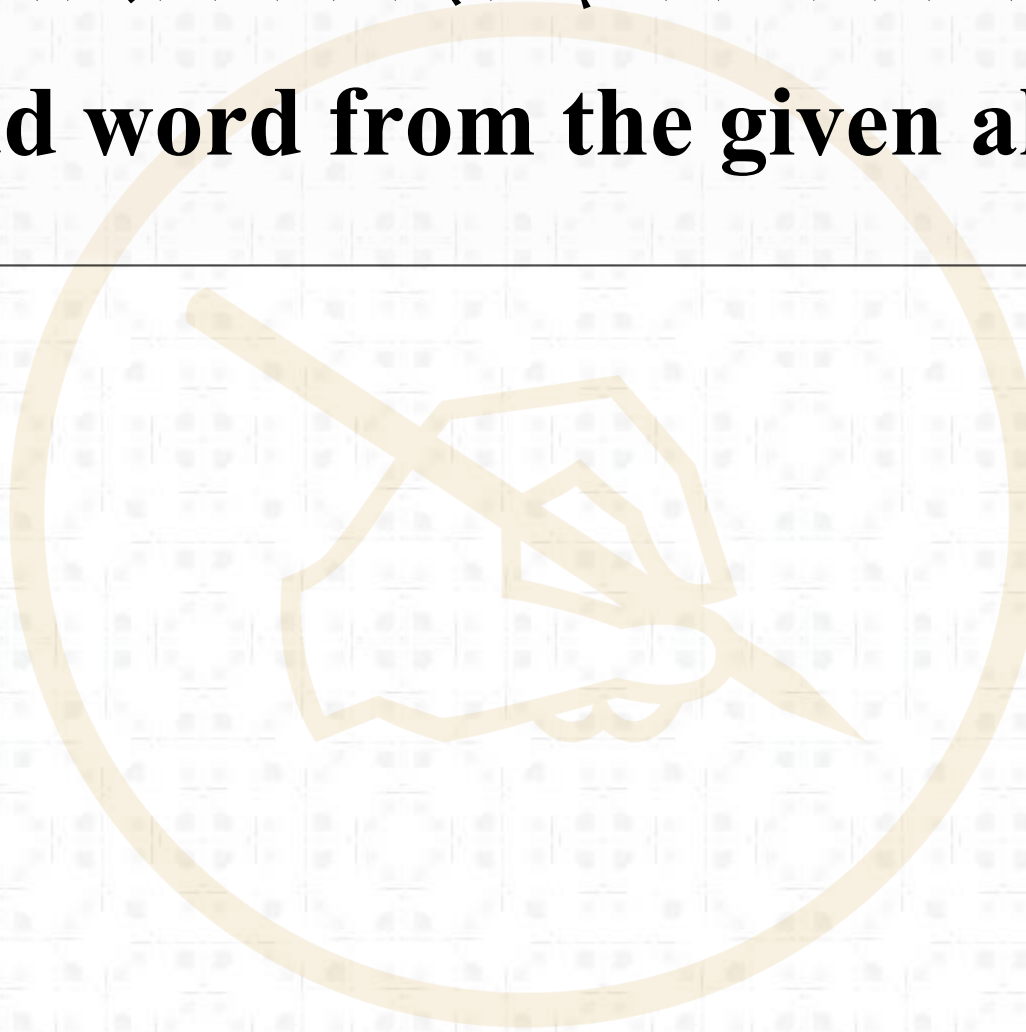
C. 20

D. 25

3

दिए गए विकल्पों से विषम शब्द का चयन करें।

Select the odd word from the given alternatives.

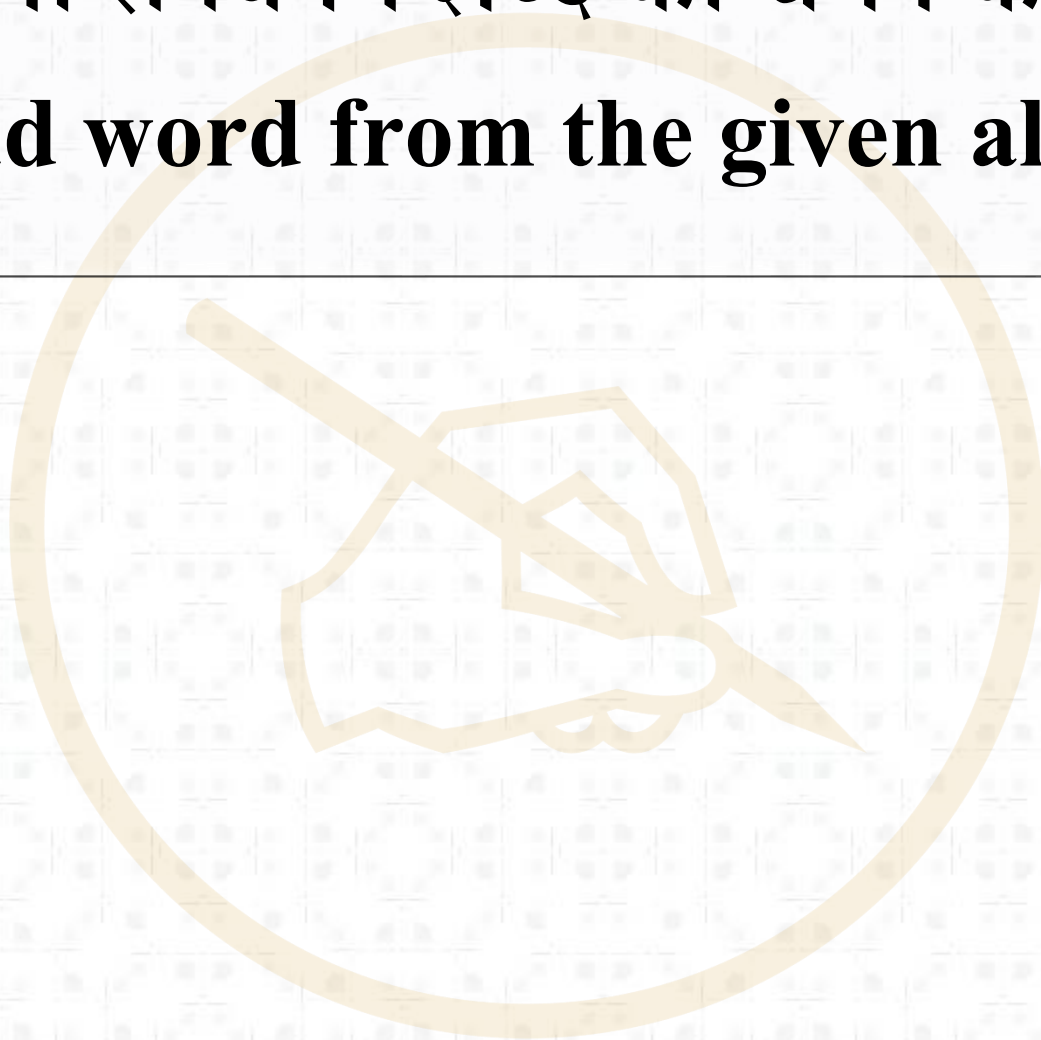


- A. COLONEL
- B. BRIGADIER
- C. ADMIRAL
- D. MAJOR

4

दिए गए विकल्पों से विषम शब्द का चयन करें।

Select the odd word from the given alternatives.



A. 6,2,5

B. 2,3,6

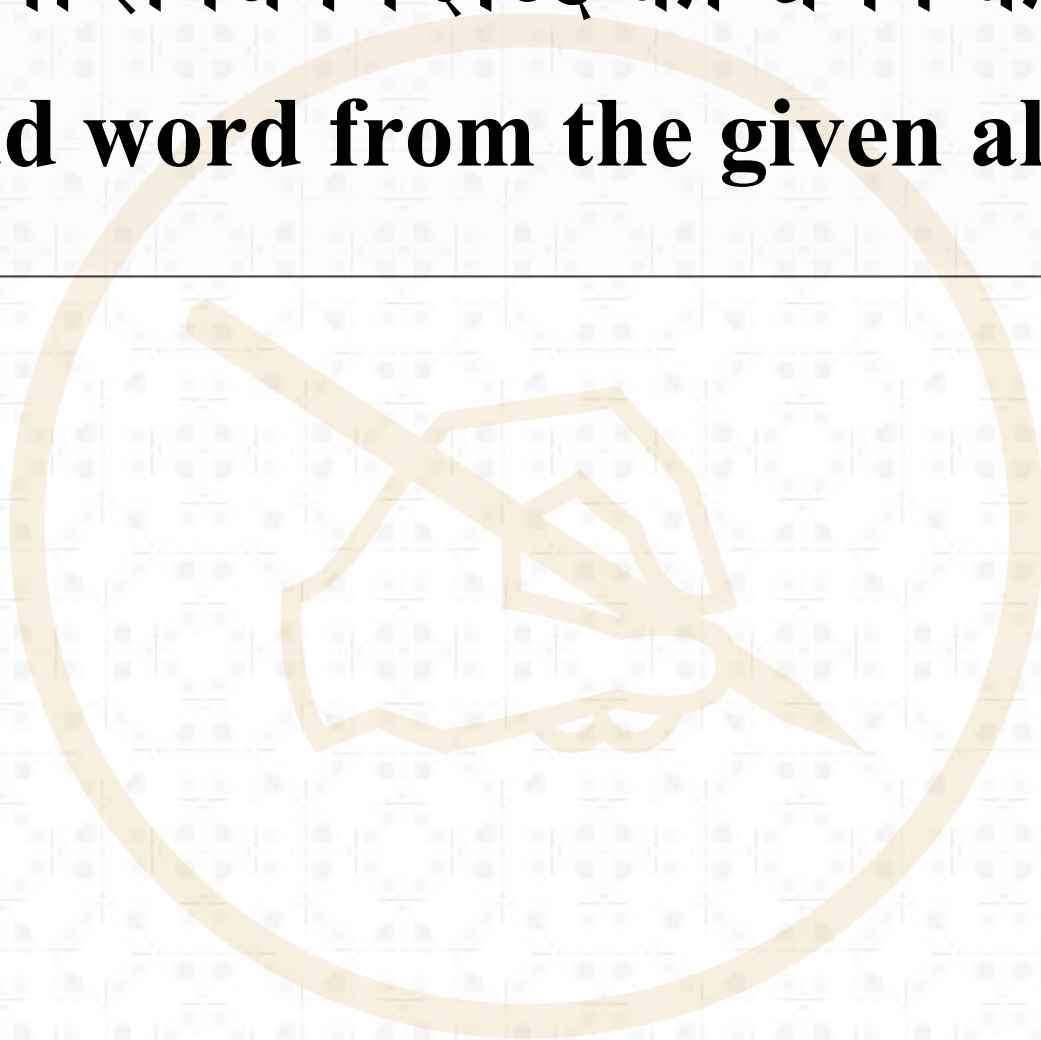
C. 6,1,6

D. 3,3,9

5

दिए गए विकल्पों से विषम शब्द का चयन करें।

Select the odd word from the given alternatives.



A. EVJQ

B. RIDW

C. PKLO

D. RSTU

6

दी गई श्रृंखला में एक पद गायब है। दिए गए विकल्पों में से सही विकल्प चुनें जो श्रृंखला को पूरा करें। A series is given, with one term missing. Choose the correct alternative from the given ones that will complete the series.

11 ,4 ,16 ,31, 51, 98 ,?

A. 117

B. 180

C. 175

D. 190

7

दी गई श्रृंखला में एक संख्या गायब है। दिए गए विकल्पों में से सही विकल्प चुनें जो श्रृंखला को पूरा करें।

A series is given, with one number missing. Choose the correct alternative from the given ones that will complete the series.

1328 , 1722 , 2188 , 2732 , 3360 , ?

A. 4076

B. 4178

C. 4078

D. 4096

8

महीने का दूसरा दिन शनिवार है, अगले महीने का अंतिम दिन क्या होगा जिसमें 31 दिन होंगे?

The second day of a month is saturday, What will be the last day of the next month which has 31 days?

A. रविवार

B. शनिवार

C. सोमवार

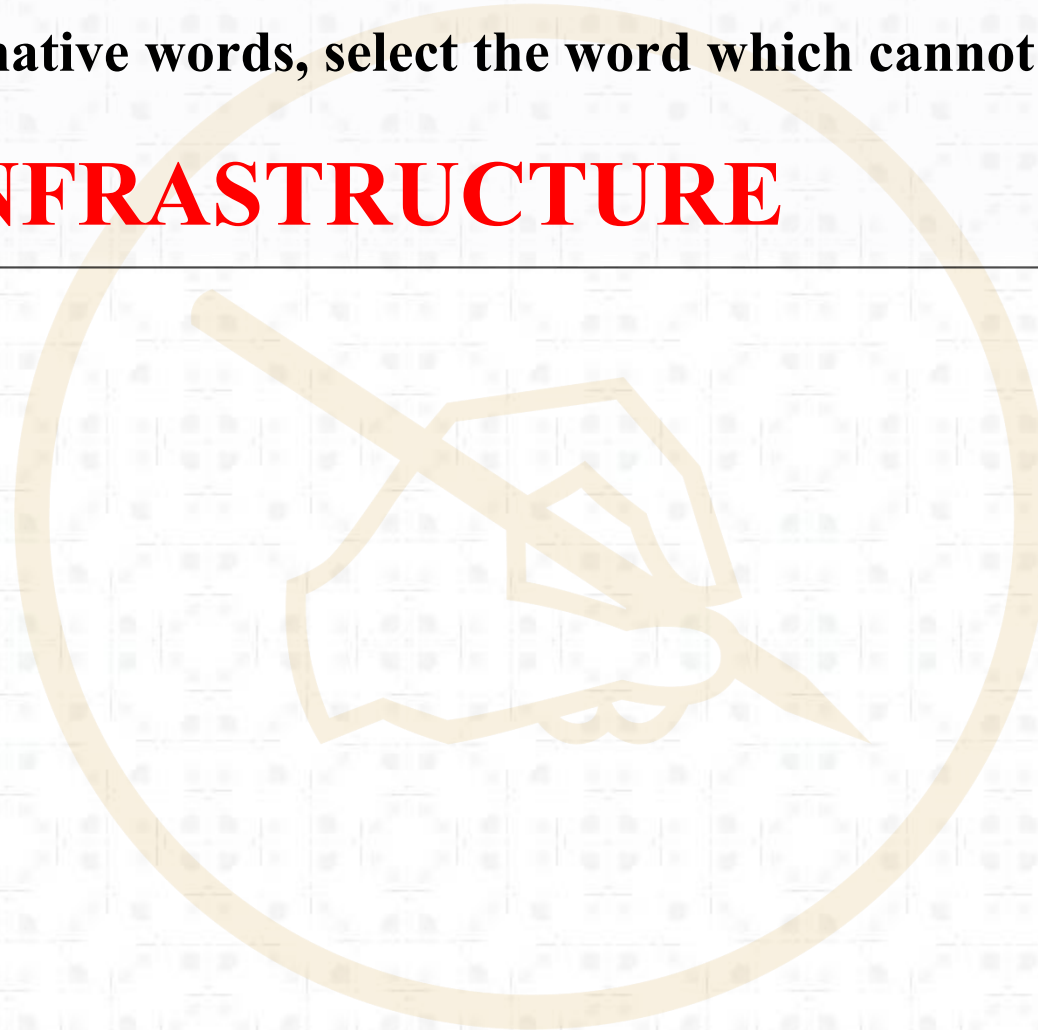
D. निर्धारित नहीं किया जा सकता है

9

दिए गए वैकल्पिक शब्दों में से, उस शब्द का चयन करें जिसे दिए गए शब्द के अक्षरों का उपयोग करके बनाया नहीं जा सकता है:

From the given alternative words, select the word which cannot be formed using the letters of the given word.


INFRASTRUCTURE



- A. NATURE
- B. CHARTER
- C. FRACTURE
- D. RESTRAIN

10

यदि **TEMPURE** को **VNVRIFG** के रूप में कोड किया गया है, तो **GENERAL** को कोड कैसे किया जाएगा / If **TEMPURE** is coded as **VNVRIFG**, then how will **GENERAL** be coded as?



- A. IVMGZIN
- B. IMVGZIN
- C. IMVGIZN
- D. इनमे से कोई नहीं

11

A boy walks 9km East, then turns South and walks 3 km, then turns West and walks 3 km, then turns to his right and walks 11 km. In which direction is he now with reference to his starting position?

एक लड़का 9 किमी पूर्व में चलता है, फिर दक्षिण की ओर जाता है और 3 किमी चलता है, फिर पश्चिम की ओर जाता है और 3 किमी चलता है, फिर अपने ओर जाता है और 11 किमी चलता है। अपनी शुरुआती स्थिति के संदर्भ में वह अब किस दिशा में है?

- A. South west
- B. West
- C. North east
- D. South east

12

Statement 1: All water are glass

Statement 2: No glass is metal

Conclusion I: No water is metal.

Conclusion II: Some glass is water.

- A. Only conclusion I follows**
- B. Only conclusion II follows**
- C. Both I and II follow**
- D. Neither I nor II follows**

13

5	29	2
3	25	4
2	?	6

A. 36

B. 40

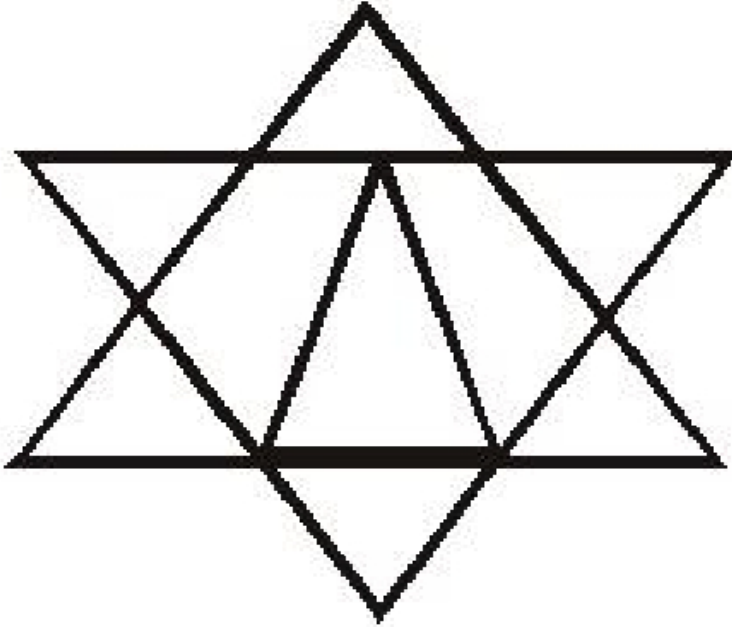
C. 32

D. 38

14

How many triangles are there in the given figure /

दी गई आकृति में कितने त्रिभुज हैं?



A. 28

B. 25

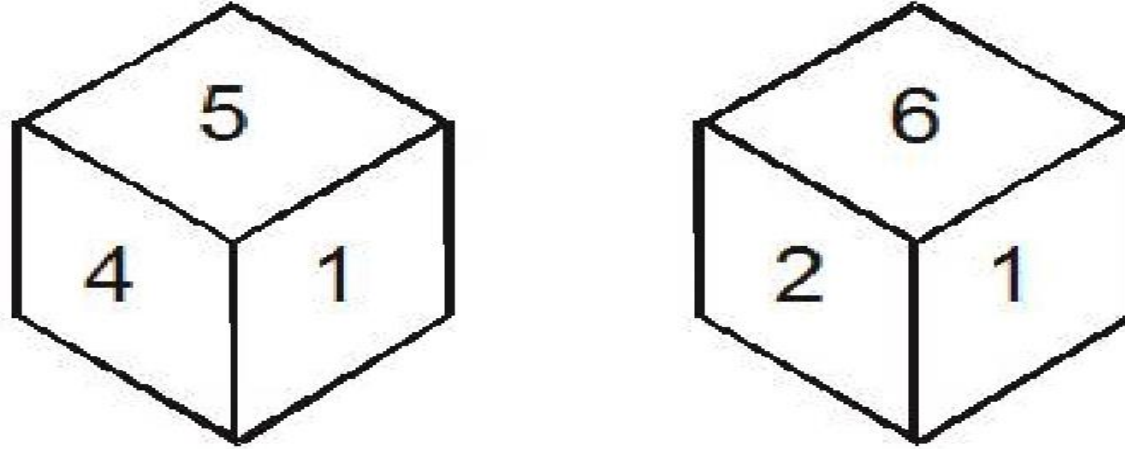
C. 27

D. 26

15

Three positions of a cube are shown below. What will come opposite to face containing 6?

पासे की तीन स्थितियां नीचे दिखायी गई हैं। 6 वाले फलक के विपरीत वाले फलक पर क्या होगा?



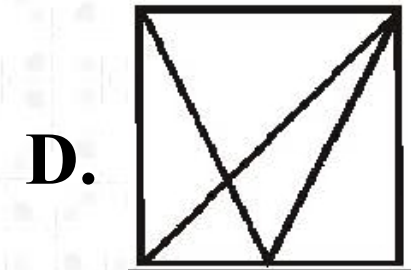
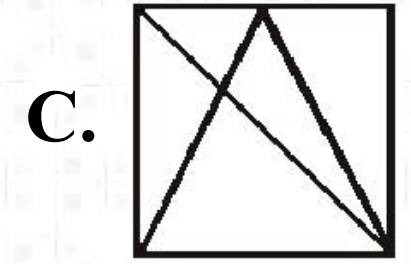
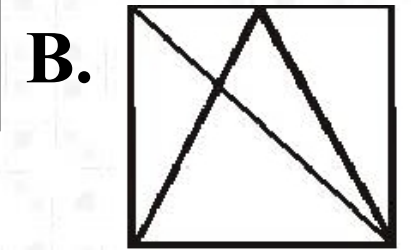
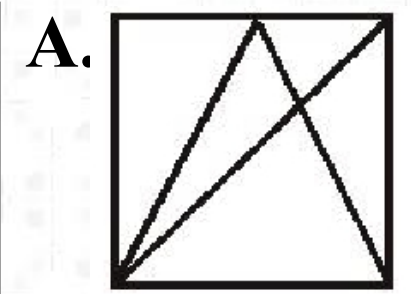

- A. 1
- B. 3
- C. 4
- D. 2

16

Which answer figure will complete the pattern figure in the given question?

कौन सा उत्तर आकृति, प्रश्न आकृति के क्रम (पैटर्न) को पूरा करेगी?

Question figure



17

Identify the set for the word (शब्द के लिए सेट को पहचानें)
'LEG'

Matrix – I

	0	1	2	3	4
0	M	A	Z	S	U
1	S	U	M	Z	A
2	Z	M	S	A	U
3	A	Z	S	U	M
4	S	U	A	M	Z

Matrix – II

	5	6	7	8	9
5	P	F	K	L	E
6	L	E	F	K	G
7	K	F	L	G	E
8	G	K	P	E	F
9	L	E	G	F	K

A. 34, 14, 58**B. 21, 76, 66****C. 30, 99, 89****D. 95 ,88 ,69**

USE THIS PROMOCODE

PASSRE9BBE36

GET 25% OFF
ON ALL THESE PRODUCTS

ALL IN ONE SPEED TEST

1 YEAR

ALL IN ONE SPEED TEST

2 YEAR

VIDEO GURU ALL IN ONE

BANK

VIDEO GURU ALL IN ONE

SSC

VIDEO GURU ALL IN ONE

RAILWAY

 Mahendras

LIKE US ON FACEBOOK  /Emahendras

JOIN MAHENDRAS !!! BEST CHOICE TO OPT FOR THE PREPARATION OF BANK, S