

REASONING



06:00 PM

TEST

40 QUESTIONS

35 MINUTES

CLASS - 9 देखना ना भूलें



RAILWAY NTPC 2019

 Mahendras

LIKE US ON FACEBOOK



/Emahendras

JOIN MAHENDRAS !!! BEST CHOICE TO OPT FOR THE PREPARATION OF BANK, S

 Mahendras

**SALE IS
LIVE**

EXAM
SEASON
ON
SALE
VIDEO GURU CARDS



MRP ~~₹7000~~ Selling Price ~~₹2499~~

Offer Price
₹1900/-



MRP ~~₹4000~~

Offer Price
₹1999/-



MRP

~~₹15000~~

Selling Price

~~₹7500~~

Offer Price

₹4999/-

Price Applicable on Each Card Separately.

BUY FROM myshop.mahendras.org

TOLL FREE 1800 103 5225 (9 am to 6 pm)

 Mahendras

LIKE US ON FACEBOOK  /Emahendras

JOIN MAHENDRAS !!! BEST CHOICE TO OPT FOR THE PREPARATION OF BANK, S

1

Identify the correct set for the word “BOMBARD”

Matrix I

	0	1	2	3	4
0	D	O	B	A	I
1	O	B	A	I	D
2	B	A	I	D	O
3	A	I	D	O	B
4	I	D	O	B	A

Matrix II

	5	6	7	8	9
5	W	N	R	M	L
6	N	R	M	L	W
7	R	M	L	W	N
8	M	L	W	N	R
9	L	W	N	R	M

0:30**A. 11 24 98 02 44 75 00****B. 20 24 85 14 21 89 42****C. 20 33 76 43 21 89 41****D. 11 24 99 02 44 75 13**

2

In the following question, select the related word from the given alternatives.
निम्नलिखित प्रश्न में, दिए गए विकल्पों में से संबंधित शब्द का चयन करें।

Paw : Cat :: Hoof : ?

पंजा : बिल्ली :: खुर (हूफ) : ?

0:30

A. Goat बकरा

B. Lion शेर

C. Horse घोड़ा

D. Dog कुत्ता

3

In the following question, select the related word from the given alternatives.

निम्नलिखित प्रश्न में, दिए गए विकल्पों में से संबंधित शब्द का चयन करें।

ACEG : ZXVT :: IKMO : ?

0:30

A. QRLK

B. LSUV

C. RPNL

D. QSUW

4

In the following question, select the related word from the given alternatives.

निम्नलिखित प्रश्न में, दिए गए विकल्पों में से संबंधित शब्द का चयन करें।

GHIJ : IKMO :: ? : NPRT

0:30

A. LMNO

B. JKLM

C. HIJK

D. GJNP

5

In the following question, select the related word from the given alternatives.

निम्नलिखित प्रश्न में, दिए गए विकल्पों में से संबंधित शब्द का चयन करें।

4 : 8 :: 6 : ?

0:30

A. 16

B. 9

C. 18

D. 8

6

In the following question, select the related word from the given alternatives.

निम्नलिखित प्रश्न में, दिए गए विकल्पों में से संबंधित शब्द का चयन करें।

104 : 10816 :: ? : 11449

0:30

A. 107

B. 113

C. 97

D. 103

7

In the following question, select the related word from the given alternatives.

निम्नलिखित प्रश्न में, दिए गए विकल्पों में से संबंधित शब्द का चयन करें।

0:30

- A. Neurologist
- B. Sociologist
- C. Educationist
- D. Economist

8

In the following question, select the related word from the given alternatives.

निम्नलिखित प्रश्न में, दिए गए विकल्पों में से संबंधित शब्द का चयन करें।

0:30

- A. Goat
- B. Lion
- C. Centaur
- D. Tortoise

9

In the following question, select the related word from the given alternatives.

निम्नलिखित प्रश्न में, दिए गए विकल्पों में से संबंधित शब्द का चयन करें।

0:30

- A. ADGJ
- B. JLOQ
- C. QTWZ
- D. EHKN

10

In the following question, select the related word from the given alternatives.

निम्नलिखित प्रश्न में, दिए गए विकल्पों में से संबंधित शब्द का चयन करें।

0:30

A. KI

B. SQ

C. DC

D. YW

11

In the following question, select the related word from the given alternatives.

निम्नलिखित प्रश्न में, दिए गए विकल्पों में से संबंधित शब्द का चयन करें।

0:30

- A. 7 - 35
- B. 12 - 48
- C. 8 - 40
- D. 14 - 70

12

In the following question, select the related word from the given alternatives.

निम्नलिखित प्रश्न में, दिए गए विकल्पों में से संबंधित शब्द का चयन करें।

0:30

A. 39 - 55

B. 57 - 73

C. 18 - 34

D. 16 - 42

13

Arrange the given words in the sequence in which they occur in the dictionary.

दिए गए शब्दों को अनुक्रम में व्यवस्थित करें जैसे वे शब्दकोश में होते हैं।

(1) Believe

(2) blaze

(3) beneath

(4) blade

(5) bolt

0:30

A. 13254

B. 31425

C. 13425

D. 31245

14

Arrange the given words in the sequence in which they occur in the dictionary.

दिए गए शब्दों को अनुक्रम में व्यवस्थित करें जैसे वे शब्दकोश में होते हैं।

(1) zebra

(2) zymotic

(3) zeal

(4) zipper

(5) zouaves

0:30

A. 31452

B. 31245

C. 13542

D. 13452

15

In the following question, select the related word from the given alternatives.

निम्नलिखित प्रश्न में, दिए गए विकल्पों में से संबंधित शब्द का चयन करें।
J, N, Q, S, ?

0:30

A. W

B. U

C. V

D. T

16

In the following question, select the related word from the given alternatives.

निम्नलिखित प्रश्न में, दिए गए विकल्पों में से संबंधित शब्द का चयन करें।
WXS, UVQ, STO, ?

0:30

- A. RSP
- B. QRM
- C. PQN
- D. QSN

17

In the following question, select the related word from the given alternatives.

निम्नलिखित प्रश्न में, दिए गए विकल्पों में से संबंधित शब्द का चयन करें।
126, 149, 174, 201, 230, ?

0:30

A. 261

B. 275

C. 242

D. 253

18

Priya walks 45 metres towards south. Then turns right and walks another 45 metres. Then turns right and walks for 20 metres to reach point A. She then again turns to her right and walks for 45 metres. How far (in metres) is she from point starting point? प्रिया दक्षिण की ओर 45 मीटर की दूरी चलता है। फिर दाहिने ओर मुड़ जाता है और 45 मीटर चलता है। फिर दाहिने ओर मुड़ जाता है और बिंदु A तक पहुंचने के लिए 20 मीटर तक चलता है। फिर वह फिर से उसके दाहिने ओर जाती है और 45 मीटर तक चलता है। प्रारम्भिक बिंदु से वह कितना दूर (मीटर में) है?

0:30**A. 45****B. 20****C. 30****D. 25**

19

Arpit ranks 6th from the bottom and 28th from the top in a class.

How many students are there in the class?

अर्पित नीचे से 6 वां स्थान पर है और शीर्ष से 28 वां स्थान पर है। कक्षा में कितने छात्र हैं?

0:30

A. 24

B. 23

C. 25

D. 26

20

In the following question, select the word which cannot be formed using the letters of the given word. निम्नलिखित प्रश्न में, उस शब्द का चयन करें जिसे दिए गए शब्द के अक्षरों का उपयोग करके बनाया जा सकता है।

PHARMACEUTICALS

0:30

- A. Merit
- B. Phrase
- C. Mathematics
- D. Racial

21

In the following question, select the word which cannot be formed using the letters of the given word. निम्नलिखित प्रश्न में, उस शब्द का चयन करें जिसे दिए गए शब्द के अक्षरों का उपयोग करके बनाया जा सकता है।

REVERBERATIONS

0:30

- A. Reverse
- B. Staring
- C. Native
- D. Sober

22

In a certain code language, "PLAYGROUND" is written as "WYNRSHBLWQ".
Then how is "STATIONARY" written in that code language?

एक निश्चित कोड भाषा में, "PLAYGROUND" को "WYNRSHBLWQ" के रूप में लिखा जाता है। फिर उस कोड भाषा में "STATIONARY" कैसे लिखा गया है?

0:30

- A. RYVUPJWPCP
- B. UVYRJPPCWP
- C. YRUVJPWPC
- D. VURYJPCPPW

23

In the following question, correct the equation by interchanging two signs.

निम्नलिखित प्रश्न में, दो संकेतों का स्थान अदल बदल करके समीकरण को सही करें।

$$15 - 23 + 9 \div 3 \times 2 = 32$$

0:30

A. -, +

B. +, ÷

C. ÷, ×

D. -, ×

24

If $2/5/4 = 3/6/5$ and $4/7/8 = 5/8/9$, then $1/3/6 = ?$

0:30

A. $4/8/1$

B. $1/2/5$

C. $2/4/7$

D. $2/5/8$

25

If $4 = 32$, $5 = 50$, $6 = 72$, $7 = 98$, then $10 = ?$

0:30

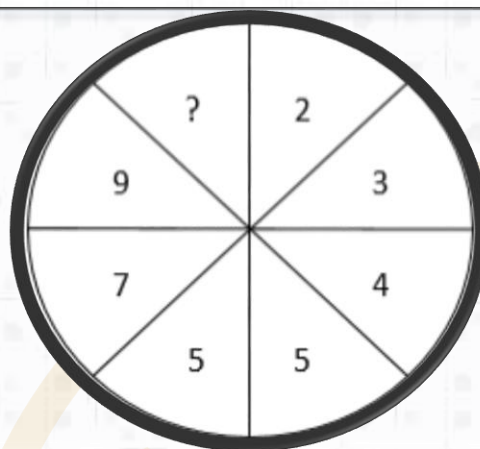
A. 100

B. 150

C. 175

D. 200

26



0:30

- A. 8
- B. 11
- C. 10
- D. 6

27

Statements:

All A are B.

All C are D.

Some C are A.

Conclusions:

(I) Some D are A.

(II) Some B are A.

(III) Some A are D.

(IV) Some B are C.

0:30

A. Only I and III follow

B. All I, II, III and IV follow

C. Only II, III and IV follow

D. Only I and IV follow

28

Statements:

Some MAD are SAD.

No SAD is RAT.

Conclusions:

(I) Some MAD are RAT.

(II) Some MAD are not RAT.

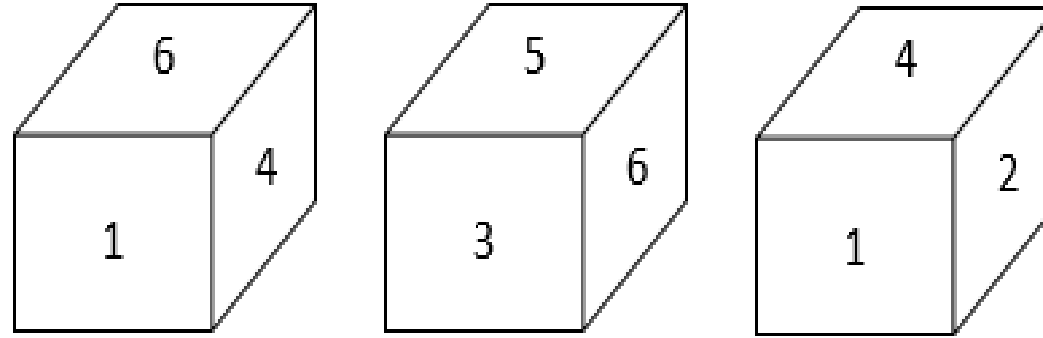
0:30

- A. Both I and II follow**
- B. Only I follows**
- C. Neither I nor II follows**
- D. Only II follows**

29

Three positions of a cube are shown below. What will come opposite to face containing number 2?

पासा के तीन चेहरे दिखाए गए हैं। 2 नंबर के विपरीत चेहरे पर क्या होगा?



A. 3

B. 5

C. 6

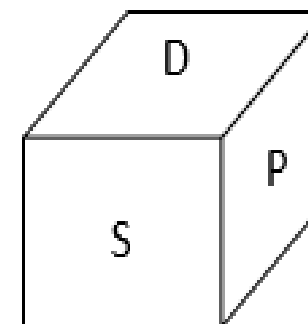
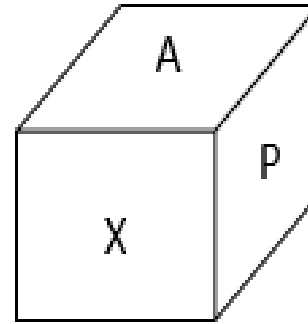
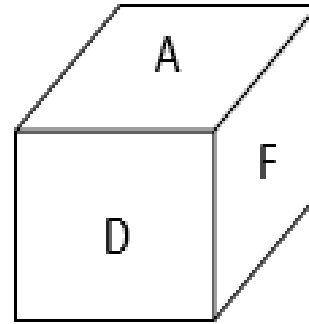
D. CND

0:30

30

Three positions of a cube are shown below. What will come opposite to face containing A?

पासा के तीन चेहरे दिखाए गए हैं। A के विपरीत चेहरे पर क्या होगा?



A. S

B. D

C. X

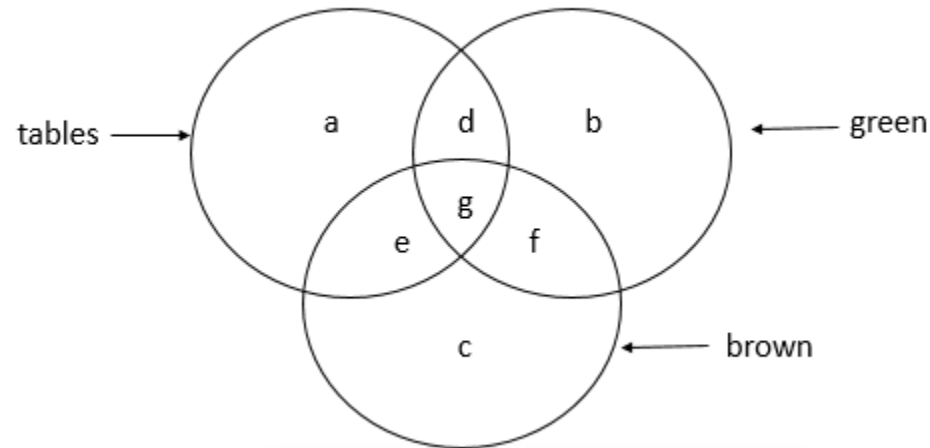
D. CND

0:30

31

In the given figure, which letter represents green tables which are not brown?

दिए गए चित्र में, कौन सा वर्ण हरे रंग की टेबल का प्रतिनिधित्व करता है जो ब्राउन नहीं हैं?



A. g

B. d

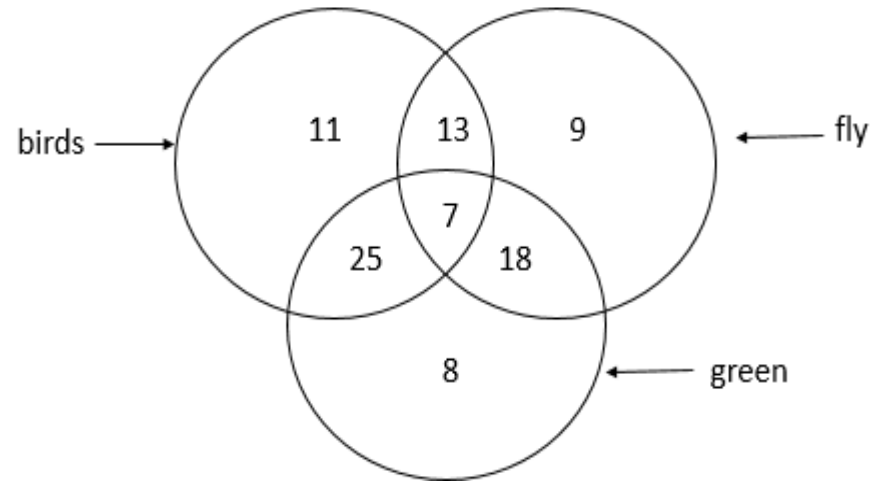
C. f

D. e

0:30

32

In the given figure, how many green birds are there?
दिए गए चित्र में, कितने हरे पक्षी हैं?



A. 25

B. 7

C. 32

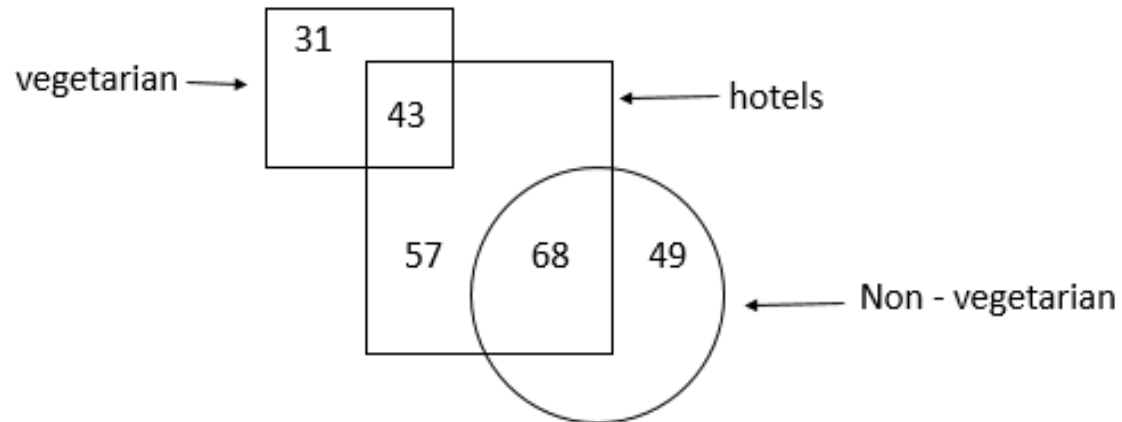
D. 13

0:30

33

In the given figure, how many hotels are either vegetarian or non – vegetarian?

दिए गए चित्र में, शाकाहारी या मांसाहारी कितने होटल हैं?



A. 100

B. 111

C. 74

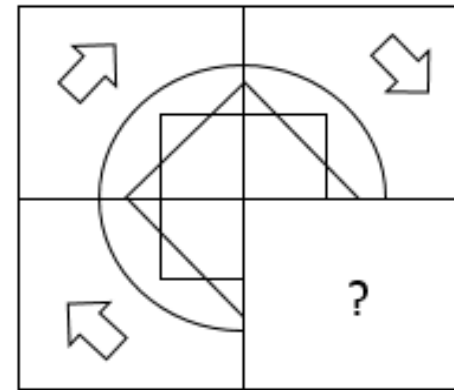
D. 125

0:30

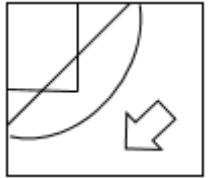
34

Which answer figure will complete the pattern in the question figure?

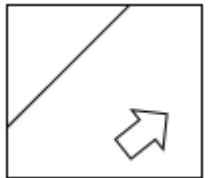
कौन सा उत्तर चित्र प्रश्न के पैटर्न को पूरा करेगा?



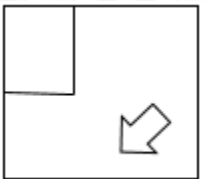
A.



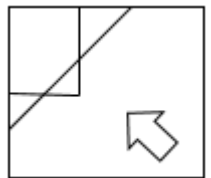
B.



C.



D.

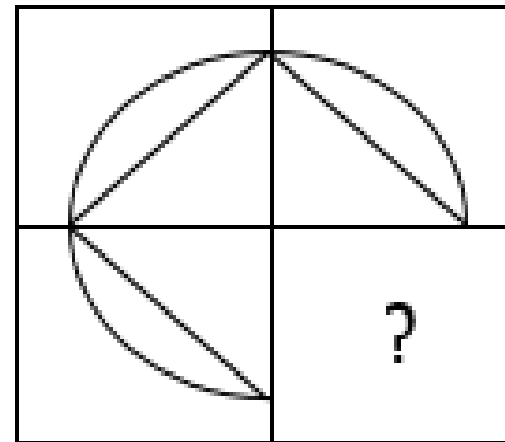


0:30

35

Which answer figure will complete the pattern in the question figure?

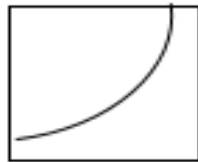
कौन सा उत्तर चित्र प्रश्न के पैटर्न को पूरा करेगा?



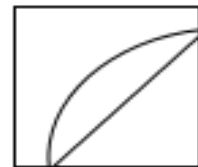
A.



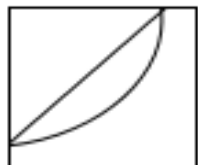
B.



C.



D.

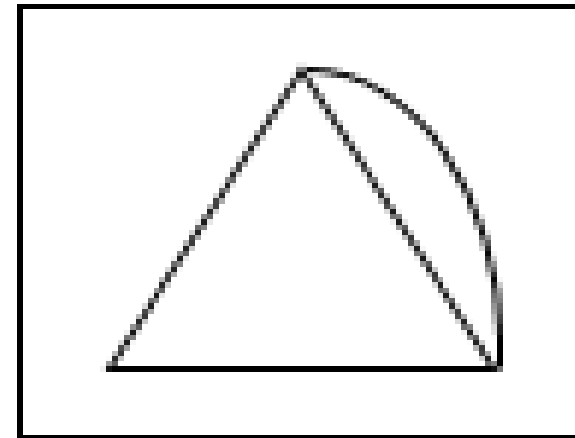


0:30

36

From the given figures, select the one in which the question figure is hidden/ embedded.

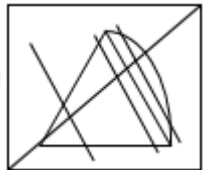
दिए गए उत्तर चित्र से, उस प्रश्न का चयन करें जिसमें प्रश्न चित्र छिपा हुआ है।



A.



B.



C.



D.

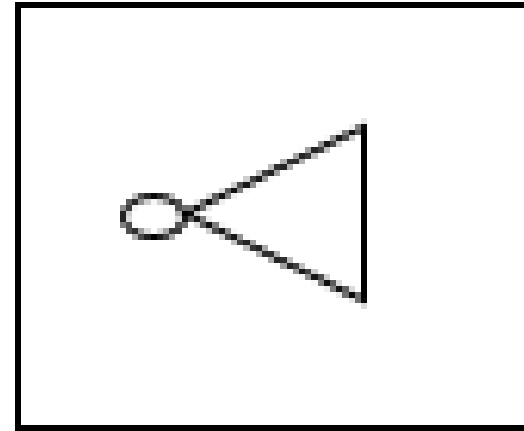


0:30

37

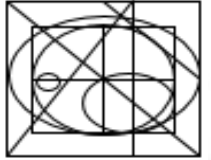
From the given answer figures, select the one in which the question figure is hidden/ embedded.

दिए गए उत्तर चित्र से, उस प्रश्न का चयन करें जिसमें प्रश्न चित्र छिपा हुआ है।

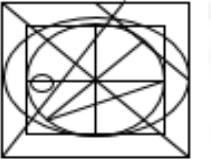


0:30

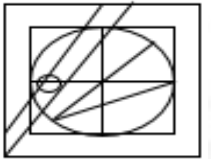
A.



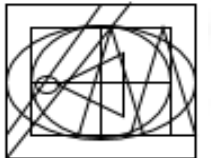
B.



C.



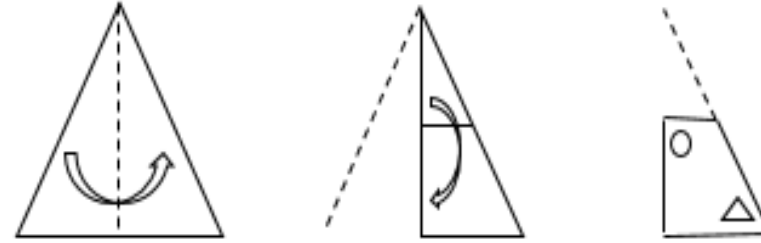
D.



38

A piece of paper is folded and punched as shown below in the question figures. From the given answer figures, indicate how it will appear when opened?

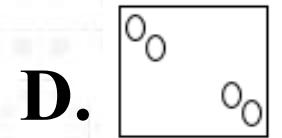
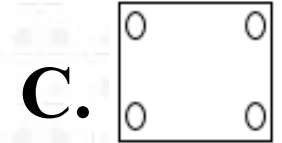
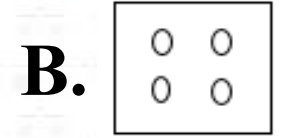
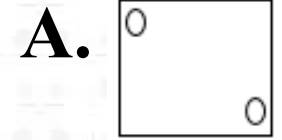
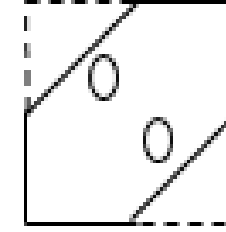
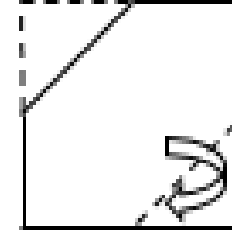
प्रश्नपत्र में नीचे दिखाए गए क्रम अनुसार एक पेपर को मोड़ा जाता है और उसमें छेद किये गए हैं। दिए गए उत्तर चित्रों में से, इसे खोले जाने पर यह कैसा दिखाई देगा?

**0:30**

- A.
- B.
- C.
- D.

39

A paper is folded and punched as shown below in the question figures. From the given answer figures, indicate how it will appear when opened? प्रश्नपत्र में नीचे दिखाए गए क्रम अनुसार एक पेपर को मोड़ा जाता है और उसमें छेद किये गए हैं। दिए गए उत्तर चित्रों में से, इसे खोले जाने पर यह कैसा दिखाई देगा?



0:30

40

Choose the alternative which closely resembles the mirror image of each element in the given combination./ दिए गए संयोजन का दर्पण छवि जैसा दिखने वाला विकल्प चुनें।

DNS3K6

0:30

A. 2εDηκθ

B. εDη2κθ

C. Dη2εκθ

D. κθD2ηε

41

Choose the alternative which closely resembles the mirror image of each element in the given combination./ दिए गए संयोजन का दर्पण छवि जैसा दिखने वाला विकल्प चुनें।

7RC3SE

0:30

A. २ Я 3 Ǝ 2 Ǝ

B. Я 3 २ Ǝ 2 Ǝ

C. Ǝ 2 3 Ǝ Я २

D. 3 Ǝ २ Я 2 Ǝ

42

You have to identify the set for the word
'SPEAK'

Matrix – I

	0	1	2	3	4
0	S	E	H	L	J
1	B	L	E	N	K
2	N	S	K	J	L
3	N	H	B	E	S
4	B	S	H	J	E

Matrix – II

	5	6	7	8	9
5	P	K	T	A	V
6	V	A	K	T	P
7	A	T	P	V	K
8	T	P	U	V	A
9	V	K	A	P	T

0:30

A. 00, 68, 01, 67, 22

B. 34, 98, 33, 75, 14

C. 34, 86, 11, 58, 96

D. 42, 55, 12, 88, 79

43

Identify the set for the word 'READY'.

Matrix – I

	0	1	2	3	4
0	E	R	H	L	D
1	B	L	R	N	E
2	N	S	D	R	L
3	R	D	E	G	S
4	B	S	H	D	E

Matrix – II

	5	6	7	8	9
5	P	K	Y	U	A
6	A	Y	K	T	P
7	Y	T	A	V	K
8	T	A	U	V	Y
9	V	K	Y	A	T

0:30**A. 21, 12, 59, 22, 66****B. 23, 32, 65, 42, 76****C. 01, 13, 65, 31, 88****D. 30, 14, 86, 43, 89**

**OFFER
OF THE DAY**

**SBI PO 2019
2000
VACANCIES**

SBI PO PRE
VIDEO GURU
STUDY FROM HOME
~~₹4000~~
₹1999/-

SBI PO PRE + MAINS
SPEED TEST CARD
50 TESTS
1 YEAR VALIDITY
~~₹1399~~
₹499/-

SBI PO MAINS
SPEED TEST CARD
20 TESTS
1 YEAR VALIDITY
~~₹799~~
₹399/-

SBI PO PRE
SPEED TEST CARD
30 TESTS
1 YEAR VALIDITY
~~₹599~~
₹299/-

Buy Now myshop.mahendras.org **Toll Free** 1800 103 5225 (9 AM TO 6 PM)



LIKE

COMMENT

SHARE

SUBSCRIBE