

REASONING (25 SEPTEMBER 2018)

Q.1 A walks 6 km. towards North. From there he walk 12 km towards South. Then he walks 5 km. towards East. How far and in Which direction is he with reference to s starting point?

A उत्तर की ओर 6 किमी. चलता है। यहां से वह 12 किमी. दक्षिण की ओर चलता है। फिर वह 5 किमी. पूर्व की ओर चलता है। वह अपने प्रारम्भिक बिंदु से कितनी दूरी और किस दिशा में है?

- (A) $\sqrt{62}$ km. / किमी. South-East / दक्षिण-पूर्व
(B) $\sqrt{61}$ km. / किमी. South-East / दक्षिण-पूर्व
(C) $\sqrt{63}$ km./ किमी. South-East / दक्षिण-पूर्व
(D) $\sqrt{60}$ km. / किमी. South-East / दक्षिण-पूर्व

Ans: B

Q.2 In a certain code language, 'PAIN' is written as 'QBJO'. How is 'METER' will be written in that code language?

एक निश्चित कूट भाषा में 'PAIN' को 'QBJO' लिखा जाता है तो उसी कूट भाषा में 'METER' को कैसे लिखा जायेगा?

- (A) NGUFS
(B) NFUFS
(C) NFVGT
(D) LDSOQ

Ans: B

Q.3 Three position of a dice given below. Which number is opposite of 3.
एक पासे की तीन स्थितियां नीचे दी गयी हैं। कौन सा अंक 3 के विपरीत है?



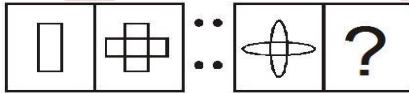
- (A) 2
(B) 5
(C) 4
(D) 1

Ans: D


Q.4 From the given alternatives select the related figure.

दी गयी आकृतियों में से संबंधित आकृति को चुनिये।

Question figures: / प्रश्न आकृतियां :



Answer figure: // उत्तर आकृतियां



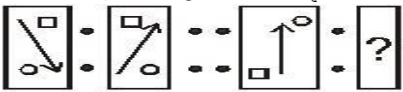
- (A) A
(B) B
(C) C
(D) D

Ans: D

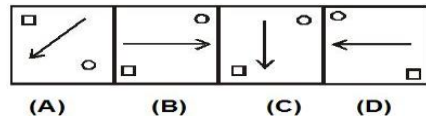
Q.5 From the given alternatives select the related figure.

दी गयी आकृतियों में से संबंधित आकृति को चुनिये।

Question figures : / प्रश्न आकृतियां :



Answer figures : / उत्तर आकृतियां



(A) (B) (C) (D)

- (A) A
(B) B
(C) C
(D) D
Ans: D

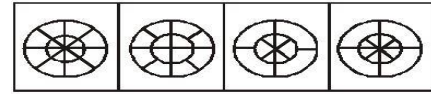
Q.6 From the given alternatives select the related figure.

दी गयी आकृतियों में से संबंधित आकृति को चुनिये।

Question figures : / प्रश्न आकृतियां :



Answer figures : / उत्तर आकृतियां:



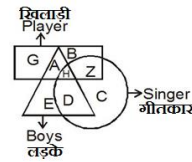
- (A) A
(B) B
(C) C
(D) D
Ans: A

Q.7 Study the following venn-diagram carefully and answer the question given below-

निम्नलिखित वेन-आकृति का अध्ययन करें और नीचे दिये गये प्रश्नों के उत्तर दें :

Which of the following letter represents boys who are player but not singer?

निम्नलिखित में से कौन सा अक्षर लड़कों को दर्शाता है जो खिलाड़ी है लेकिन गीतकार नहीं?



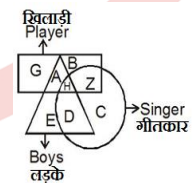
- (A) A
(B) H
(C) Z
(D) E
Ans: A

Q.8 Study the following venn-diagram carefully and answer the question given below-

निम्नलिखित वेन-आकृति का अध्ययन करें और नीचे दिये गये प्रश्नों के उत्तर दें :

Which of the following letter represents player who are also singer but not boys?

निम्नलिखित में कौन सा अक्षर खिलाड़ियों को दर्शाता है जो गीतकार हैं परन्तु लड़के नहीं?



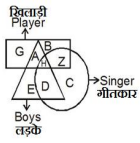
- (A) C
(B) H
(C) Z
(D) E
Ans: C

Q.9 Study the following venn-diagram carefully and answer the question given below-

निम्नलिखित वेन-आकृति का अध्ययन करें और नीचे दिये गये प्रश्नों के उत्तर दें :

(F) Which of the following letter represents singers who are also boys?

(G) निम्नलिखित में से कौन अक्षर गीतकार को दर्शाता है जो लड़के भी हैं?



(H)

(I) E

(J) C

(K) A

(L) D

Ans: D

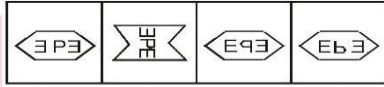
Q.10 Which of the following figure is the correct mirror image of the given figure?

निम्नलिखित में से कौन सी आकृति दी गयी आकृति की दर्पण आकृति होगी ?

Question figure: / प्रश्न आकृति :



Answer figures: / उत्तर आकृतियाँ:



(A)

(B)

(C)

(D)

(A) A

(B) B

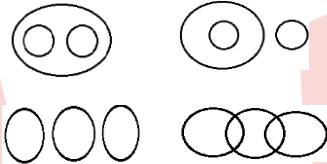
(C) C

(D) D

Ans: C

Q.11 Which one of the following diagram best depicts the relationship among Cat, Dog and Animal.

निम्नलिखित में से कौन सा आरेख बिल्ली, कुत्ते और जानवरों का सही संबंध दर्शाता है?



(A) A

(B) B

(C) C

(D) D

Ans: A

Q.12 In each of the following questions, select the related letter/word/number from the given alternatives. / दिये गये विकल्पों में से संबंधित शब्द/अक्षरों/संख्या को चुनियें।

HQZI : JSBK :: ? : FOXG

(A) DMVE

(B) DNVE

(C) HPZI

(D) DMWE

Ans: A

Q.13 In each of the following questions, select the related letter/word/number from the given alternatives. / दिये गये विकल्पों में से संबंधित शब्द/अक्षरों/संख्या को चुनियें।

JLN : SQO :: ? : YWU

(A) QSU

(B) TRP

(C) PRT

(D) QTR

Ans: C

Q.14 In each of the following questions, select the related letter/word/number from the given alternatives.

दिये गये विकल्पों में से संबंधित शब्द/अक्षरों/संख्या को चुनियें।

Nature : 24 :: Picture : ?

(A) 32

(B) 39

(C) 28

(D) 36

Ans: C

Q.15 In each of the following questions, select the related letter/word/number from the given alternatives.

दिये गये विकल्पों में से संबंधित शब्द/अक्षरों/संख्या को चुनियें।

Stationery : Pencil :: Furniture : ?

स्टेशनरी : पेंसिल :: फर्नीचर : ?

(A) Ring / अंगूठी

(B) Table / टेबल

(C) Room / कमरा

(D) T.V. / टी.वी.

Ans: B

Q.16 In each of the following questions, select the related letter/word/number from the given alternatives.

दिये गये विकल्पों में से संबंधित शब्द/अक्षरों/संख्या को चुनियें।

VH : 14 :: XT : ?

(A) 6

(B) 8

(C) 5

(D) 4

Ans: D

Q.17 In each of the following questions, select the related letter/word/number from the given alternatives.

दिये गये विकल्पों में से संबंधित शब्द/अक्षरों/संख्या को चुनियें।

CAT : TAC :: ? : GIB

(A) BIG

(B) IBG

(C) IGB

(D) BGI

Ans: A

Q.18 In each of the following questions, select the related letter/word/number from the given alternatives.

दिये गये विकल्पों में से संबंधित शब्द/अक्षरों/संख्या को चुनियें।

West : East :: South : ?

पश्चिम : पूर्व :: दक्षिण : ?

(A) North / उत्तर

(B) East / पूर्व

(C) South - West / दक्षिण - पश्चिम

(D) South - East / दक्षिण. पूर्व

Ans: A

Q.19 In each of the following questions, select the related letter/word/number from the given alternatives.

दिये गये विकल्पों में से संबंधित शब्द/अक्षरों/संख्या को चुनियें।

Ribs : Lungs :: Shell : ?

पसली : फेफड़े :: छिलका : ?

(A) Nut / नट

(B) Fruit / फल

(C) Sphere / गोला

(D) Ball / गेंद

Ans: A

Q.20 In each of the following questions, select the related letter/word/number from the given alternatives.

दिये गये विकल्पों में से संबंधित शब्द/अक्षरों/संख्या को चुनियें।

KEWQ : IGUS :: UKQE : ?

(A) SIMO

(B) SMOG

- (C) SMIO
(D) TNJP
Ans: A
- Q.21 Find the odd number/letter/figure/number pair from the given alternative.
दिये गये विकल्पों में से विषम अक्षरों/शब्दों/संख्याओं को चुनिये।
- (A) Sesame / तिल
(B) Currant / किशमिश
(C) Repeseed / अरंडी
(D) Mustard / सरसों
Ans: B
- Q.22 Find the odd number/letter/figure/number pair from the given alternative.
दिये गये विकल्पों में से विषम अक्षरों/शब्दों/संख्याओं को चुनिये।
- (A) 7946
(B) 6974
(C) 3740
(D) 5948
Ans: C
- Q.23 Find the odd number/letter/figure/number pair from the given alternative.
दिये गये विकल्पों में से विषम अक्षरों/शब्दों/संख्याओं को चुनिये।
- (A) Usage
(B) Usual
(C) Unite
(D) Urine
Ans: B
- Q.24 Find the odd number/letter/figure/number pair from the given alternative.
दिये गये विकल्पों में से विषम अक्षरों/शब्दों/संख्याओं को चुनिये।
- (A) 8-48
(B) 12-72
(C) 9-54
(D) 14-74
Ans: D
- Q.25 Find the odd number/letter/figure/number pair from the given alternative.
दिये गये विकल्पों में से विषम अक्षरों/शब्दों/संख्याओं को चुनिये।
- (A) Sneezing / छींक
(B) Hiccup / हिचकी
(C) Respiration / श्वसन
(D) Yawn / जंभाई
Ans: C
- Q.26 Find the odd number/letter/figure/number pair from the given alternative.
दिये गये विकल्पों में से विषम अक्षरों/शब्दों/संख्याओं को चुनिये।
- (A) AEIM
(B) BFJN
(C) OSWA
(D) ILOR
Ans: D

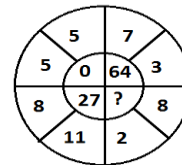
Q.27 In each of the following questions, a series is given, with one term missing choose the correct alternative from the given one that will complete the series.

एक अनुक्रम दिया गया है जिसमें एक आकृति लुप्त है चार दिए गए विकल्पों में से वह विकल्प चुनिए जो अनुक्रम को पूरा करे:
3, 9, 27, 81, 243, ?

- (A) 486
(B) 2187
(C) 729
(D) 974

Ans: D

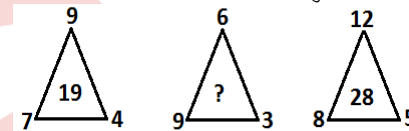
Q.28 In the questions, select the missing number from the given responses:
प्रश्नों में, दिये गये विकल्पों से लुप्त संख्या को चुनिये:



- (A) 216
(B) 100
(C) 125
(D) 144

Ans: A

Q.29 In the questions, select the missing number from the given responses:
प्रश्नों में, दिये गये विकल्पों से लुप्त संख्या को चुनिये:



- (A) 27
(B) 21
(C) 28
(D) 17

Ans: B

Q.30 In each of the following questions, a series is given, with one term missing choose the correct alternative from the given one that will complete the series.

एक अनुक्रम दिया गया है जिसमें एक आकृति लुप्त है चार दिए गए विकल्पों में से वह विकल्प चुनिए जो अनुक्रम को पूरा करे:
4, 7, 12, 21, 38, 71, ?

- (A) 176
(B) 175
(C) 184
(D) 136

Ans: D

CLICK ON THIS VIDEO

