



RAILWAY NTPC



REASONING

DICE / पासा



पासे के ऐसे प्रश्न जिनसे आप हैं अंजान

TYPE-2

DAY - 64 | 6:00 PM

 Mahendra's

ENSURE YOUR SUCCESS WITH- **VIDEO GURU**



A COMPLETE VIDEO CLASS
FOR YOUR PREPARATION

Subscribe
BUTTON



BOOST YOUR PREPARATIONS WITH MAHENDRAS: STUDY MATERIAL, E-MICA, E-NEWS, BAGS & MUCH MORE. VISIT NOW: myshop.mahendras.c



“जिनमें अकेले चलने का
होंसला होता है, उनके
पीछे एक दिन काफिला
होता है।”

 **Mahendra's**

ENSURE YOUR SUCCESS WITH- VIDEO GURU



A COMPLETE VIDEO CLASS
FOR YOUR PREPARATION

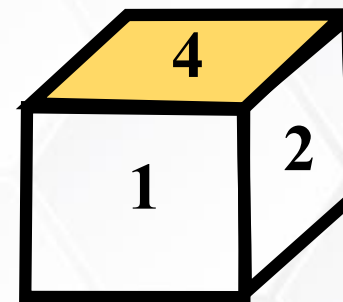
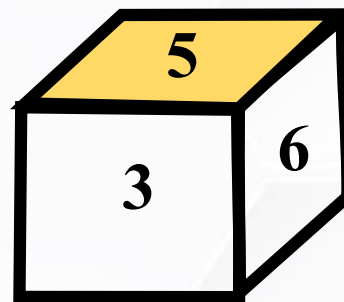
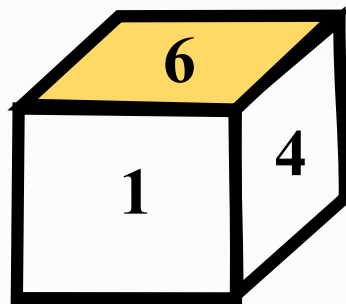
Subscribe
BUTTON 

BOOST YOUR PREPARATIONS WITH MAHENDRAS: **STUDY MATERIAL, E-MICA, E-NEWS, BAGS & MUCH MORE.** VISIT NOW: myshop.mahendras.com



Three positions of a dice are given, find out which digit would be in front of 1 on that basis ?

एक पांसे की तीन स्थितियां दी गयी है उसके आधार पर यह पता कीजिए की अंक 1 के सामने कौन सा अंक आएगा ?



(A) 3

(B) 5

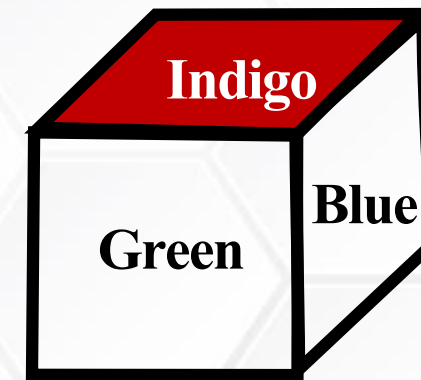
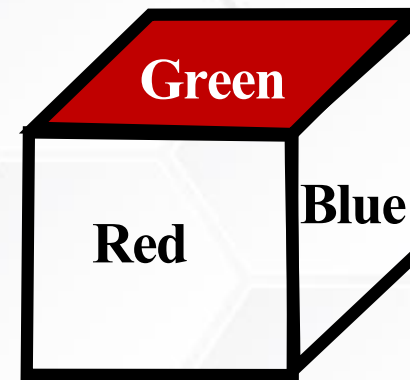
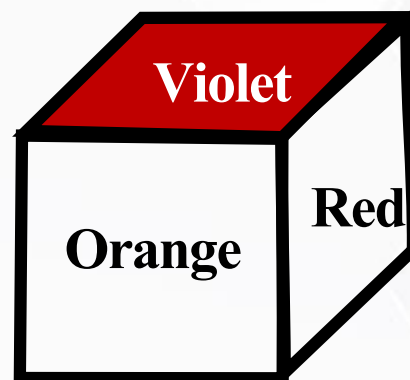
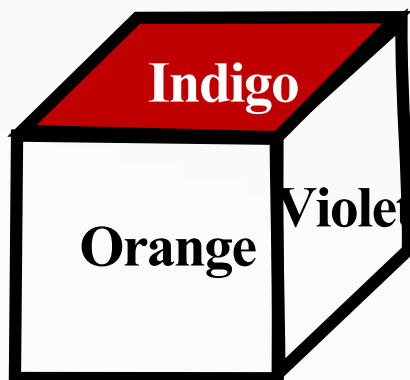
(C) 2

(D) 6



Which colour would be opposite to ORANGE?

ऑरेंज के विपरीत कौन सा रंग होगा?

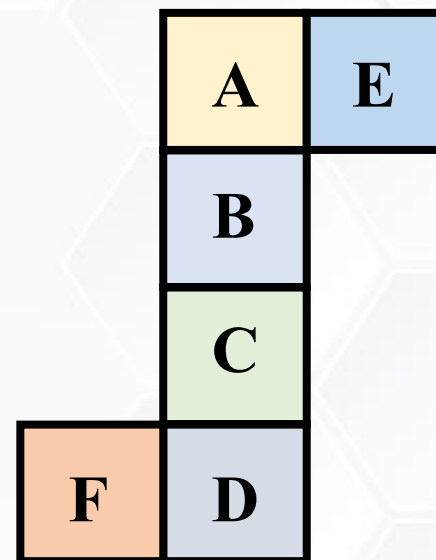


- (A) Indigo
- (B) Blue
- (C) Violet
- (D) Green





Which face is opposite to F?
F के सामने कौन सा सतह है?



(A) C

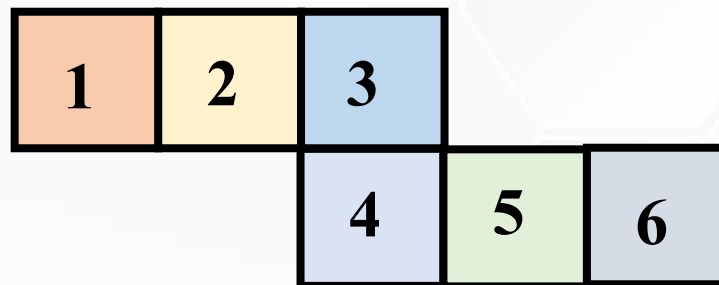
(B) D

(C) E

(D) B



Which face is opposite to 5?
कौन सा सतह 5 के विपरीत है?



(A) 3


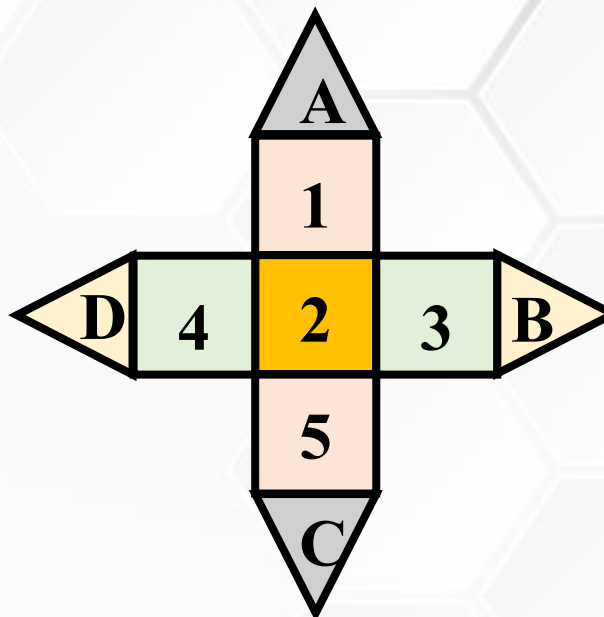
(B) 4

(C) 2


(D) 6




Which face is opposite to 2 ?
कौन सा सतह 2 के विपरीत है?




(A)



(B)



(C)

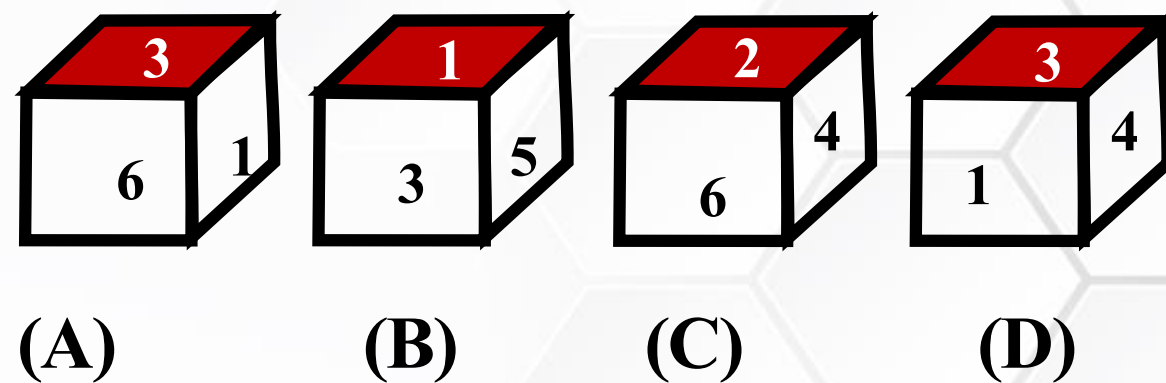
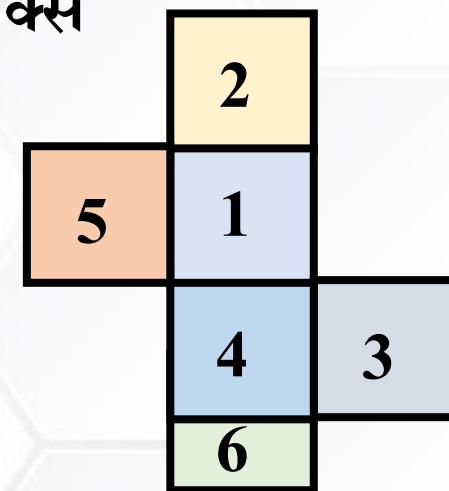


(D)



Select from the alternative, the box the can be formed by folding the sheet shown in figure (X).

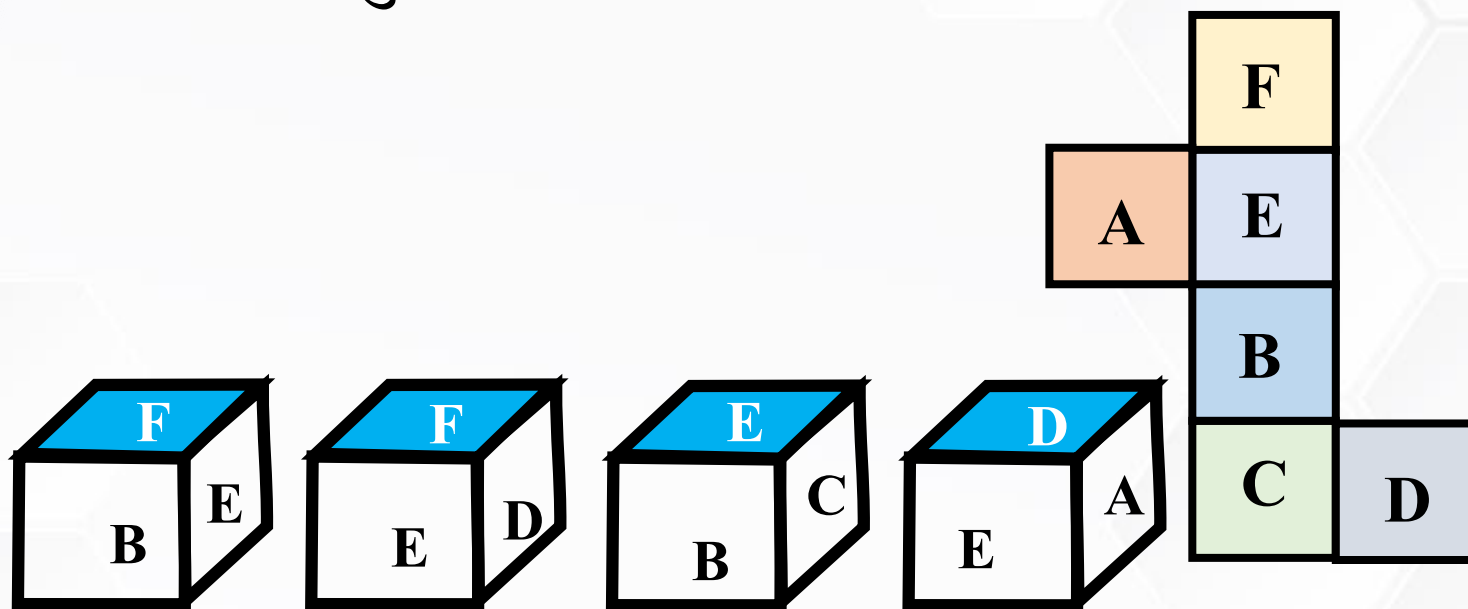
विकल्प से चयन करें, आकृति (एक्स) में दिखाए गए शीट को मोड़कर बॉक्स का गठन किया जा सकता है।





Choose the box that is similar to the box formed from the given sheet of paper (X).

उस बॉक्स को चुनें जो दी गई शीट (X) की शीट से बने बॉक्स के समान है।



(A)

(B)

(C)

(D)

A. 1 only

B. 2 only

C. 1 and 3 only

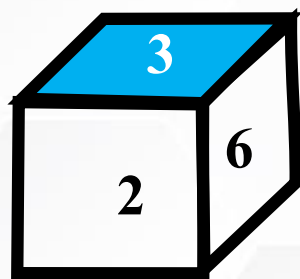
D. 1, 2, 3 and 4 only



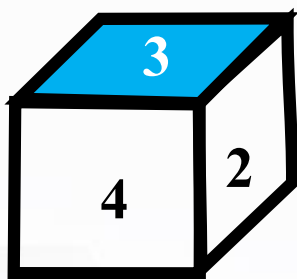


Choose the box that is similar to the box formed from the given sheet of paper (X).

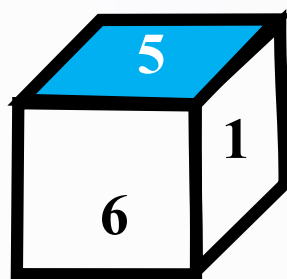
उस बॉक्स को चुनें जो दी गई शीट (X) की शीट से बने बॉक्स के समान है।



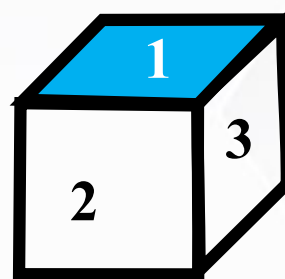
(1)



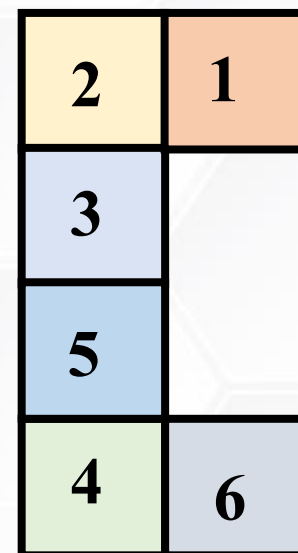
(2)



(3)



(4)



A. 1 only

B. 2 only

C. 1 and 4 only


D. 1, 2, 3 and 4 only



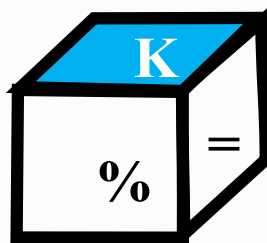


Select from the alternative dice that can be formed by folding the open dice show in figure?

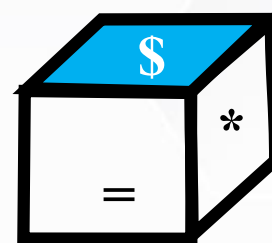
उस वैकल्पिक पासा से चयन करें जिसे खुले पासा में मोड़कर बनाया जा सकता है?




(A)



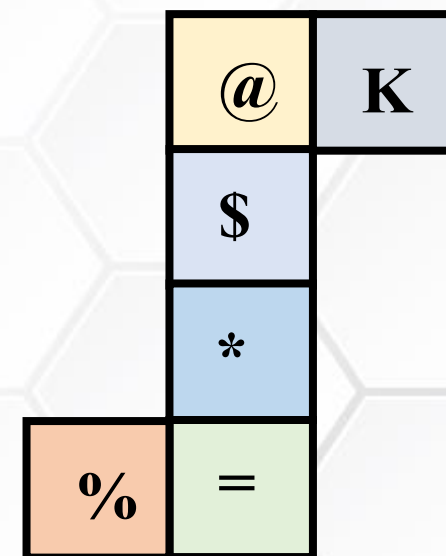
(B)



(C)




(D)





How many dots lie opposite to the face having three dots, when the given figure is folded to form a cube?

तीन डॉट्स वाले सतह के विपरीत कितने डॉट्स होते हैं, जब दिए गए आकृति को क्यूब बनाने के लिए मोड़ा जाता है?



A. 2

B. 4

C. 5

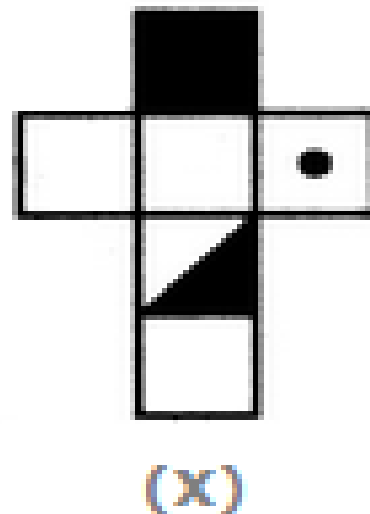
D. 6





Choose the box that is similar to the box formed from the given sheet of paper (X).

उस बॉक्स को चुनें जो दी गई शीट (X) की शीट से बने बॉक्स के समान है।



A. 1 and 3 only

B. 2, 3 and 4 only

C. 2 only

D. 3 and 4 only



(1)



(2)



(3)



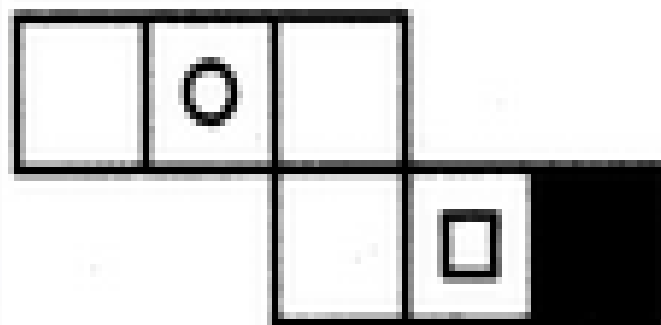
(4)






Choose the box that is similar to the box formed from the given sheet of paper (X).


उस बॉक्स को चुनें जो दी गई शीट (X) की शीट से बने बॉक्स के समान है।



(1)



(2)



(3)



(4)

A. 1 and 3 only

B. 2, 3 and 4 only

C. 2 only

D. 3 and 4 only





Which of the following cube in the answer figure cannot be made based on the unfolded cube in the question figure?

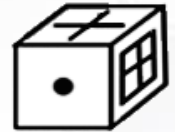
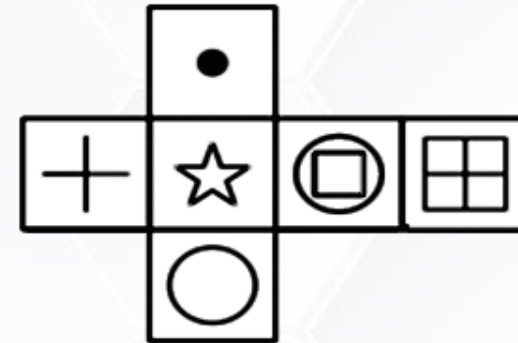
उत्तर आकृति में निम्न में से कौन सा घन प्रश्न आकृति में दिए गए घन के आधार पर नहीं बनाया जा सकता है?

A. A

B. B

C. C

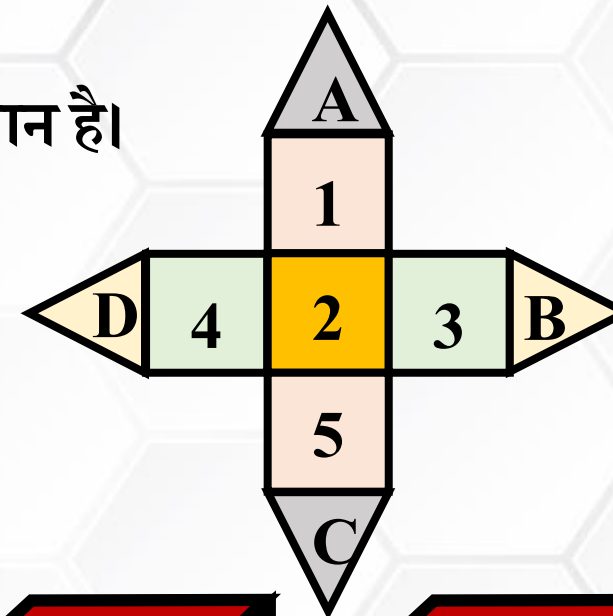
D. D





Choose the box that is similar to the box formed from the given sheet of paper.

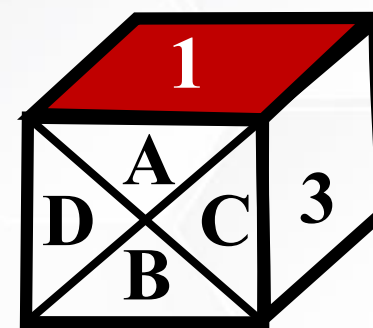
उस बॉक्स को चुनें जो दिए गए शीट से बने बॉक्स के समान है।



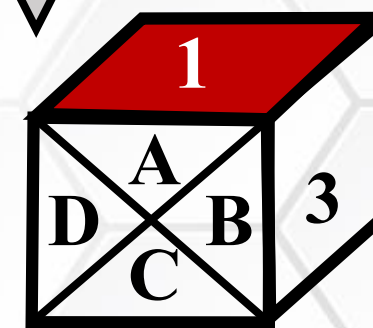
(A)



(B)



(C)



(D)

