

REASONING

रेलवे 2019 में आने वाले

अतिसम्भावित

20+ महत्वपूर्ण सवाल



06:00 PM

देखना ना भूलें



**RAILWAY
NTPC
2019**

Mahendra's

LIKE US ON FACEBOOK



/Emahendras

JOIN MAHENDRAS !!! BEST CHOICE TO OPT FOR THE PREPARATION OF BANK, S

1

In the following questions, select the related word/letters/numbers from the given alternatives: निम्नलिखित प्रश्नों में, दिए गए विकल्पों से संबंधित शब्द / अक्षर / संख्या का चयन करें:

Maharashtra: India::Texas: ?/महाराष्ट्र: भारत :: टेक्सास : ?

- A. Canada/ कनाडा
- B. Mexico/ मेक्सिको
- C. Brazil/ ब्राज़ील
- D. USA/ अमेरीका

2

In the following questions, select the related word/letters/number from the given alternatives. निम्नलिखित प्रश्नों में, दिए गए विकल्पों से संबंधित शब्द / अक्षर / संख्या का चयन करें।

JK : QR :: _____ : _____

A. ST : UV

B. WX : ZY

C. BC : IJ

D. MN : OR

3

In the following questions, select the related word/letters/number from the given alternatives. निम्नलिखित प्रश्नों में, दिए गए विकल्पों से संबंधित शब्द / अक्षर / संख्या का चयन करें।

72 : 90 :: 156 : ?

A. 184

B. 168

C. 182

D. 176

4

In the following questions, select the related word/letters/
numbers from the given alternatives: निम्नलिखित प्रश्नों में, दिए गए
विकल्पों से संबंधित शब्द / अक्षर / संख्या का चयन करें:



A. Square/ वर्ग

B. Sphere/ गोला

C. Rectangle/ आयत

D. Circle/ वृत्त

5

In the following questions, select the related word/letters/
numbers from the given alternatives: निम्नलिखित प्रश्नों में, दिए गए
विकल्पों से संबंधित शब्द / अक्षर / संख्या का चयन करें:

A. AE


B. CG

C. JN

D. MO

6

In the following questions, select the related word/letters/numbers from the given alternatives. निम्नलिखित प्रश्नों में, दिए गए विकल्पों से संबंधित शब्द / अक्षर / संख्या का चयन करें।



A. 4 -16

B. 8-24

C. 14-26

D. 16-36

7

Arrange the following words as per order in the dictionary.

शब्दकोश में क्रम के अनुसार निम्नलिखित शब्द व्यवस्थित करें।

1. Stilt

2. Stifle

3. Stink

4. Stingy

A. 3,4,2,1

B. 1,3,4,2

C. 2,1,4,3

D. 2,3,4,1

8

In the following questions, select the related word/letters/numbers from the given alternatives: निम्नलिखित प्रश्नों में, दिए गए विकल्पों से संबंधित शब्द / अक्षर / संख्या का चयन करें:

CL,HQ,MV,?

A. RA

B. QZ

C. SB

D. TC

9

In the following questions, select the related word/letters/numbers from the given alternatives: निम्नलिखित प्रश्नों में, दिए गए विकल्पों से संबंधित शब्द / अक्षर / संख्या का चयन करें:

11, 13, 17, 19, 23, 25, _____

A. 25

B. 27

C. 29

D. 31

10

Introducing a man, a woman said that, "He is the son of my mother's brother's father's son." Then how is the woman related to the man? एक आदमी का परिचय कराते हुए, एक औरत ने कहा, "वह मेरी मां के भाई के पिता के बेटे का बेटा है।" तो महिला,आदमी से कैसे संबंधित है?

A. Nephew

B. Brother

C. Son

D. Cousin

11

From the given alternative words, select the word which cannot be formed using the letters of the given word:/ दिए गए वैकल्पिक शब्दों में से, उस शब्द का चयन करें जिसे दिए गए शब्द के अक्षरों का उपयोग करके बनाया नहीं जा सकता है:

LEGALIZATION



A. ALERT

B. ALEGATION

C. GALLANT

D. NATAL

12

If DECEMBER is coded as EDECBMRE then FEBRUARY will be coded as/ यदि DECEMBER को EDECBMRE के रूप में कोड किया गया है तो FEBRUARY को कोड किया जाएगा

- A. EFRBUAYR
- B. EFBRAUYR
- C. EFRBUARY
- D. EFRBAUYR

13

If, $6 \times 4 = 12$, $4 \times 12 = 24$, $12 \times 6 = 36$ then $6 \times 9 = ?$

A. 35

B. 24

C. 27

D. 31

14

If \times means $+$, $+$ means \div , $-$ means \times and \div means $-$, then
 $8 \times 7 - 8 + 40 \div 2 = ?$

A. 1

B. $37/5$

C. $8\frac{3}{5}$

D. 44

15

Statement: Vegetable prices are soaring in the market.

बाजार में सब्जियों की कीमतें बढ़ रही हैं।

Conclusions: I. Vegetables are becoming a rare commodity./सब्जियां एक दुर्लभ वस्तु बन रही हैं।

II. People cannot eat vegetables./लोग सब्जियां नहीं खा सकते।



16

10	6	9
18	14	17
28	34	?
20	26	32

A. 25


B. 37

C. 40

D. 57

17

Find the number of triangles in the figure.



A. 8

B. 10

C. 12

D. 14

18

In a group of 50 students, 25 play Hockey, 30 play Football, and 8 play neither game. What is the number of students who play both Hockey and Football?

50 छात्रों के एक समूह में, 25 हॉकी खेलते हैं, 30 फुटबॉल खेलते हैं, और 8 कोई खेल नहीं खेलते हैं। हॉकी और फुटबॉल, दोनों खेलने वाले छात्रों की संख्या क्या है?

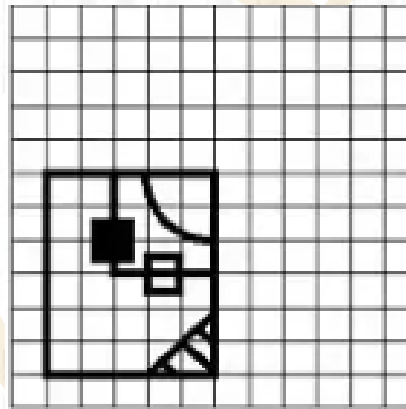
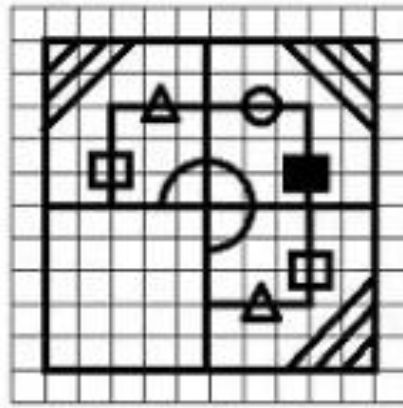
A. 10

B. 11

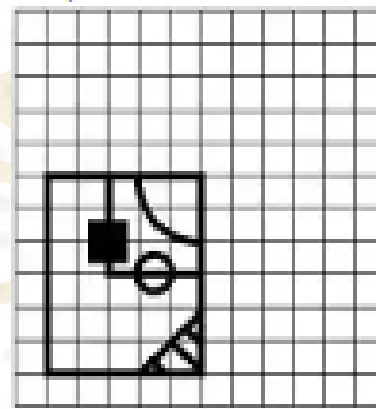
C. 12

D. 13

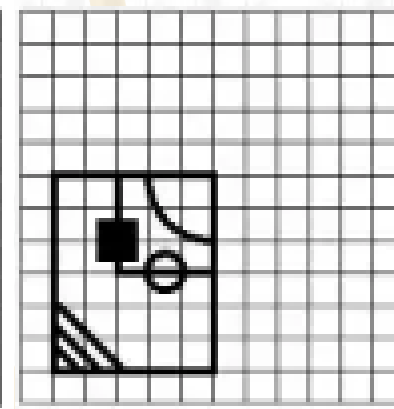
19



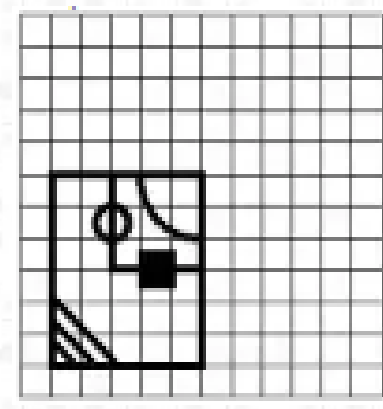
A



B

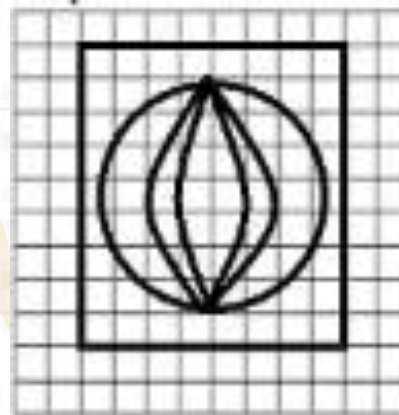
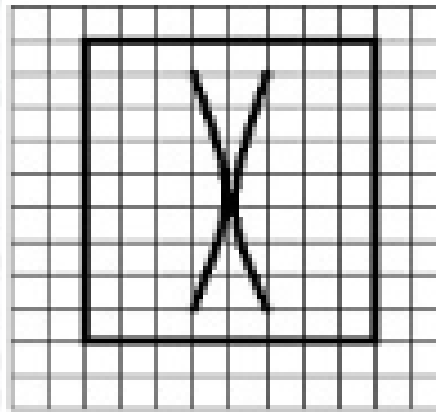


C

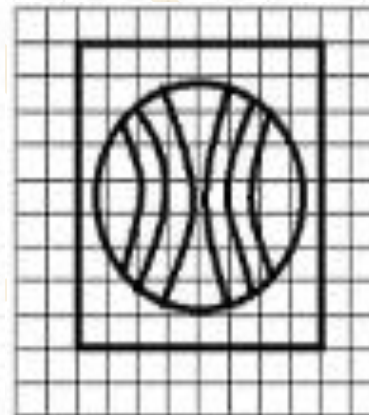


D

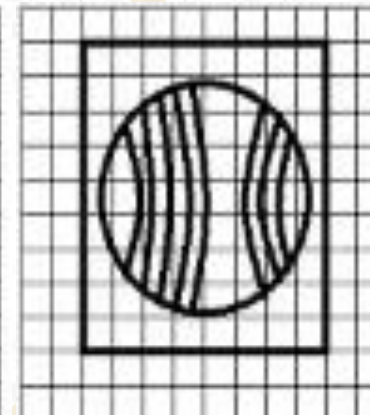
20



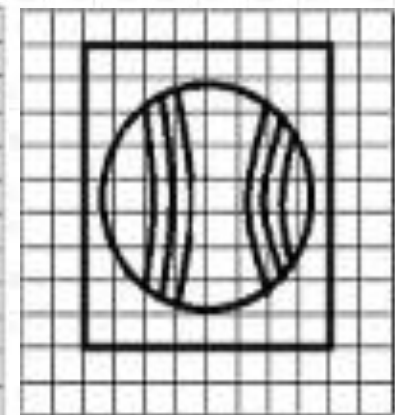
A



B

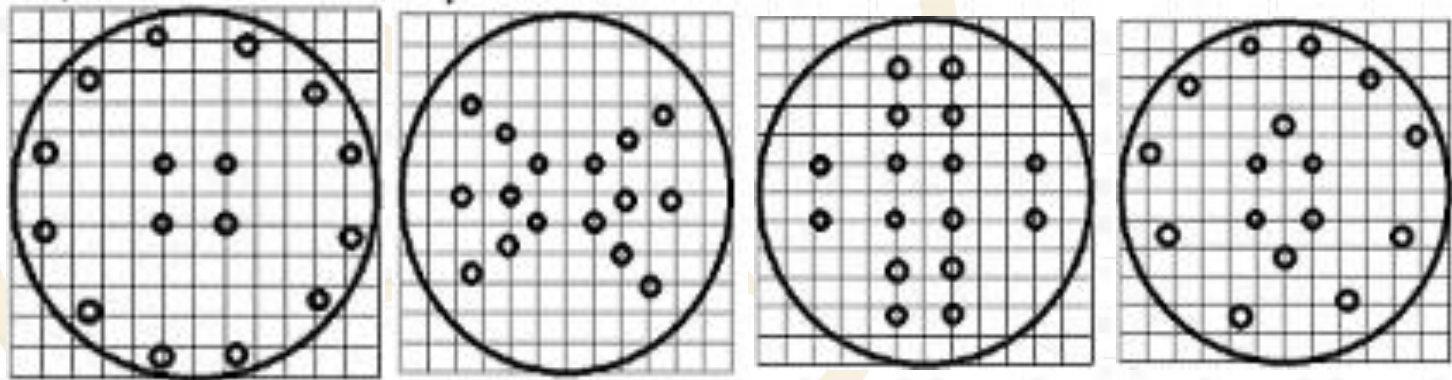
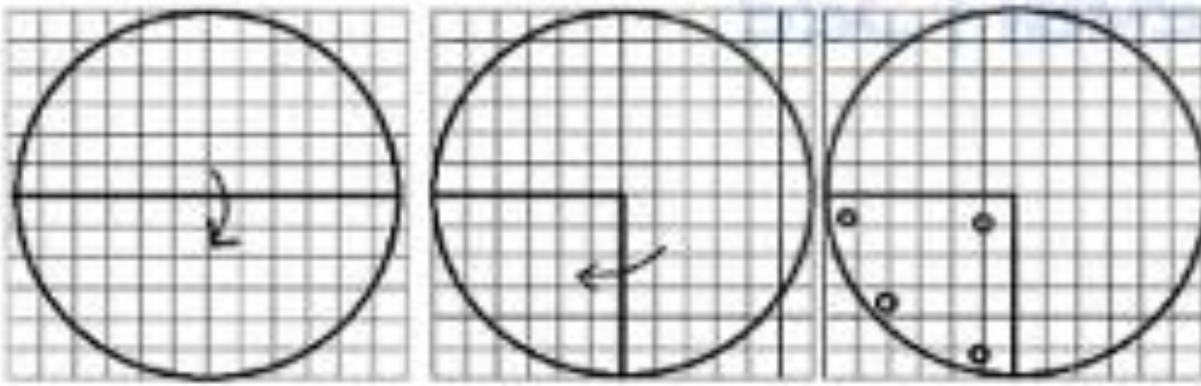


C



D

21



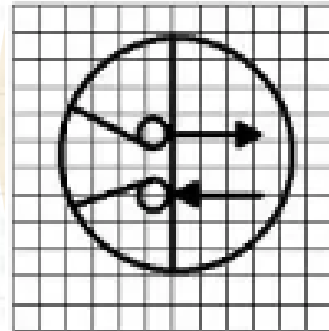
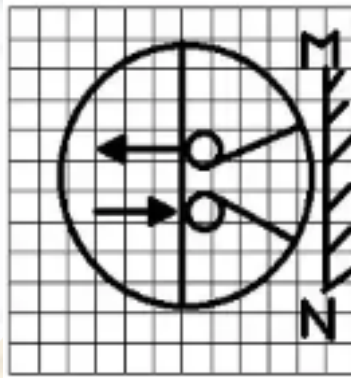
A

B

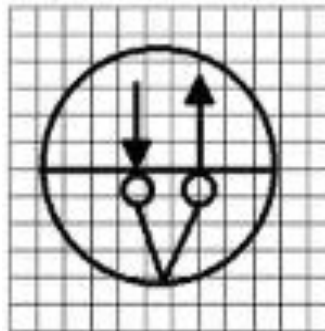
C

D

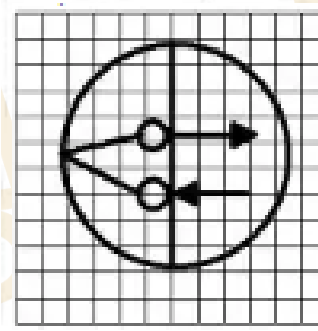
22



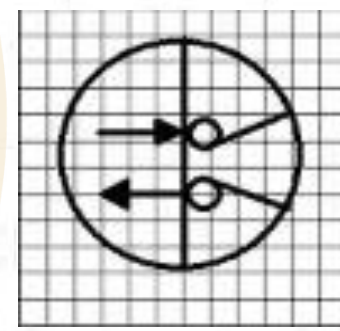
A



B



C

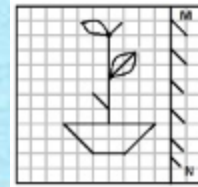


D



LIKE

COMMENT



SHARE

SUBSCRIBE