

REASONING (UTTAR PRADESH POLICE 29 NOVEMBER 2018)

Q.1 In the following questions, a number series is given with one term missing. Choose that correct alternative which well complete the series
निम्नलिखित प्रश्नों में, एक संख्या श्रृंखला को एक लुप्त पद के साथ दिया गया है। उसी सही विकल्प को चुनें जो श्रृंखला को पूरा करेगा।
512, 343, ?, 125, 64, 27
(A) 216 (B) 320 (C) 222 (D) 116

Ans: A

Q.2 In the following questions, a number series is given with one term missing. Choose that correct alternative which well complete the series
निम्नलिखित प्रश्नों में, एक संख्या श्रृंखला को एक लुप्त पद के साथ दिया गया है। उसी सही विकल्प को चुनें जो श्रृंखला को पूरा करेगा।
4, 11, 30, 85, 248, ?
(A) 333 (B) 444 (C) 683 (D) 735

Ans: D

Q.3 In the following questions, a number series is given with one term missing. Choose that correct alternative which well complete the series
निम्नलिखित प्रश्नों में, एक संख्या श्रृंखला को एक लुप्त पद के साथ दिया गया है। उसी सही विकल्प को चुनें जो श्रृंखला को पूरा करेगा।
109, 74, 46, 25, 11, ?
(A) 36 (B) 0 (C) 4 (D) 11

Ans: C

Q.4 In each of the following questions select the related word/ number letter from the given alternatives
निम्न प्रश्नों में से प्रत्येक में, दिये गए विकल्पों में से संबंधित शब्द/संख्या/अक्षर का चयन करें।
BED : GJI :: LOH : ?
(A) PTS (B) QST (C) KNH (D) QTM

Ans: D

Q.5 In each of the following questions select the related word/ number letter from the given alternatives
निम्न प्रश्नों में से प्रत्येक में, दिये गए विकल्पों में से संबंधित शब्द/संख्या/अक्षर का चयन करें।
482 : 241 :: 292 : ?
(A) 286 (B) 272 (C) 146 (D) 291

Ans: C

Q.6 In each of the following questions select the related word/ number letter from the given alternatives.
निम्न प्रश्नों में से प्रत्येक में, दिये गए विकल्पों में से संबंधित शब्द/संख्या/अक्षर का चयन करें।
7 : 52 :: 17 : ?
(A) 289 (B) 292 (C) 295 (D) 298

Ans: B

Q.7 Find odd word/ number from the four given alternatives.
दिए गए चार विकल्पों में से विषम शब्द/संख्या ज्ञात कीजिये।
(A) Deenar / दीनार (B) Yen / येन
(C) Franc / फ्रैंक (D) Pound / पाउंड

Ans: B

Q.8 Find odd word/ number from the four given alternatives.
दिए गए चार विकल्पों में से विषम शब्द/संख्या ज्ञात कीजिये।
(A) Shimla / शिमला (B) Darjeeling / दार्जिलिंग
(C) Ooty / ऊटी (D) Agra / आगरा

Ans: D

Q.9 Identify the diagram that best represents the relationship among classes given below.
उस आरेख को पहचानें जो नीचे दिए गए वर्गों के बीच सर्वश्रेष्ठ संबंध को दर्शाता है।
Examination, Question, Practice / परीक्षा, सवाल, अभ्यास



Ans: C

Q.10 From the given alternative words, select the word which cannot be formed using the letter of the given word:
दिए गए वैकल्पिक शब्दों से, उस शब्द का चयन करें जो दिये गये शब्द के अक्षरों से नहीं बनाया जा सकता है?
DISTANCE
(A) DANCE (B) STAND (C) SANE (D) TEASE

Ans: D

Q.11 From the given alternative words, select the word which cannot be formed using the letter of the given word:
दिए गए वैकल्पिक शब्दों से, उस शब्द का चयन करें जो दिये गये शब्द के अक्षरों से नहीं बनाया जा सकता है?
RESURRECTIONIST
(A) TOURIST (B) NOISE (C) SORCERER (D) TENDER

Ans: D

Q.12 In a certain code language, SMART is written as UKCPV. What will be the code for WONDER in that code language?
एक निश्चित कोड भाषा में SMART को UKCPV लिखा जाता है, तो WONDER के लिए उसी कोड भाषा में क्या कोड होगा?
(A) YMPprt (B) YMPBGP (C) YMPBFP (D) YMBPPG

Ans: B

Q.13 Rachita starts walking towards the north. After walking 15 meters, she turns towards the south and walks 20 meters. After this, she turns towards east 10 meters and then walks 5 meters towards the north. Now in which direction is she from her starting point and how far?
रचिता उत्तर की ओर चलना आरम्भ करती है। 15 मीटर चलने के बाद, वह दक्षिण दिशा में मुड़कर 20 मीटर चलती है। इसके बाद वह पूर्व की ओर मुड़कर 10 मीटर चलती है। अंततः वह उत्तर की ओर 5 मीटर चलती है अब वह अपने मूल बिन्दु से किस दिशा में, कितनी दूरी पर है?
(A) 10 meters west (B) 5 meters east
(C) 5 meters north (D) 10 meters east

Ans: D

Q.14 What was the day on 19th February 1995?
19 फरवरी 1995 को कौन सा दिन था?
(A) Monday / सोमवार (B) Wednesday / बुधवार
(C) Sunday / रविवार (D) Friday / शुक्रवार

Ans: C

Q.15 If P means \times , T means $-$, M means $+$ and B means \div , what will be the value of 12 P 6 M 15 T 16 B 4 ?
यदि P का अर्थ \times , T का अर्थ $-$, M का अर्थ $+$ और B का अर्थ \div है तो 12 P 6 M 15 T 16 B 4 का सही मान क्या होगा?
(A) 70 (B) 75 (C) 83 (D) 110

Ans: C

Q.16 Statement / कथन :
All pens are clocks / सभी पेन घड़िया हैं।
Some clock are wheel / कुछ घड़िया पहिए हैं।
Conclusion / निष्कर्ष
I. No wheels are clocks / कोई पहिया, घड़ी नहीं है।
II. Some pens are wheels / कुछ पेन पहिया हैं।
(A) Only I follows (B) Only II follows
(C) Both I and II follows (D) Neither I nor II follows

Ans: D

Q.17 Kamlesh is Anil's brother. Sundari is the sister of Madan, Anil is the son of Sundari. Now how is Kamlesh related to Sundari?
कमलेश, अनिल का भाई है। सुन्दरी, मदन की बहन है। अनिल, सुन्दरी का पुत्र है। कमलेश का सुन्दरी से क्या संबंध है?
(A) Nephew / भतीजा (B) Son / पुत्र
(C) Brother / भाई (D) Father / पिता

Ans: B

Q.18 Find the missing number from the given alternatives/दिये गये विकल्पों में से लुप्त संख्या ज्ञात कीजिये।

5 6 12
4 3 4
2 3 ?
18 27 96

(A) 4 (B) 5 (C) 3 (D) 6

Ans: C

Q.19 If/यदि $4 \times 6 \times 9 = 649$ and / और, $9 \times 8 \times 4 = 894$ then / तो $3 \times 7 \times 2 = ?$

(A) 294 (B) 732 (C) 813 (D) 272

Ans: B

Q.20 Find the missing number from the given alternatives/दिये गये विकल्पों में से लुप्त संख्या ज्ञात कीजिये

3 4 13
8 8 56
5 3 ?

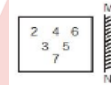
(A) 6 (B) 8 (C) 2 (D) 4

Ans: D

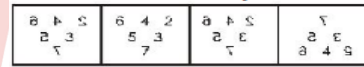
Q.21 If a mirror is placed on the line MN, then which of the answer figures is the right water image for the given figure?

यदि दर्पण को MN रेखा पर रखा जाता है, तो दी गयी आकृति के लिए कौन-सी उत्तर आकृति सही जल प्रतिबिम्ब है?

Question figure / प्रश्न आकृति



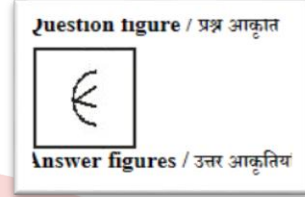
Answer Figure / उत्तर आकृति



(A) (B) (C) (D)

Ans: C

Q.22 From the given answer figures, select the one in which the question figure is hidden/embedded./दी गयी उत्तर आकृतियों में से छः उस एक का चयन करे जो प्रश्न आकृति में सन्निहित है?



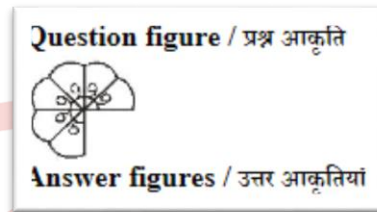
Q.23 In the following question, which one set of letter when sequentially placed at the gaps in the given letter series shall complete it
अक्षरों का कौन-सा एक सेट जब अक्षर श्रृंखला में दिए गए अंतरालों पर क्रमिक रूप से रखा जाता है, तो वह श्रृंखला को पूरा करेगा?

q _ e _ n _ u e _ n _ _ e e n q _ e _ n

(A) ueequeque (B) Ueuqeque (C) Qeuueqee (D) ueqeque

Ans: D

Q.24 Which answer figure will be complete the pattern in the question figure?/कौन सी उत्तर आकृति प्रश्न आकृति के प्रतिरूप को पूरा करेगी?



Q.25 Find odd word/ number from the four given alternatives./दिए गए चार विकल्पों में से विषम शब्द/संख्या ज्ञात कीजिये

(A) BADC (B) XWZY (C) VUST (D) NMPO

Ans: C

CLICK ON THIS VIDEO

