





REASONING (UTTAR PRADESH POLICE 20 DECEMBER 2018)

- Q.1 Which of the following Venn diagram represents the correct relationship between Road, Bus, Truck?
निम्नलिखित में से कौन सी वेन आकृति सड़क, बस, ट्रक के बीच संबंध को निरूपित करती है?
- (A)  (B)  (C)  (D) 
- Ans: A
- Q.2 One/two statements are given followed by two conclusions I and II. You have to consider the one/two statements to be true, even if they seem to be at variance from commonly known facts. You have to decide which of the given conclusion can definitely be drawn from the given statement. Indicate your answer. / नीचे दिये गए प्रश्न में एक/दो कथन और उसके बाद दो निष्कर्ष I और II दिए गए हैं। आपको दिए गए कथनों को सत्य मानना है, भले ही वे सर्वज्ञात तथ्यों से भिन्न हों। फिर तय कीजिए कि कौन-सा निष्कर्ष एक/दोनों कथनों का तर्कसंगत रूप से अनुसरण करता है, चाहे सर्वज्ञात तथ्य कुछ भी हों। अपने उत्तर दीजिए-
- Statement: / कथन:**
Many people feel nervous when face interview. / बहुत से व्यक्ति साक्षात्कार के समय घबराहट महसूस करते हैं।
- Conclusions: / निष्कर्ष:**
I. Many people can confidently face interview. / बहुत से व्यक्ति आत्म विश्वास से साक्षात्कार दे सकते हैं।
II. Few people can confidently face interview. / बहुत कम व्यक्ति आत्म विश्वास से साक्षात्कार दे सकते हैं।
- (A) Only I follows (B) Only II follows
(C) Neither I nor II follows (D) Both I and II follows
- Ans: D
- Q.3 Choose the correct alternatives from the given ones that will complete the series.
दिये गये विकल्पों में से वह सही विकल्प चुनिए जो अनुक्रम को पूरा करता है।
SXW, VTZ, ?, BLF
- (A) XOC (B) YUC (C) YVC (D) YOC
- Ans: C
- Q.4 Choose the correct alternatives from the given ones that will complete the series.
दिये गये विकल्पों में से वह सही विकल्प चुनिए जो अनुक्रम को पूरा करता है।
G 12 I 14 K ? M 18 O
- (A) 16 (B) 0 (C) 15 (D) P
- Ans: A
- Q.5 Choose the correct alternatives from the given ones that will complete the series.
दिये गये विकल्पों में से वह सही विकल्प चुनिए जो अनुक्रम को पूरा करता है।
14 17 12 15 ? 13
- (A) 11 (B) 16 (C) 10 (D) 18
- Ans: C
- Q.6 M, N, O, P and Q are five girls sitting in a circle and facing towards the center. O is sitting immediately to the left of Q. M is sitting between P and Q. Who is sitting to the immediate left of O?
पाँच लड़कियाँ M, N, O, P और Q एक वृत्त में बैठी हुई हैं और केन्द्र की ओर देख रही हैं। O, Q के तुरन्त बायीं ओर बैठी है तथा M, P और Q के बीच बैठी हुई है। O के तुरन्त बायीं तरफ कौन बैठा है?
- (A) Q (B) M (C) N (D) P
- Ans: C
- Q.7 Arrange the following in a logical order.
निम्न को सार्थक क्रम में व्यवस्थित करें-
- (1) Euphoria (2) Happiness (3) Ambivalence
(4) Ecstasy (5) Pleasure
(1) परम आनन्द (2) आनन्द (3) उभयभावित
(4) असीम आनन्द (5) प्रसन्नता
(A) 1, 4, 2, 5, 3 (B) 2, 1, 3, 4, 5 (C) 3, 2, 5, 1, 4 (D) 4, 1, 3, 2, 5

- Ans: C
- Q.8 On 8th Dec. 2015, Saturday falls, then what day of the week was it on 8th Dec. 2014 ?
8 दिसम्बर 2015 पर शनिवार आता है तो 8 दिसम्बर 2014 को सप्ताह का कौन-सा दिन था ?
- (A) Friday/शुक्रवार (B) Thursday/बृहस्पतिवार
(C) Saturday/शनिवार (D) Sunday/रविवार
- Ans: A
- Q.9 In a row of the six members, P is sitting to the left of Q but to the right of X, R is sitting to the right of X but to immediate the left of Q. Who is to the left of Z which of the following members are sitting in the middle of row ?
छः सदस्यों की एक पंक्ति में P, Q के बायें लेकिन X के दायें बैठा है R, X के तुरन्त दायें बैठा है लेकिन Q के तुरन्त बायें बैठा है। निम्न सदस्यों में से कौन पंक्ति के बीच में बैठा है ?
- (A) PR (B) RQ (C) XR (D) can't be determined
- Ans: D
- Q.10 If in a certain code PACKET is written as RBELGU then how is NUMBER written in that code ?
एक निश्चित कोड भाषा में PACKET को RBELGU लिखा जाता है तो उसी कोड भाषा में NUMBER को क्या लिखा जायेगा ?
- (A) OWNDFT (B) PVOCGS (C) PVODGS (D) OWNDGT
- Ans: B
- Q.11 If E = 5 and KING = 41 then QUEEN = ?
यदि E = 5 और KING = 41 हो तो QUEEN = ?
- (A) 50 (B) 60 (C) 61 (D) 62
- Ans: D
- Q.12 Select the related letters / Word/ Number from the given alternatives ?
दिए गये विकल्पों में से सम्बंधित शब्द / अक्षर / संख्या को चुनिए ?
- Calendar : Dates :: Dictionary :** ?
कैलेंडर : डेट्स :: डिक्शनरी : ?
- (A) Language / लैंग्वेज (B) Words / वर्ड्स
(C) Sentence / सेन्टेंस (D) Vocabulary / वोकेबुलरी
- Ans: B
- Q.13 Select the related letters / Word/ Number from the given alternatives?
दिए गये विकल्पों में से सम्बंधित शब्द / अक्षर / संख्या को चुनिए ?
- QG : 200 :: EY : ?**
- (A) 44 (B) 300 (C) 69 (D) 137
- Ans: A
- Q.14 What will come in a place of questionmark ?
निम्नलिखित में प्रश्नवाचक के स्थान पर क्या आएगा ?
5, 7, 16, 44, 109, ?
- (A) 135 (B) 153 (C) 235 (D) 253
- Ans: C
- Q.15 What will come in a place of questionmark ?
निम्नलिखित में प्रश्नवाचक के स्थान पर क्या आएगा ?
12, 16.5, 25.5, 39, 57, ?
- (A) 79 (B) 79.5 (C) 80 (D) 80.5
- Ans: B
- Q.16 Which one set of letter when sequentially placed at the gaps in the given letter series shall complete it ?
नीचे दी गयी श्रृंखला के खाली स्थानों पर क्रम से रखने पर निम्नलिखित में से कौन सा अक्षर उसे पूरा करेगा ?
c _ decd _ ec _ de _ dde
- (A) dddc (B) dcde (C) dced (D) dced
- Ans: A
- Q.17 Which one set of letter when sequentially placed at the gaps in the given letter series shall complete it ?
नीचे दी गयी श्रृंखला के खाली स्थानों पर क्रम से रखने पर निम्नलिखित में से कौन सा अक्षर उसे पूरा करेगा ?
_ srqqs _ q _ _ qqsrq
- (A) qsqr (B) qqrr (C) qqrs (D) qqsr

Ans: D
Q.18 Arrange the given words in the alphabetical order.
दिये गये शब्दों को वर्णमाला क्रम में व्यवस्थित कीजिये।
1. Agitation 2. Aggreive 3. Aggregate 4. Aggression 5. Agent
(A) 5,3,2,4,1 (B) 5,1,2,3,4 (C) 5,3,1,2,4 (D) 5,1,3,4,2

Ans: A
Q.19 In each of the following questions, Select the related letters/word/numbers from the given alternatives.
निम्न प्रत्येक प्रश्नों में दिए गए विकल्पों में से विषम अक्षर/शब्द/संख्या को चुनिए।
Dal Lake/डल झील : Srinagar / श्रीनगर :: Chilka Lake / चिल्का झील :?
(A) भुवनेश्वर / Bhubaneswar (B) भोपाल / Bhopal
(C) हैदराबाद / Hyderabad (D) जबलपुर / Jabalpur

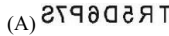
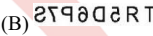
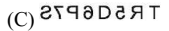
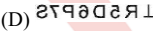
Ans: A
Q.20 **Statements:/कथन :**
Cricketers are rich./ क्रिकेटर धनी होते हैं।
Some rich persons are honest. / कुछ धनी व्यक्ति ईमानदार हैं।
On the basis of the above two statements, which one of the following conclusions is logically correct?/ उपरोक्त दो कथनों के आधार पर निम्न निष्कर्षों में से कौन एक तर्क संगत रूप से सही है।
Conclusions:/निष्कर्ष :
(A) सभी क्रिकेटर, ईमानदार हैं। / All cricketers are honest.
(B) कुछ ईमानदार, क्रिकेटर हैं।/ Some honest are cricketer.
(C) कोई ईमानदार, क्रिकेटर नहीं है।/No honest is a cricketer.
(D) या तो निष्कर्ष (B) तथा (C) सही है। / Either conclusions (B) or (C) is correct

Ans: A
Q.21 Ram is facing North-West. He turns 90° in the clockwise direction, then 180° in the anticlockwise direction and then another 90° in the same direction and which direction he is facing now?
राम उत्तर-पश्चिम को देख रहा है वह 90° दक्षिणावर्त दिशा में घूमता है फिर 180° वामावर्त दिशा में और फिर 90° आगे उसी दिशा में घूमता है। अब वह किस दिशा में देख रहा है।

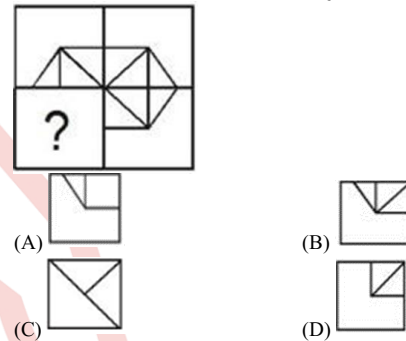
(A) East (B) South (C) South-West (D) South-East
Ans: D

Q.22 If '+' means '×', '-' means '+', ÷ means '+' and '×' means '-', then the value of $64 - 4 \div 3 + 5 \times 10$ will be
यदि '+' का अर्थ '×', '-' का अर्थ '+', ÷ का अर्थ '+' और '×' का अर्थ '-', होता है तो $64 - 4 \div 3 + 5 \times 10$ का मान होगा।
(A) 21 (B) 22 (C) 20 (D) 41

Ans: A
Q.23 Find the odd letters/number/word/number pair from the given alternatives.
दिए गए विकल्पों में से विषम अक्षर/संख्या/शब्द/संख्या युग्म चुनिए।
(A) चश्मा / Spectacles (B) संपर्क लेस/ Contact lens
(C) दूरबीन / Binoculars (D) दूरबीन / Binoculars

Ans: A
Q.24 Which of the following figure is the correct mirror image of the given figure?
निम्नलिखित कौन सी आकृति दी गई आकृति का सही दर्पण प्रतिबिम्ब है?
TR5D6P7S
(A)  (B) 
(C)  (D) 

Ans: A
Q.25 Complete the given pattern by choosing the correct alternative./विकल्पों में से उस विकल्प को चुनिए जो दी गई आकृति को पूरा करें।



Ans: B

CLICK ON THIS VIDEO  