

# REASONING DIGITAL GURU JI (07 NOVEMBER 19)

- Q1. Four pairs of numbers have been given out of which three are alike in some manner, while one is different. Choose the odd one./निम्नलिखित चार संख्या-युग्मों में से तीन युग्म किसी एक तरह से समान हैं और एक असमान है। उस असमान संख्या-युग्म का चयन कीजिए।

A. 48 : 81      B. 25 : 49      C. 16 : 36      D. 64 : 100

ANS-1

- Q2. How many triangles are there in the following figure?/निम्नलिखित चित्र में कितने त्रिकोण हैं?



A. 14      B. 12      C. 16      D. 20

ANS-3

- Q3. Four words have been given below. Out of which three are alike in some manner, while the fourth one is different. Choose out the odd one./निम्नलिखित चार शब्दों में से तीन शब्द किसी विशिष्ट सन्दर्भ में एक दूसरे के समान हैं और इनमें से एक असमान है। उस असमान विकल्प का चयन कीजिए।

A. Climb/ चढ़ना      B. Stairs / सीढ़ी (स्टेयरकेस)  
C. Escalators/ एस्केलेटर      D. Ladder/ जीना (लैडर)

ANS-1

- Q4. Identify the number which does not belong to the given series. /उस संख्या की पहचान कीजिए जो दी गई श्रृंखला से संबंधित नहीं है।

0, 6, 24, 60, 120, 216

A. 120      B. 216      C. 6      D. 60

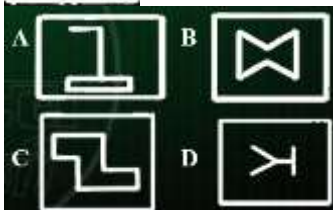
ANS-2

- Q5. Kartik starts from the mall. He walks 8km towards north. Then he turns right and walks 3km. After that he turns right and walks 5km. Again he turns right and walks 7km. Now what is the shortest distance between mall and the last position of Kartik?/कार्तिक ने एक मॉल से चलना शुरू किया। सबसे पहले, वह उत्तर दिशा की ओर 8 कि.मी. चला। वहां से वह दाईं ओर मुड़कर 3 कि.मी. चला। उसके उपरांत वह दाईं ओर मुड़कर 5 कि.मी. चला। इसके बाद वह फिर से दाईं ओर मुड़कर 7 कि.मी. चला। मॉल से कार्तिक के अंतिम स्थान की सबसे छोटी दूरी क्या है?

A. 7 km      B. 3 km      C. 5 km      D. 10 km

ANS-3

- Q6. Choose the options figure in which the problem figure is hidden embedded./ ऐसे विकल्प का चयन कीजिए जिसमें नीचे दी गई आकृति छिपी हुई है



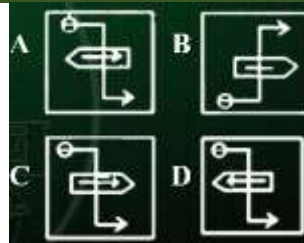
ANS-4

- Q7. In a certain code language, HAMMER is written as GBLNDS. How will NEEDLE be written in that code language?/एक निश्चित कोड भाषा में, HAMMER को GBLNDS के रूप में लिखा जाता है। उस कोड भाषा में NEEDLE को कैसे लिखा जाएगा?

A. DLENEE      B. OFLEKF      C. MFENKE      D. MFDEKF

ANS-4

- Q8. Choose the correct mirror image of the given figure when mirror is placed on the right side of the figure./दर्पण को नीचे दी गई आकृति के दायीं ओर रखने पर बनने वाले सही प्रतिबिम्ब का चयन कीजिए



ANS-4

- Q9. In a certain code language, HAMMER is written as GBLNDS. How will NEEDLE be written in that code language?/एक निश्चित कोड भाषा में, HAMMER को GBLNDS के रूप में लिखा जाता है। उस कोड भाषा में NEEDLE को कैसे लिखा जाएगा?

A. DLENEE      B. OFLEKF      C. MFENKE      D. MFDEKF

ANS-1

- Q10. In a certain code language, TANK is written as 7-26-13-16 then how will CARGO be written in the same code language? किसी कूट भाषा में, TANK को 7-26-13-16 के रूप में लिखा जाता है, तो उसी कूट भाषा में CARGO को कैसे लिखा जाएगा?

A. 24-26-9-20-15      B. 24-26-9-20-12      C. 24-26-18-20-12

D. 23-01-9-20-12

ANS-2

- Q11. Which number will replace the question mark (?) In the following series?/निम्नलिखित श्रृंखला में कौन-सी संख्या प्रश्नवाचक चिह्न (?) को प्रतिस्थापित करेगी?

60, 64, 32, 36, 18, ?

A. 22

B. 11

C. 15

D. 20

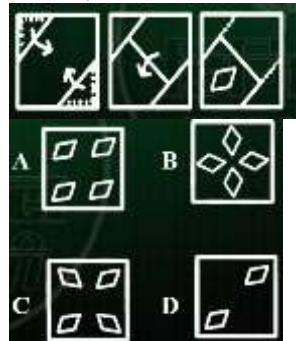
ANS-1

- Q12. Four numbers have been given out of which three are alike in some manner. While one is different. Choose the odd one./निम्नलिखित चार संख्याओं में से तीन संख्याएं किसी न किसी तरह समान हैं और इनमें से एक संख्या असमान है। उस असमान संख्या का चयन कीजिए।

A. 25      B. 33      C. 27      D. 15

ANS-1

- Q13. A paper is folded and cut as shown in the following figures. How will it appear when unfolded?/निम्नलिखित आकृतियों में दिखाए गए अनुसार एक कागज को मोड़ा और काटा जाता है। जब आकृति को खोला जाएगा तो यह कैसा दिखाई देगा?



ANS-4

- Q14. Four pairs of numbers have been given out of which three are alike in some manner, while one is different. Choose the odd one./निम्नलिखित चार संख्या-युग्मों में से तीन युग्म किसी एक तरह से समान हैं और एक असमान है। उस असमान संख्या-युग्म का चयन कीजिए।

A. 11 : 13      B. 23 : 29      C. 17 : 21      D. 3 : 5

ANS-3

- Q15. Four pairs of numbers have been given out of which three are alike in some manner, while one is different. Choose the odd one./निम्नलिखित चार संख्या-युग्मों में से तीन युग्म किसी एक तरह से समान हैं और एक असमान है। उस असमान संख्या-युग्म का चयन कीजिए।

A. 11 : 13      B. 23 : 29      C. 17 : 21      D. 3 : 5

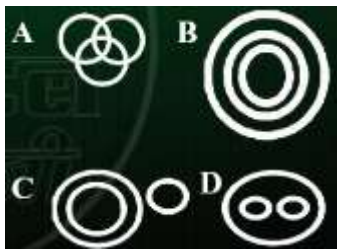
ANS-3

- Q16. If X = 48 and ACT = 48 then TALL = \_\_\_\_/यदि X = 48 और ACT = 48 है, तो TALL = \_\_\_\_

A. 88      B. 92      C. 90      D. 45

ANS-3

- Q15. Select the Venn diagram that best represents the given set of classes. /उस वेन आरेख का चयन करें जो वर्गों के दिए गए सेट के बीच सर्वश्रेष्ठ संबंध दर्शाता है। Stationery, Pen, Nib/स्टेशनरी, पेन, निब



ANS-2

- Q16. Arjun walks towards east direction. After walking 50 m, he turns to the left and walks 15 m straight. Again he turns to his left and walks 30 m. Further he turns left and walks 15 m. How far is he from his starting point? अर्जुन पूर्व दिशा में चलना शुरू करता है। 50 मीटर चलने के पश्चात्, वह अपनी बाईं ओर मुड़कर 15 मीटर सीधा चलता है। फिर, वहां से वह अपनी बाईं ओर मुड़कर 30 मीटर सीधा चलता है। वह पुनः अपनी बाईं ओर मुड़कर 15 मीटर चलता है। वह प्रारंभिक बिंदु से कितना दूरी पर है?
- A. 10 m B. 40 m C. 20 m D. 30 m

ANS-3

- Q17. Select the set of numbers that is similar to the following set./संख्याओं के उस सम्मुख (सेट) का चयन कीजिए जो निम्नलिखित सम्मुख (सेट) के समान है।  
(11, 16, 31)
- A. (17, 22, 37) B. (29, 34, 41) C. (19, 24, 31)  
D. (23, 28, 31)

ANS-1

- Q18. Three of the following four word-pairs are similar in a certain way and one is different. Choose different word-pairs from these. / निम्नलिखित चार शब्द-युग्मों में से तीन किसी न किसी रूप में समान हैं और एक असमान है। इनमें से असमान शब्द-युग्म का चयन कीजिए।
- A. Speaking: Shouting/बोलना : चिल्लाना B. Morning: Night /सुबह : रात  
C. Touching: Pushing/छूना : धक्का देना C. Refuse: Deny/इंकार करना : मना कर देना

ANS-2

- Q19. Select an option that is related to the third letter-group in the same way as the second letter-group is related to the first letter-group./ऐसे विकल्प का चयन करें जो तीसरे अक्षर-समूह से उसी प्रकार संबंधित है जिस प्रकार दूसरा अक्षर-समूह पहले अक्षर-समूह से संबंधित है।  
DFZ : IIU :: \_\_\_ : KLT
- A. EHW B. FHX C. FIY D. EIY

ANS-3

- Q20. In the following numbers, select the option related to the third number in the same way as the second number is related to the first number./नीचे दी गई संख्याओं में जिस प्रकार दूसरी संख्या पहली संख्या से सम्बंधित है उसी प्रकार तीसरी संख्या से सम्बंधित विकल्प का चयन कीजिए।  
4262 : 4271 :: 2139 : ?
- A. 2572 B. 2346 C. 9521 D. 7132

ANS-2

- Q21. Identify the odd one from the given groups of letters./अक्षरों के दिए गए समूहों में से विषम ज्ञात कीजिए।
- A. LMOQ B. DFHJ C. TVXZ D. GIKM

ANS-1

- Q22. In the following numbers, select the option related to the third number in the same way as the second number is related to the first number./नीचे दी गई संख्याओं में जिस प्रकार दूसरी संख्या पहली संख्या से सम्बंधित है उसी प्रकार तीसरी संख्या से सम्बंधित विकल्प का चयन कीजिए।  
12 : 72 :: 26 : ?
- A. 165 B. 155 C. 160 D. 156

ANS-4

- Q23. Select the set of numbers that is similar to the following set. /संख्याओं के उस सम्मुख (सेट) का चयन कीजिए जो निम्नलिखित सम्मुख (सेट) के समान है।  
(4, 3, 19)
- A. (8, 5, 96)  
B. (6, 4, 40)  
C. (5, 9, 28)  
D. (3, 5, 25)

ANS-2

- Q24. Statements: Some dancers are students./ कुछ नर्तक विद्यार्थी हैं।  
Some students are singers./ कुछ विद्यार्थी गायक हैं।  
Conclusion:/ निष्कर्ष :  
I. Some singers are dancers./ कुछ गायक नर्तक हैं।  
II. Some singers are students./ II. कुछ गायक छात्र हैं।
- A. Only conclusion II follows  
B. Neither conclusion I nor II follows

C. Either conclusion I or conclusion II follows.

D. Only conclusion I follows.

ANS-1

- Q25. Select an option that is related to the third letter-group in the same way as the second letter-group is related to the first letter-group./ऐसे विकल्प का चयन करें जो तीसरे अक्षर-समूह से उसी प्रकार संबंधित है जिस प्रकार दूसरा अक्षर-समूह पहले अक्षर-समूह से संबंधित है।

Body: Vitamins :: Crops : ?/शरीर : विटामिन :: फसलें : ?

A. Air/वायु B. Farmer/किसान C. Fertilizer/उर्वरक

D. Water/पानी .

ANS-3