



Mahendra's



RAILWAY NTPC/GROUP D

6:15 PM

REASONING

रेलवे हमारा है।

**30
/
30**

▶ LIVE

ऐसे सवाल भी देख लेना



Mahendra's

ENSURE YOUR SUCCESS WITH- **VIDEO GURU**



A COMPLETE VIDEO CLASS
FOR YOUR PREPARATION

Subscribe
BUTTON



BOOST YOUR PREPARATIONS WITH MAHENDRAS: STUDY MATERIAL, E-MICA, E-NEWS, BAGS & MUCH MORE. VISIT NOW: myshop.mahendras.com



RAILWAY NTPC

REASONING

NEW TIME
5:30 PM



 **Mahendra's**

ENSURE YOUR SUCCESS WITH- **VIDEO GURU**



A COMPLETE VIDEO CLASS
FOR YOUR PREPARATION

Subscribe
BUTTON



BOOST YOUR PREPARATIONS WITH MAHENDRAS: STUDY MATERIAL, E-MICA, E-NEWS, BAGS & MUCH MORE. VISIT NOW: myshop.mahendras.com

RITIKA MAHENDRAS

<https://t.me/joinchat/AAAAAFIFrmfglJslepg3yg>



Mahendra's

ENSURE YOUR SUCCESS WITH- VIDEO GURU



A COMPLETE VIDEO CLASS
FOR YOUR PREPARATION

Subscribe
BUTTON



BOOST YOUR PREPARATIONS WITH MAHENDRAS: **STUDY MATERIAL, E-MICA, E-NEWS, BAGS & MUCH MORE.** VISIT NOW: [myshop.mahendras.c](https://myshop.mahendras.com)

VIDEO COURSE

CODING DECODING AND MACHINE INPUT SBI & RBI



₹99



Mahendra's

ENSURE YOUR SUCCESS WITH- **VIDEO GURU**



A COMPLETE VIDEO CLASS
FOR YOUR PREPARATION

Subscribe
BUTTON



BOOST YOUR PREPARATIONS WITH MAHENDRAS: STUDY MATERIAL, E-MICA, E-NEWS, BAGS & MUCH MORE. VISIT NOW: myshop.mahendras.com

LIVE CLASS

BIHAR POLICE SI MAIN EXAM 2019

25 DAYS COURSE



GENERAL STUDIES



1

Select the related word/letters/number from the given alternatives.

DAILY CLASS TIME
6:15 PM



दिए गए विकल्पों में से संबंधित शब्द / अक्षरों / संख्या का चयन करें।

AMNESIA : MEMORY :: PARALYSIS : ?

भूलने की बीमारी : याद :: पक्षाघात : ?

- A. Legs / पैर
- B. Movement / संचलन
- C. Limbs / अंग
- D. Handicapped / विकलांग



2

Find the odd letters/number/word/number pair from the given alternative.

DAILY CLASS TIME

6:15 PM

दिए गए विकल्प में से विषम अक्षर/संख्या/शब्द/संख्या जोड़ी का पता लगाएं।



- A. Gupta dynasty / गुप्त वंश
- B. Nanda dynasty / नंद वंश
- C. Maurya dynasty / मौर्य वंश
- D. Chola dynasty / चोल वंश



 Mahendra's

ENSURE YOUR SUCCESS WITH- **VIDEO GURU**



A COMPLETE VIDEO CLASS
FOR YOUR PREPARATION

Subscribe
BUTTON



BOOST YOUR PREPARATIONS WITH MAHENDRAS: STUDY MATERIAL, E-MICA, E-NEWS, BAGS & MUCH MORE. VISIT NOW: myshop.mahendras.com

3

Find the odd letters/number/word/number pair from the given alternative.

दिए गए विकल्प में से विषम अक्षर/संख्या/शब्द/संख्या जोड़ी का पता लगाएं।

DAILY CLASS TIME
6:15 PM



- A. Diphtheria / डिप्थीरिया
- B. Cataract / मोतियाबिंद
- C. Encephalitis / इंसेफेलाइटिस
- D. Whooping cough / काली खांसी

4

Select the related word/letters/number from the given alternatives.

DAILY CLASS TIME
6:15 PM

दिए गए विकल्पों में से संबंधित शब्द / अक्षरों / संख्या का चयन करें।

Philatelist : Stamps :: Numismatist : ?

दार्शनिक: टिकट :: संख्यावाद:?



- A. Coins / सिक्के
- B. Maps / मैप्स
- C. Jewels / ज्वेल्स
- D. Samples / नमूने

5

It is 3 'O' Clock in a watch. if the minute hand points towards the northeast direction, then the hour hand will points towards the.....?

एक घड़ी में 3 बजे है। मिनट की सुई उत्तर-पूर्व दिशा की ओर इंगित करती है। तो घंटे की सुई किस दिशा की ओर इशारा करेगी।

DAILY CLASS TIME

6:15 PM



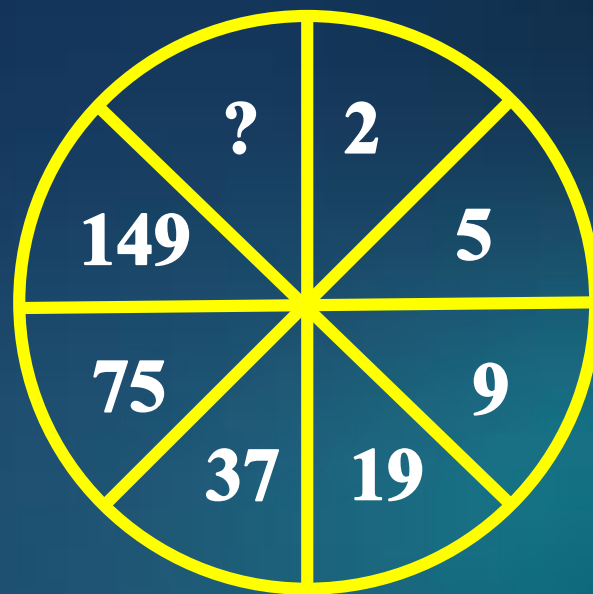
- A. South / दक्षिण
- B. Southeast / दक्षिण-पूर्व
- C. Northwest / उत्तर पश्चिम
- D. Southwest / दक्षिण पश्चिम



6

Select the missing element from the given responses.

दिए गये विकल्पों में से लुप्त तत्व का चयन करें।



DAILY CLASS TIME
6:15 PM



A. 298



B. 299

C. 499

D. 199

Mahendras

ENSURE YOUR SUCCESS WITH- VIDEO GURU



A COMPLETE VIDEO CLASS
FOR YOUR PREPARATION

Subscribe
BUTTON




BOOST YOUR PREPARATIONS WITH MAHENDRAS: STUDY MATERIAL, E-MICA, E-NEWS, BAGS & MUCH MORE. VISIT NOW: myshop.mahendras.com

7

Select the missing element from the given response
 दिए गये विकल्पों में से लुप्त तत्व का चयन करें।

DAILY CLASS TIME
 6:15 PM



- A. 115
 B. 226
 C. 100
 D. 251



Mahendra's

ENSURE YOUR SUCCESS WITH- **VIDEO GURU**



A COMPLETE VIDEO CLASS
 FOR YOUR PREPARATION

Subscribe
 BUTTON



BOOST YOUR PREPARATIONS WITH MAHENDRAS: STUDY MATERIAL, E-MICA, E-NEWS, BAGS & MUCH MORE. VISIT NOW: myshop.mahendras.com

Find the odd letters/number/word/number pair from the given alternative.

दिए गए विकल्प में से विषम अक्षर/संख्या/शब्द/संख्या जोड़ी का पता लगाएं।



- A. Rabies : Wound / रेबीज: घाव
- B. Malaria : Protozoa / मलेरिया: प्रोटोजोआ
- C. Cholera : Bacteria / हैजा: बैक्टीरिया
- D. Influenza : Virus / इन्फ्लूएंजा : वायरस

9

DAILY CLASS TIME
6:15 PM

Find the odd letters/number/word/number pair
from the given alternative.

दिए गए विकल्प में से विषम अक्षर/संख्या/शब्द/संख्या जोड़ी
का पता लगाएं।



- A. Liver/जिगर
- B. Adrenal/अधिवृक्क
- C. Pituitary/पिट्यूटरी
- D. Thyroid/थाइरोइड

 Mahendra's

ENSURE YOUR SUCCESS WITH- **VIDEO GURU**



A COMPLETE VIDEO CLASS
FOR YOUR PREPARATION

Subscribe
BUTTON



BOOST YOUR PREPARATIONS WITH MAHENDRAS: STUDY MATERIAL, E-MICA, E-NEWS, BAGS & MUCH MORE. VISIT NOW: myshop.mahendras.c

Which of the following diagram represents a best relationship between -

निम्न में से कौन सा आरेख सर्वोत्तम संबंध का प्रतिनिधित्व करता है -

Keyboard , letter keys, function keys.

कीबोर्ड, अक्षर कुंजी, फंक्शन कुंजियां



A



B



C



11

Find the odd letters/number/word/number pair from the given alternative.

दिए गए विकल्प में से विषम अक्षर/संख्या/शब्द/संख्या जोड़ी का पता लगाएं।



- A. Thar : India / थार: भारत
- B. Gobi : Magnolia / गोबी: मैंगोलिया
- C. Sahara : Africa / सहारा: अफ्रीका
- D. Kalahari : America / कालाहारी: अमेरिका



12

Statement : German Engineering is considered best in the world.
जर्मन इंजीनियरिंग को दुनिया में श्रेष्ठ माना जाता है।

Conclusion:

I. No other countries have best engineers.
किसी अन्य देशों में श्रेष्ठ इंजीनियर नहीं हैं।

II. Engineers from other countries are catching up with German engineers now a days.
दूसरे देशों के इंजीनियर आज कल जर्मन इंजीनियर की बराबरी कर रहे हैं।

A. Only I follows

B. Only II follows

 C. Neither I nor II follows.

D. Both I and II follows.

DAILY CLASS TIME

6:15 PM



 Mahendras

ENSURE YOUR SUCCESS WITH- VIDEO GURU



A COMPLETE VIDEO CLASS
FOR YOUR PREPARATION

Subscribe
BUTTON



BOOST YOUR PREPARATIONS WITH MAHENDRAS: STUDY MATERIAL, E-MICA, E-NEWS, BAGS & MUCH MORE. VISIT NOW: myshop.mahendras.com

13

What is the interior angle between the minute hand and hour hand of a clock at 3:20 p.m.?

एक घड़ी में शाम 3:20 पर मिनट की सुई और घंटे की सुई के बीच कितने डिग्री का कोण बनेगा ?



A. 30°

B. 45°

C. 65°

D. 20°



14

Sonu walked 8 km towards east direction and turned 90° clockwise and walked 10 km and turned 180° clockwise and walked 10 km. In which direction is he facing now?

सोनू 8 किमी. पूर्व दिशा की ओर चलता है फिर 90° दक्षिणावर्त दिशा में मुड़ता है और 10 किमी. चलता है और फिर 180° दक्षिणावर्त दिशा में मुड़ता है और 10 किमी. चलता है अब वह किस दिशा में देख रहा है?

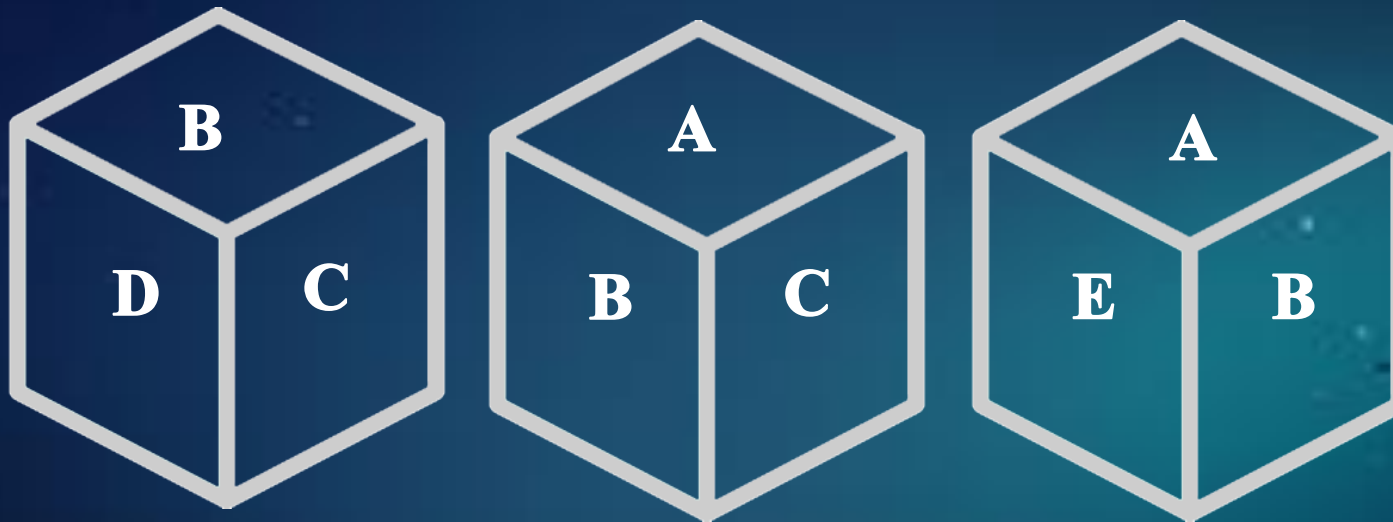


- A. North
- B. South
- C. East
- D. West

15

Which face will be on the face which is opposite to the face which contains **F**? कौन सी सतह **F** सतह के विपरीत होगी?

DAILY CLASS TIME
6:15 PM



- A. E
- B. D
- C. B
- D. C



16

Find the odd letters/number/word/number pair from the given alternative.

दिए गए विकल्प में से विषम अक्षर/संख्या/शब्द/संख्या जोड़ी का पता लगाएं।

DAILY CLASS TIME
6:15 PM



- A. Bardoli / बारडोली
- B. Champaran / चंपारण
- C. Sabarmati / साबरमती
- D. Bhadravati / भद्रावती



 Mahendras

ENSURE YOUR SUCCESS WITH- **VIDEO GURU**



A COMPLETE VIDEO CLASS
FOR YOUR PREPARATION

Subscribe
BUTTON 

BOOST YOUR PREPARATIONS WITH MAHENDRAS: STUDY MATERIAL, E-MICA, E-NEWS, BAGS & MUCH MORE. VISIT NOW: myshop.mahendras.com

17

Select the missing element from the given responses.

दिए गये विकल्पों में से लुप्त तत्व का चयन करें।

**Jawaharlal Nehru, Lal bahadur Shastri, Indira Gandhi,
Morarji desai, ?**

जवाहरलाल नेहरू, लाल बहादुर शास्त्री, इंदिरा गांधी, मोरारजी देसाई, ?

**DAILY CLASS TIME
6:15 PM**



- A. Rajiv Gandhi
- B. V. P Singh
- C. Manmohan Singh
- D. Choudhary Charan Singh



Mahendra's

ENSURE YOUR SUCCESS WITH- VIDEO GURU



A COMPLETE VIDEO CLASS
FOR YOUR PREPARATION

Subscribe
BUTTON



BOOST YOUR PREPARATIONS WITH MAHENDRAS: STUDY MATERIAL, E-MICA, E-NEWS, BAGS & MUCH MORE. VISIT NOW: myshop.mahendras.com

18

Numbers of each letters in the given word are indicated in each alternative. Identify the correct one.
दिए गए शब्द में प्रत्येक अक्षर की संख्या प्रत्येक विकल्प में इंगित की गई है। सही विकल्प ज्ञात कीजिये।

COMMISSION

DAILY CLASS TIME
6:15 PM



- A. C1O2M2I2S2N1
- B. C1O1M2I2S2N1
- C. C2O2M2I2S2N1
- D. C1O2M2I2S2N2

19

Select the related word/letters/number from the given alternatives.

दिए गए विकल्पों में से संबंधित शब्द / अक्षरों / संख्या का चयन करें।

AKP : 2561211 :: LNO : ?

DAILY CLASS TIME
6:15 PM



- A. 196125144
- B. 225196144
- C. 144225196
- D. 415211962

20

Statement : There are many Indians who are honest.

कई भारतीय हैं जो ईमानदार हैं।

Mohan is an Indian. / मोहन एक भारतीय है।

Conclusion: I. All Indians are honest. / सभी भारतीय ईमानदार हैं।

II. Mohan is honest. / मोहन ईमानदार है।

DAILY CLASS TIME
6:15 PM



A. Only I follows

B. Only II follows

C. Neither I nor II follows.

D. Both I and II follows.



 Mahendras

ENSURE YOUR SUCCESS WITH- **VIDEO GURU**



A COMPLETE VIDEO CLASS
FOR YOUR PREPARATION

Subscribe
BUTTON



BOOST YOUR PREPARATIONS WITH MAHENDRAS: STUDY MATERIAL, E-MICA, E-NEWS, BAGS & MUCH MORE. VISIT NOW: myshop.mahendras.com

21

If day before yesterday was Thursday. What day will be four days after tomorrow?

यदि कल से पहले वाला दिन गुरुवार था। कल के चार दिन बाद क्या दिन होगा?



- A. Sunday/रविवार
- B. Thursday/गुरुवार
- C. Monday/सोमवार
- D. Wednesday/बुधवार

22

Identify the diagram that best represents the relationship among classes given below.

उस आरेख को पहचानें जो नीचे दिए गए वर्गों के बीच सर्वश्रेष्ठ संबंध दर्शाता है?


Poets , Politicians, Women./ कवि, राजनेता, महिलाएं।



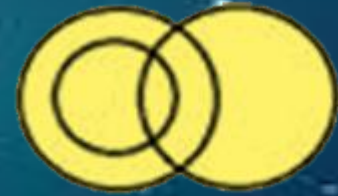
A



B



D



23

If '**SOHAN**' is coded as **383016228** . How can **SODIUM** be written in that code?

यदि '**SOHAN**' को **383016228** में कूट किया जाता है तो '**SODIUM**' को उसी भाषा में कैसे लिखा जायेगा?

DAILY CLASS TIME
6:15 PM



- A. 13383016228
- B. 18149211332
- C. 38308184226
- D. 38154942261



 Mahendras

ENSURE YOUR SUCCESS WITH- **VIDEO GURU**



A COMPLETE VIDEO CLASS
FOR YOUR PREPARATION

Subscribe
BUTTON



BOOST YOUR PREPARATIONS WITH MAHENDRAS: **STUDY MATERIAL, E-MICA, E-NEWS, BAGS & MUCH MORE.** VISIT NOW: myshop.mahendras.com

Find the odd word/ letter/ number/figure from the given alternatives.

DAILY CLASS TIME
6:15 PM

दिए गए विकल्पों में से विषम शब्द / अक्षर / संख्या / संख्या ज्ञात कीजिए।



- A. Himadri / हिमाद्री
- B. Shivalik / शिवालिक
- C. Kandla / कांडला
- D. Himachal / हिमाचल



25

Which one of the following responses would be a meaningful order of the given words?/ दिए गए विकल्पों में से कौन-सा शब्दों का अर्थपूर्ण क्रम होगा?

DAILY CLASS TIME
6:15 PM



1. Milky way / आकाशगंगा
2. Sun/ सूर्य
3. Moon / चाँद
4. Earth / पृथ्वी
5. Stars / सितारे



- A. 3,4,2,5,1
B. 1,2,3,4,5
C. 1,3,2,5,4
D. 1,3,5,4,2

26

If / यदि $4 \times 5 \times 8 = 27$, $4 \times 9 \times 3 = 93$, then / तत्पश्चात्
 $6 \times 7 \times 9 = ?$

DAILY CLASS TIME
6:15 PM



A. 117

B. 711

C. 544

D. 811



 Mahendras

ENSURE YOUR SUCCESS WITH- VIDEO GURU



A COMPLETE VIDEO CLASS
FOR YOUR PREPARATION

Subscribe
BUTTON



BOOST YOUR PREPARATIONS WITH MAHENDRAS: STUDY MATERIAL, E-MICA, E-NEWS, BAGS & MUCH MORE. VISIT NOW: myshop.mahendras.com

Some equations are solved on the basis of the certain system.
Find out the correct answer for the unsolved equation on that basis.

कुछ समीकरणों का कुछ प्रणालियों के आधार पर हल निकाला गया है।
उसी आधार पर उस समीकरण का सही उत्तर ज्ञात करें जिसे हल नहीं
किया गया है।

$$5*2*8*7 = 87$$

$$2*4*5*6 = 46$$

$$3*4*5*2 = ?$$

A. 26

B. 62

C. 72

D. 58



28

In a certain code language **WATER** is coded as **YCFHU** then what will be the code for **RIGHT**?

यदि एक निश्चित कूट भाषा में **WATER** को **YCFHU** के रूप में कोडित किया जाता है तो **RIGHT** का कोड क्या होगा?

DAILY CLASS TIME
6:15 PM



- A. RITGS
- B. QHSFS
- C. QHSFQ
- D. QHSFR



 Mahendras

ENSURE YOUR SUCCESS WITH- **VIDEO GURU**



A COMPLETE VIDEO CLASS
FOR YOUR PREPARATION

Subscribe
BUTTON



BOOST YOUR PREPARATIONS WITH MAHENDRAS: **STUDY MATERIAL, E-MICA, E-NEWS, BAGS & MUCH MORE.** VISIT NOW: myshop.mahendras.com

29

Arrange the following word in the logical and meaningful order.

निम्नलिखित शब्द को तार्किक और सार्थक क्रम में व्यवस्थित करें।

1. Probation/परख

2. Promotion/पदोन्नति

3. Job/काम

4. Interview/साक्षात्कार

5. Confirmation/पुष्टीकरण



A. 4,5,2,1,3

B. 4,1,2,5,3

C. 5,1,4,2,3



D. 4,3,1,5,2

DAILY CLASS TIME
6:15 PM

 **Mahendra's**

ENSURE YOUR SUCCESS WITH- VIDEO GURU



A COMPLETE VIDEO CLASS
FOR YOUR PREPARATION

Subscribe
BUTTON



BOOST YOUR PREPARATIONS WITH MAHENDRAS: **STUDY MATERIAL, E-MICA, E-NEWS, BAGS & MUCH MORE.** VISIT NOW: myshop.mahendras.com

30

Which among the following is a leap year?

निम्नलिखित में से कौन एक लीप वर्ष है?



A. 1600

B. 1900

C. 1800

D. All of the above

DAILY CLASS TIME
6:15 PM

 Mahendra's

ENSURE YOUR SUCCESS WITH- **VIDEO GURU**



A COMPLETE VIDEO CLASS
FOR YOUR PREPARATION

Subscribe
BUTTON




BOOST YOUR PREPARATIONS WITH MAHENDRAS: **STUDY MATERIAL, E-MICA, E-NEWS, BAGS & MUCH MORE.** VISIT NOW: myshop.mahendras.com

31

5th of a month falls two days after Monday. What day of the month will precede 19th of it?

यदि महीने का पांचवा दिन सोमवार के दो दिन बाद का है। तो महीने का कौन सा दिन 19 तारीख से पहले का दिन होगा?



- A. Wednesday/बुधवार
- B. Thursday/गुरुवार
- C. Tuesday/मंगलवार
- D. Monday/सोमवार

DAILY CLASS TIME
6:15 PM

 Mahendra's

ENSURE YOUR SUCCESS WITH- **VIDEO GURU**



A COMPLETE VIDEO CLASS
FOR YOUR PREPARATION

Subscribe
BUTTON

BOOST YOUR PREPARATIONS WITH MAHENDRAS: **STUDY MATERIAL, E-MICA, E-NEWS, BAGS & MUCH MORE.** VISIT NOW: myshop.mahendras.c




RAILWAY NTPC

REASONING

NEW TIME
5:30 PM



 **Mahendra's**

ENSURE YOUR SUCCESS WITH- **VIDEO GURU**



A COMPLETE VIDEO CLASS
FOR YOUR PREPARATION

Subscribe
BUTTON



BOOST YOUR PREPARATIONS WITH MAHENDRAS: STUDY MATERIAL, E-MICA, E-NEWS, BAGS & MUCH MORE. VISIT NOW: myshop.mahendras.com



Mahendra's

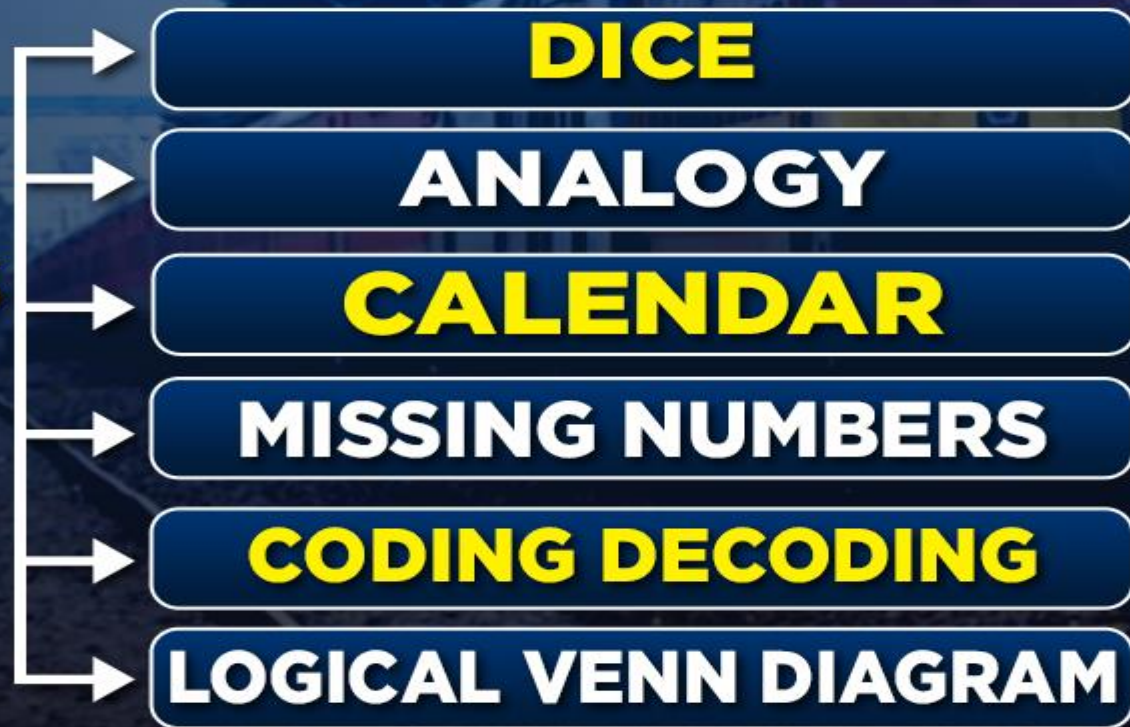


RAILWAY NTPC/GROUP D

6:15 PM

REASONING

**6 CHAPTERS
IN
ONE CLASS**



Mahendra's

ENSURE YOUR SUCCESS WITH- VIDEO GURU




A COMPLETE VIDEO CLASS
FOR YOUR PREPARATION

**Subscribe
BUTTON**



BOOST YOUR PREPARATIONS WITH MAHENDRAS: **STUDY MATERIAL, E-MICA, E-NEWS, BAGS & MUCH MORE.** VISIT NOW: myshop.mahendras.com

 Mahendra's

ENSURE YOUR SUCCESS WITH- **VIDEO GURU**



A COMPLETE VIDEO CLASS
FOR YOUR PREPARATION

Subscribe
BUTTON



BOOST YOUR PREPARATIONS WITH MAHENDRAS: **STUDY MATERIAL, E-MICA, E-NEWS, BAGS & MUCH MORE.** VISIT NOW: myshop.mahendras.com