



REASONING

25

EXPECTED QUESTIONS



SSC CHSL | CGL SPECIAL



Select the related word / letters / numbers from the given alternatives:
दिए गए विकल्प से संबंधित शब्द / अक्षर / संख्या चुनें:

Demographer : People :: Philatelist : ?
जनसांख्यिकी: लोग :: फिलैटालिस्ट:?

- (A) Fossils / जीवाश्म
- (B) Stamps / टिकट
- (C) Photography / फोटोग्राफी
- (D) Music / संगीत



Select the related word / letters / numbers from the given alternatives:
दिए गए विकल्प से संबंधित शब्द / अक्षर / संख्या चुनें:

RIAHC : CHAIR :: OGNAM : ?

- (A) OGNMA
- (B) TANGO
- (C) MANGO
- (D) ANGMO



Find the odd number / word / letter / number pair from the given alternatives:

दिए गए विकल्पों से विषम नंबर / शब्द / पत्र / नंबर जोड़ी खोजें:

- (A) Screw Driver / पेंचकस
- (B) Spanner / पाना
- (C) Plier / प्लायर
- (D) Knife / चाकू



Find the odd number / word / letter / number pair from the given alternatives:

दिए गए विकल्पों से विषम नंबर / शब्द / पत्र / नंबर जोड़ी खोजें:

- (A) Paris
- (B) Athens
- (C) London
- (D) New York



Which one of the following responses would be a meaningful order of the following?

निम्न में से कौन सा उत्तर निम्न को एक अर्थपूर्ण क्रम में जमाएगा?

1. Chapter

2. Index

3. Bibliography

4. Introduction

5. Preface

1. अध्याय

2. सूचकांक

3. ग्रंथसूची

4. परिचय

5. प्रस्तावना

(A) 2,4,1,3,5

(B) 4,2,5,1,3

(C) 5,2,4,1,3

(D) 5,1,4,3,2



A series is given with one term missing choose the correct alternative from the given ones that will complete the series:

श्रृंखला में एक पद लुप्त है, जो श्रृंखला को पूरा कर सके उस सही विकल्प को चुनिए:

TMJ, QNL, NON, KPP, ?

- (A) JQR
- (B) HQR
- (C) HQQ
- (D) IQS



A series is given with one term missing choose the correct alternative from the given ones that will complete the series:

श्रृंखला में एक पद लुप्त है, जो श्रृंखला को पूरा कर सके उस सही विकल्प को चुनिए:

A, CD, GHI, ?, UVWXYZ

- (A) LMNP
- (B) MNOL
- (C) NOPL
- (D) MNOP



Find out the wrong number in the series:

श्रृंखला में गलत संख्या खोजें:

27, 81, 1331, 125, 625, 3125

(A) 125

(B) 27

(C) 1331

(D) 81



Find out the wrong number in the series:

श्रृंखला में गलत संख्या खोजें:

17, 23, 31, 41, 53, 69

(A) 23

(B) 31

(C) 41

(D) 69



If DEVELOPMENT is written as TNEMDEVELOP then
EVALUATION will be written as-
यदि DEVELOPMENT को लिखा जाता है TNEMDEVELOP तो
फिर EVALUATION को क्या लिखा जायेगा-

- (A) NOTIAEVALU
- (B) NOITAUAVE
- (C) NOTIEVALUA
- (D) NOITEVALUA



If $H=8$ and $HAT=29$, find how $BOX=?$
यदि $H=8$ और $HAT=29$, तो फिर $BOX=?$

- (A) 46
- (B) 43
- (C) 42
- (D) 41



Which of the following interchange of sign would make the given equation correct?

निम्न में से कौन सा हस्ताक्षरित संकेत दिया गया समीकरण सही होगा?

$$64 \div 8 - 9 \times 8 = 64$$

- (A) + and -
- (B) \div and \times
- (C) + and \div
- (D) - and \times



From the given alternatives words, select the word which cannot be formed using the letters of the given word:

दिए गए विकल्पों के शब्दों से, दिए गए शब्द के अक्षरों का उपयोग करके किस शब्द का निर्माण नहीं किया जा सकता है:

PROVINCIALISM

- (A) SAILOR
- (B) NAIL
- (C) MAN
- (D) INITIAL



From the given alternatives words, select the word which cannot be formed using the letters of the given word:

दिए गए विकल्पों के शब्दों से, दिए गए शब्द के अक्षरों का उपयोग करके किस शब्द का निर्माण नहीं किया जा सकता है:

DEPARTMENT

- (A) ENTER
- (B) PARENT
- (C) TEMPER
- (D) PARADE



From the given alternatives words, select the word which cannot be formed using the letters of the given word:

दिए गए विकल्पों के शब्दों से, दिए गए शब्द के अक्षरों का उपयोग करके किस शब्द का निर्माण नहीं किया जा सकता है:

UNCONTAMINATED

- (A) MINE
- (B) NATION
- (C) CONNOTE
- (D) TANDEM



Select the missing number from the given responses:
दिए गए उत्तरों से लुप्त संख्या का चयन करें:

6	8	7
36	64	49
24	48	35
18	24	?

- (A) 17
- (B) 18
- (C) 19
- (D) 21



Select the missing number from the given responses:
दिए गए उत्तरों से लुप्त संख्या का चयन करें:

5	2	3
3	6	5
4	7	2
60	84	?

- (A) 10
- (B) 25
- (C) 30
- (D) 40



Select the missing number from the given responses:
दिए गए उत्तरों से लुप्त संख्या का चयन करें:

14	10	22
2	3	4
7	3	11
4	10	?

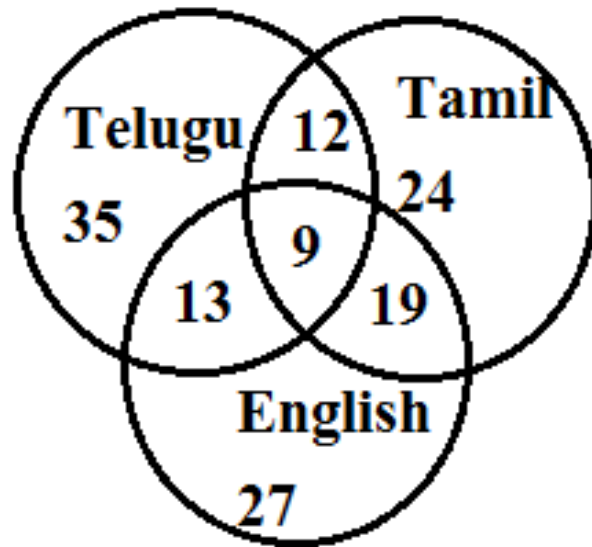
- (A) 2
- (B) 4
- (C) 6
- (D) 8



Find out the number of all those people who can speak Tamil and Telugu?

उन सभी लोगों की संख्या का पता लगाएं जो तमिल और तेलुगु बोल सकते हैं?

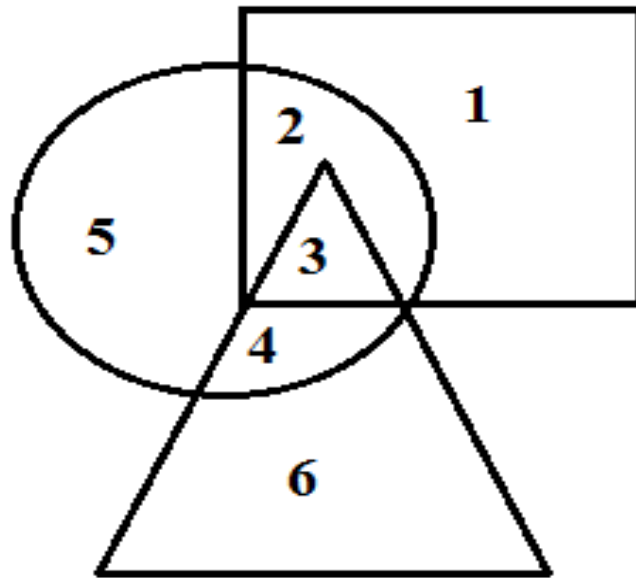
- (A) 3
- (B) 59
- (C) 21
- (D) 112



Which of the following number is present only in the circle and the triangle?

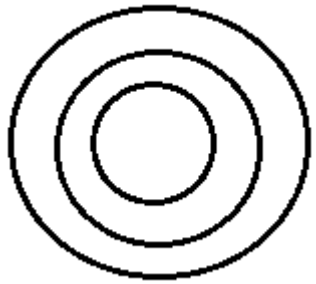
निम्नलिखित संख्या में से कौन सा केवल वृत्त और त्रिकोण में मौजूद है?

- (A) 5
- (B) 3
- (C) 4
- (D) 6

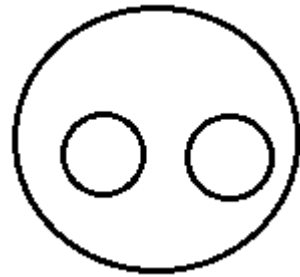


Which one of the following diagrams represents the correct relationship among society, teacher and student?

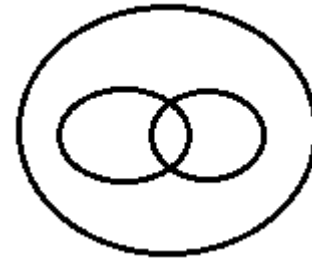
निम्न में से कौन सा चित्र समाज, शिक्षक और छात्र के बीच सही संबंध का प्रतिनिधित्व करता है?



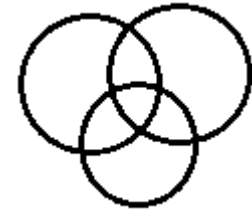
(A)



(B)



(C)

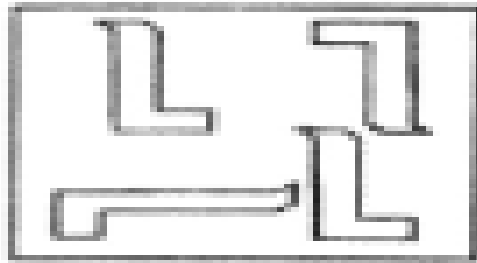


(D)




Identify the answer figure from which the pieces given in the question figure has been cut:

आकृति के उत्तर में दिए गए टुकड़े को पहचानें किससे आंकड़ा काटा गया है:



Answer Figures



(A)

(B)

(C)

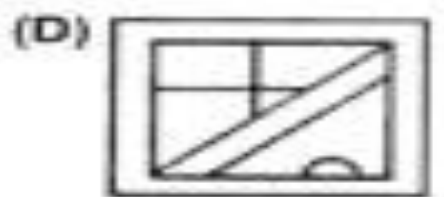
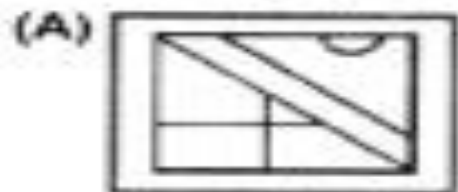
(D)



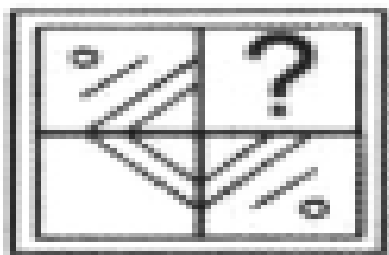
Which answer figure will complete the pattern in the question figure:
प्रश्न संख्या में कौन सा उत्तर संख्या पैटर्न को पूरा करेगा:






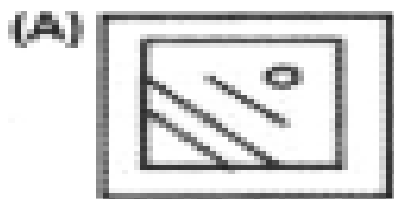
Answer Figures



Which answer figure will complete the pattern in the question figure:
प्रश्न संख्या में कौन सा उत्तर संख्या पैटर्न को पूरा करेगा:



Answer Figures



0	1	2	3	4	5
1	D	E	F	G	H
2	H	G	E	F	D
3	G	F	E	D	H
4	F	E	D	H	G
5	E	D	H	F	G

0	6	7	8	9	10
6	I	J	K	L	M
7	M	L	J	K	I
8	I	K	L	J	M
9	J	L	M	K	I
10	K	M	I	L	J

MILK??????

(A) 98, 66, 79, 77

(B) 98, 86, 77, 99

(B) 98, 79, 77, 86

(D) 86, 77, 99, 98

