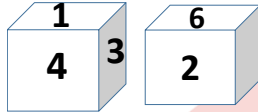


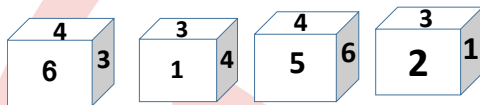


- Q. Two positions of dice are shown below. How many points will appear on the opposite to the face containing 5 points?
किसी पांसे की दो विभिन्न स्थितियों को दर्शाया गया है, दर्शाये गए पांसे की स्थिति में 5 की विपरीत सतह पर क्या है ?



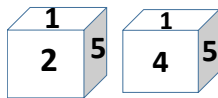
- (a) 3 (b) 5 (c) 1 (d) 6

- Q. Some positions of dice are shown below. How many points will appear on the opposite to the face containing 3 points?
किसी पांसे की कुछ विभिन्न स्थितियों को दर्शाया गया है, दर्शाये गए पांसे की स्थिति में 3 की विपरीत सतह पर क्या है ?



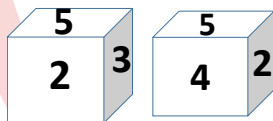
- (a) 2 (b) 4 (c) 5 (d) 6

- Q. Two positions of dice are shown below. How many points will appear on the opposite to the face containing 4 points?
किसी पांसे की दो विभिन्न स्थितियों को दर्शाया गया है, दर्शाये गए पांसे की स्थिति में 4 की विपरीत सतह पर क्या है ?



- (a) 2 (b) 5 (c) 3 (d) 6

- Q. Two positions of dice are shown below. How many points will appear on the opposite to the face containing 3 points?
किसी पांसे की दो विभिन्न स्थितियों को दर्शाया गया है, दर्शाये गए पांसे की स्थिति में 3 की विपरीत सतह पर क्या है ?



- (a) 2 (b) 5 (c) 4 (d) 6

- Q. How many points will appear on the opposite to the face containing 3 points, when the given figure is folded to form a cube??
जब दिए गए आंकड़े को घन बनाने के लिए तब्दील किया जाता है? दर्शाये गए पांसे की स्थिति में 3 की विपरीत सतह पर क्या है ?



- (a) 2 (b) 5 (c) 4 (d) 6

- Q. Choose the box that is similar to the box formed from the given sheet of paper (X)

कागज के दिए गए शीट (X) से बने बॉक्स के समान बॉक्स चुनें



- A. 1 only B. 1, 2 and 3 only
C. 2 and 3 only D. 1, 2, 3 and 4

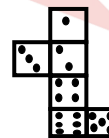
- Q. Choose the box that is similar to the box formed from the given sheet of paper (X)

कागज के दिए गए शीट (X) से बने बॉक्स के समान बॉक्स चुनें



- A. 1 only B. 1 and 3 only
C. 1, 3 and 4 only D. 1, 2, 3 and 4

- Q. How many points will appear on the opposite to the face containing 5 points, when the given figure is folded to form a cube??
जब दिए गए आंकड़े को घन बनाने के लिए तब्दील किया जाता है? दर्शाये गए पांसे की स्थिति में 5 की विपरीत सतह पर क्या है ?



- A. 1 B. 2 C. 3 D. 4

CLICK ON THIS VIDEO

