

RAFTAAR REASONING

SCORE FULL MARKS

TOP QUESTIONS

WITH SUPER TRICK





For Your Any Type of Reasoning Related Queries Join
Telegram Channel : **Reasoning Mahendras Live**
Kuldeep Mahendras Reasoning

Get Additional **10%** Discount On All Products & Services
of Mahendras

Use Code : **E009419**

Your success
is our success



**Rahul is the husband of my father's granddaughter , so I am
Rahul's :-**

राहुल मेरे पिता की पोती/नवासी का पति है, इसलिए मैं राहुल काँ:

- A. Father – in – law**
- B. Mother- in -law**
- C. Either A or b**
- D. Brother- in - Law**

The following characters have been coded in a specific form in a code language :-

निम्नलिखित वर्णों को एक कोड भाषा में एक विशिष्ट रूप में कोडित किया गया है: -

A	B	D	E	M	S	N	R	Q	V	L
<	—	U	>	∩		ω	=	↪	●—●	∩

Which of the following words is formed with the given code ?

निम्नलिखित में से कौन सा शब्द दिए गए कोड से बना है?

- (A) MASTER
- (B) MENACE
- (C) MARVEL
- (D) MASQUE

∩ < = ●—● > ∩

Find the option which should replace (?)

Botany : Plants :: Entomology : ?

वनस्पति विज्ञान: पौधे :: एंटोमोलॉजी:?

- A. Birds / पक्षियों
- B. Plants / पौधों
- C. Insects / कीड़े
- D. Snakes / सांप

Find the option which should replace (?)

a_b_c_b_bca__bcab_b_

- A. abaccbcac**
- B. bbabbbbc (right)**
- C. bbcbbcca**
- D. bacbbcaca**

Find the option which should replace (?)

ABC : 6

BCD : 24

CDE : ?

A. 96

B. 48

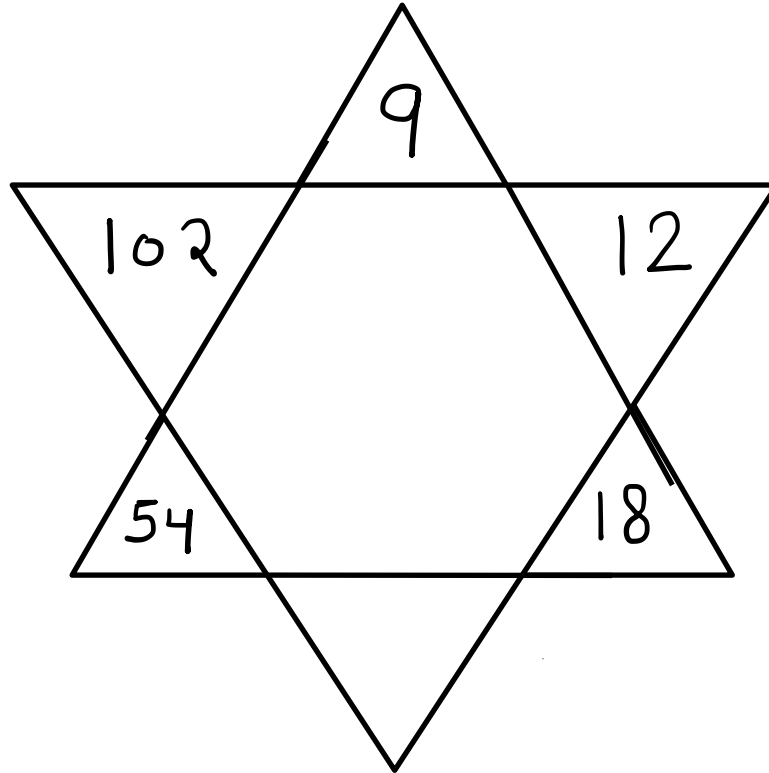
C. 30

D. 60

Find the odd one out(?)

- A. Assassinate / हत्या**
- B. Kill / मार डालो**
- C. Kidnap / किडनैप**
- D. Murder / वध**

Find the option which should replace (?)



- A. 40
- B. 48
- C. 30
- D. 24

**K is the mother of T . O is the son of K. J is the brother of P .
P is the daughter of T , then who is the grandmother of P ?**

**K, T की माँ है। O, K का पुत्र है। J, P का भाई है। P, T की
बेटी है, तो P की दादी कौन है?**

- A. K**
- B. T**
- C. O**
- D. J**

Find the option which should replace (?)


Detective : Infomer

Reporter : ?


जासस: मुखबिर
रिपोर्टर:?

- A. Source / स्रोत
- B. Editorial / संपादकीय
- C. News / समाचार
- D. Essay / निबंध


Which of the following diagrams indicates the best relation between
(Player , footballer , cricketer) / (खिलाड़ी, फुटबॉलर, क्रिकेटर)




A.



B



.C



.D.

Find the option which should replace (?)

Thunder : Rain :: ? : Night

थंडर: बारिश :: ? : रात

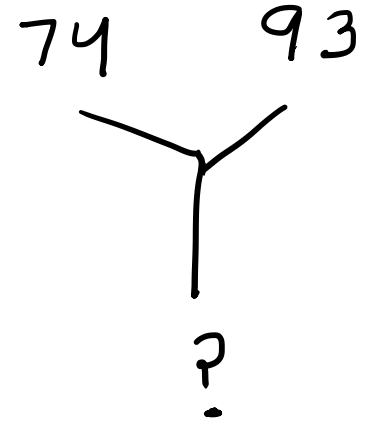
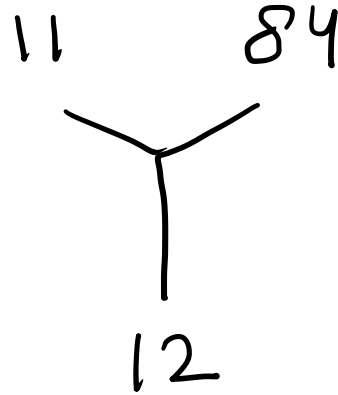
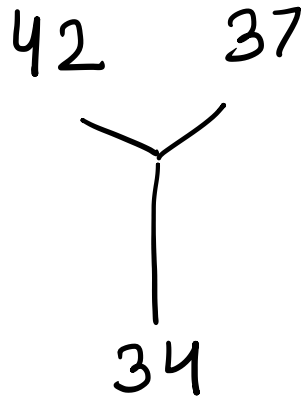
- A. Day / दिन
- B. Dusk / सांझ
- C. Dark / अंधेरा
- D. Evening / शाम

A, B, C, D and E are sitting on a bench. A is sitting next to B, C is sitting next to D, D is not sitting with E who is on the left end of the bench. C is on the second position from the right. A is to the right of B. A and C are sitting together. In which position A is sitting ?

A, B, C, D और E एक बेंच पर बैठे हैं। A, B के बगल में बैठा है, C, D के बगल में बैठा है, D, E के साथ नहीं बैठा है, जो बेंच के बाएं छोर पर है। C दाईं ओर से दूसरे स्थान पर है। A, B के दाईं ओर है और A और C एक साथ बैठे हैं। A किस स्थिति में बैठा है?

- A. Between B and D**
- B. Between B and C**
- C. Between E and D**
- D. Between C and E**

Find the option which should replace (?)



- A. 47
- B. 48
- C. 50
- D. 57

Find the option which should replace (?)

Novelty : oldness :: Newness : ?

नवीनता: पुरानापन :: नयापन:?

- A. Model / नमूना
- B. Antiquity / प्राचीन
- C. Discovery / खोज
- D. Culture / संस्कृति

If 15 September 2000 was Friday , what was the day on 15th September 2001 ?

यदि 15 सितंबर 2000 को शुक्रवार था, तो 15 सितंबर 2001 को क्या दिन था?

- A. Tuesday**
- B. Thursday**
- C. Saturday**
- D. Sunday**

Find the option which should replace (?)

Ocean : Pond :: Kilometer : ?

महासागर: तालाब :: किलोमीटर:?

- A. Centimetre / सेंटीमीटर
- B. Meter / मीटर
- C. Millimetre / मिलीमीटर
- D. Decimeter / मिटर का दशमांश

https://www.youtube.com/channel/UCddD7j-YEUIUp_EekDkmWaQ



Mahendra's



Our CET EXAM
You Tube Channel

Today And Make Your
Dream Come True.





THANK YOU

Stay Home, Stay Safe.