

SSC CPO SI



REASONING

DAY 27



ये करके दिखाओ

ज़रा

ये करके दिखाओ



9:15 PM



माचिस की तिली का सिर
होता है लेकिन दिमाग नहीं
होता, इसीलिए मामूली से घर्षण
से जल उठती है,

लेकिन हमारे पास तो सिर
और दिमाग दोनों है फिर क्यों
थोड़ी सी बात पर उत्तेजित
हो जाते है।

Which one of the following figures best represents the relationship among **Kitchen, House** and **Garden**?

निम्नलिखित में से कौन सा आंकड़ा **किचन, हाउस** और **गार्डन** के बीच संबंधों का सबसे अच्छा प्रतिनिधित्व करता है?

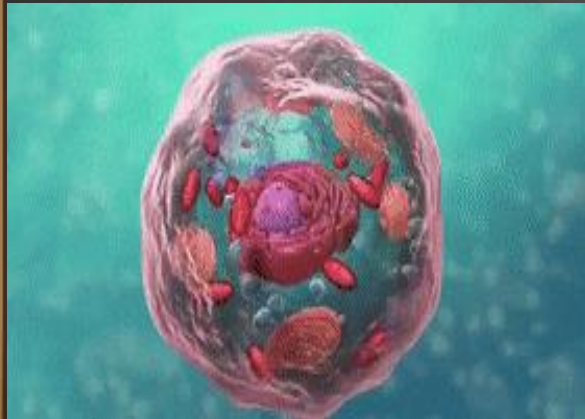



Select the related word from the given alternatives .

दिए गए विकल्पों में से संबंधित शब्द का चयन करें।

Cell : Cytology :: Birds : ?

सेल : साइटोलॉजी :: पक्षी : ?



- (a) **Odontology** / ओडोन्टोलॉजी
- (b) **Mycology** / माइकोलॉजी
- (c) **Ornithology** / ऑर्निथोलॉजी
- (d) **Etymology** / व्युत्पत्तिविज्ञान

If $7 \times 5 \times 2 = 527$,

$1 \times 7 \times 2 = 721$

and $3 \times 8 \times 7 = 873$

then $6 \times 4 \times 5 = ?$



(a) 465

(b) 456

(c) 546

(d) 654

series is given, with one wrong term. Find the wrong term from the given alternative?

श्रृंखला एक गलत शब्द के साथ दी गई है। दिए गए विकल्प में से गलत शब्द ज्ञात कीजिए?

88, 42, 19, 8, 1.75

(a) 19

(b) 8

(c) 1.75

(d) 42



Find the odd number from the given alternatives ?

दिए गए विकल्पों में से विषम संख्या ज्ञात कीजिए ?



(a) 137

(b) 753

(c) 462

(d) 451

If \times means $-$, $+$ means \div , $-$ means \times
and \div means $+$, then -

$$15 - 2 \div 900 + 90 \times 100 = ?$$

$$15 \times 2 + 900 \div 90 - 100$$

(a) 100

(b) -90

(c) 90

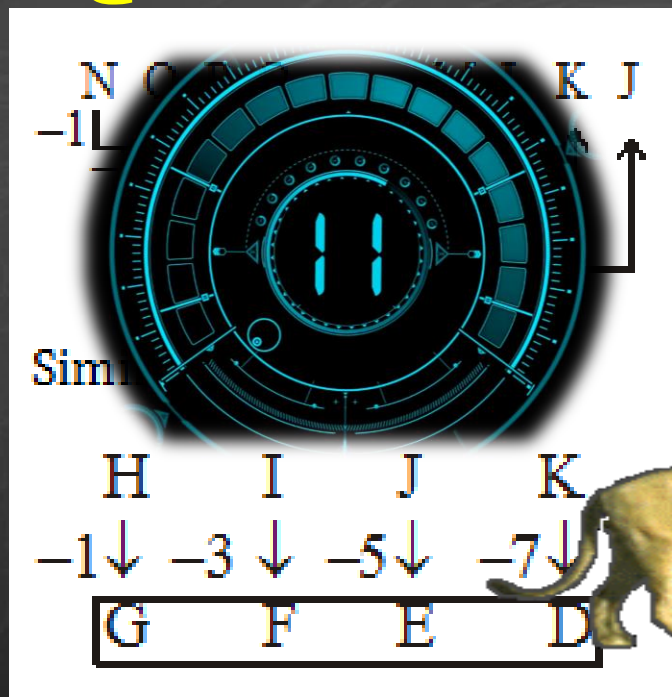
(d) None of these



Select the related group of letters.

अक्षरों के संबंधित समूह का चयन करें।

NOPQ : MLKJ :: HIJK : ?

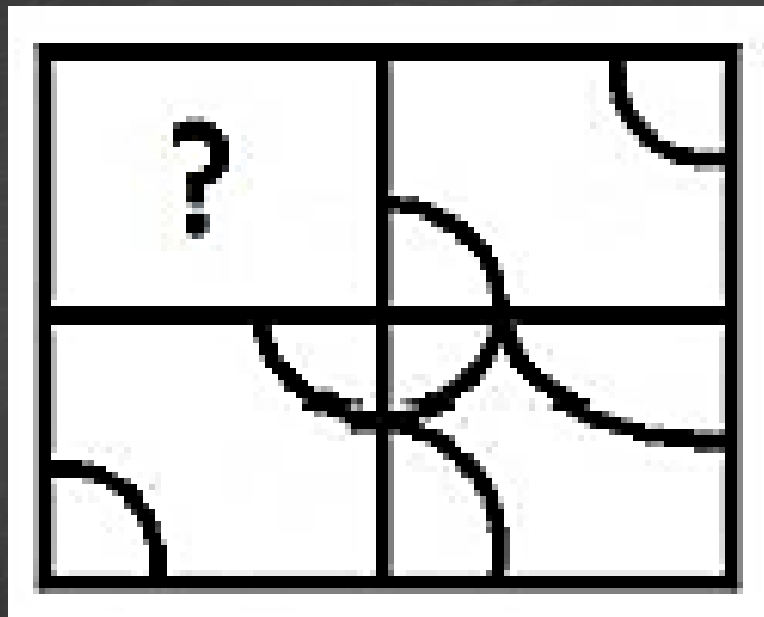


- (a) DEFG
- (b) EFGH
- (c) FEDC
- (d) GFED




Which answer figure will complete the pattern in the question figure?

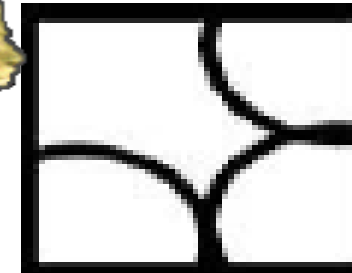
कौन सी उत्तर आकृति प्रश्न आकृति में पैटर्न को पूरा करेगी?




(a)



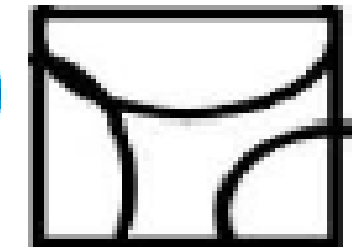
(c)



(b)



(d)



There is a certain relation between two given words on one side of :: and one word is given on another side of :: while another word is to be found from the given alternatives, having the same relation with this word as the given pair has. Select the best alternative.

दिए गए दो शब्दों के बीच एक निश्चित संबंध होता है:: और एक शब्द दूसरे पक्ष में दिया जाता है:: जबकि एक अन्य शब्द दिए गए विकल्पों में से पाया जाता है, इस शब्द के साथ समान संबंध होने पर दी गई जोड़ी के समान है। सबसे अच्छा विकल्प चुनें।



Walking : Running :: Smiling : ?



- (a) Feeling
- (b) Laughing
- (c) Face
- (d) Weeping

In a certain code, COMPATIBLE is written as BQNPDDKAHS. How is STABILISED written in that code?

एक निश्चित कोड में, COMPATIBLE को BQNPDDKAHS के रूप में लिखा जाता है। उस कोड में STABILIZED कैसे लिखा जाता है?

COMPA/TIBLE -> APMOC/ELBIT
BQNPDDKAHS



- (a) TUBCJC DRHK
- (b) JCBUTEDTHM
- (c) JCBUTC DRHK
- (d) JCBUTEFTJM

Three of the following four are alike in a certain way and so form a group. Which is the one that does not belong to that group?

निम्नलिखित चार में से तीन एक निश्चित तरीके से एक जैसे हैं और इसलिए एक समूह बनाते हैं। वह कौन सा है जो उस समूह से संबंधित नहीं है?



- (a) **Diabetes** / मधुमेह
- (b) **Smallpox** / चेचक
- (c) **Conjunctivitis** / कंजक्टिवाइटिस
- (d) **Chickenpox** / चिकनपॉक्स

Three of the following four are alike in a certain way and so form a group. Which is the one that does not belong to that group?

निम्नलिखित चार में से तीन एक निश्चित तरीके से एक जैसे हैं और इसलिए एक समूह बनाते हैं। वह कौन सा है जो उस समूह से संबंधित नहीं है?



(a) 21

(b) 35

(c) 49

(d) 36



If A = 1, Z=26 and TALENT = 72
then AVERT = ?



- (a) 60
- (b) 66
- (c) 55
- (d) 58



From the given alternative words, select the word which can be formed using the letters of the given word: **COMPANIONSHIP**
दिए गए वैकल्पिक शब्दों से, उस शब्द का चयन करें जिसे दिए गए शब्द के अक्षरों का उपयोग करके बनाया जा सकता है: **COMPANIONSHIP**

- (a) **OPEN**
- (b) **OPIUM**
- (c) **OPINION**
- (d) **NATION**



**If $2*3=1$ and
 $3*4=5$,
Then find the
value of $7*9=?$**



$$2*3 = (6) - (2+3) = 1$$

- (a) 47
- (b) 29
- (c) 02
- (d) 09

Select the related word from the given alternatives.

दिए गए विकल्पों में से संबंधित शब्द का चयन करें।

Meghalaya : Shillong :: Tripura :

मेघालय : शिलांग :: त्रिपुरा :



(a) **Agartala** / अगरतला

(b) **Imphal** / इंपाल

(c) **Panaji** / पणजी

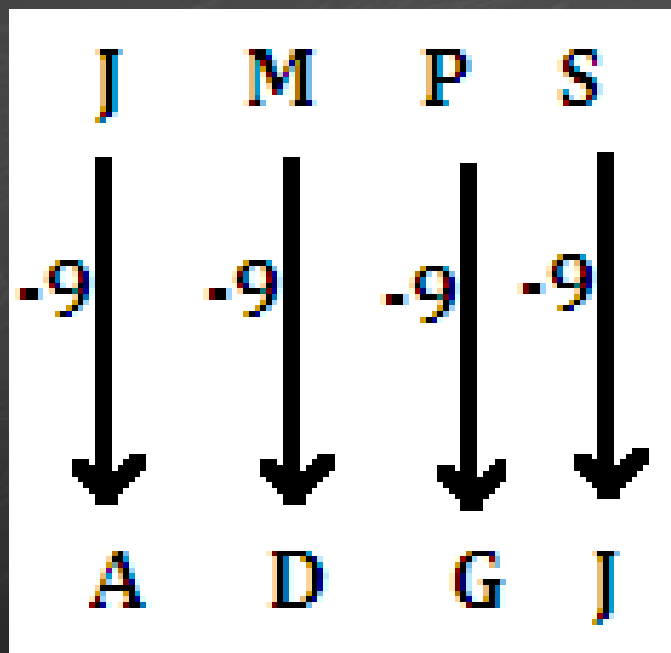
(d) **Dispur** / दिसपुर

Select the related letters from the given alternatives.

दिए गए विकल्पों में से संबंधित अक्षरों का चयन करें।



JMPS : ADGJ :: QTWZ : ?



- (a) **HKMQ**
- (b) **HKNQ**
- (c) **HKLP**
- (d) **HNKQ**



Select the related letters from the given alternatives.

दिए गए विकल्पों में से संबंधित अक्षरों का चयन करें।

841 : 29 :: 289 : ?



(a) 23

(b) 21

(c) 17

(d) 13

Find the odd word from the given alternatives.

दिए गए विकल्पों में से विषम शब्द ज्ञात कीजिए।



- (a) Violin
- (b) Piano
- (c) Flute
- (d) Harmonium

Arrange the following words as per order in the dictionary.

शब्दकोश में आदेश के अनुसार निम्नलिखित शब्दों को व्यवस्थित करें।

1. Incompatible
2. Incomparable
3. Incongruous
4. Inconsistent

(a) 2,1,4,3

(b) 3,4,2,1

(c) 4,2,1,3

(d) 2,1,3,4



What will come in place of question mark (?)?

प्रश्नवाचक (?) चिन्ह की जगह क्या आयेगा?

हृदय:हृदयरोग विज्ञानी:: मस्तिष्क: ?

Heart: Cardiologist :: Brain:?



1. वृक्क रोग विज्ञानी / **Renal Pathologist**
2. नेत्र रोग विज्ञानी / **Ophthalmologist**
3. तंत्रिका विज्ञानी / **Neurologist**
4. स्त्री रोग विज्ञानी / **Gynecologist**

2 बजकर 10 मिनट पर दोनों सूइयों के बीच कितने अंश का कोण होगा?

What is the angle between the two needles at 2:10?



1. 5°

2. 7.5°

3. 10°

4. 15°

समय 4 से लेकर 5 तक में कब दोनों सूइयों के बीच 30° का कोण बनेगा?

When will the time between 4 and 5 make an angle of 30° between the two needles?



1. 4 बजकर $27\frac{3}{11}$ मिनट

2. 4 बजकर $16\frac{4}{11}$ मिनट

3. (a) और (b) दोनों

4. 4 बजकर 30 मिनट



3 बजे से लेकर 4 बजे तक मे घण्टे तथा मिनट की सूइयां कब आपस में मिलेगी ?

When will you get hour and minute needles between 3 pm and 4 pm ?



1. 3 बजकर $10\frac{10}{11}$ मिनट
2. 3 बजकर $16\frac{4}{11}$ मिनट
3. 3 बजकर $21\frac{9}{11}$ मिनट
4. 3 बजकर $27\frac{3}{11}$ मिनट

What will come in place of question mark (?)?

प्रश्नवाचक (?) चिन्ह की जगह क्या आयेगा?

थर्मामीटर : तापमान :: ओपिसोपीटर : ?

Thermometer : Temperature :: Opisofter : ?



1. औषधि / Drugs

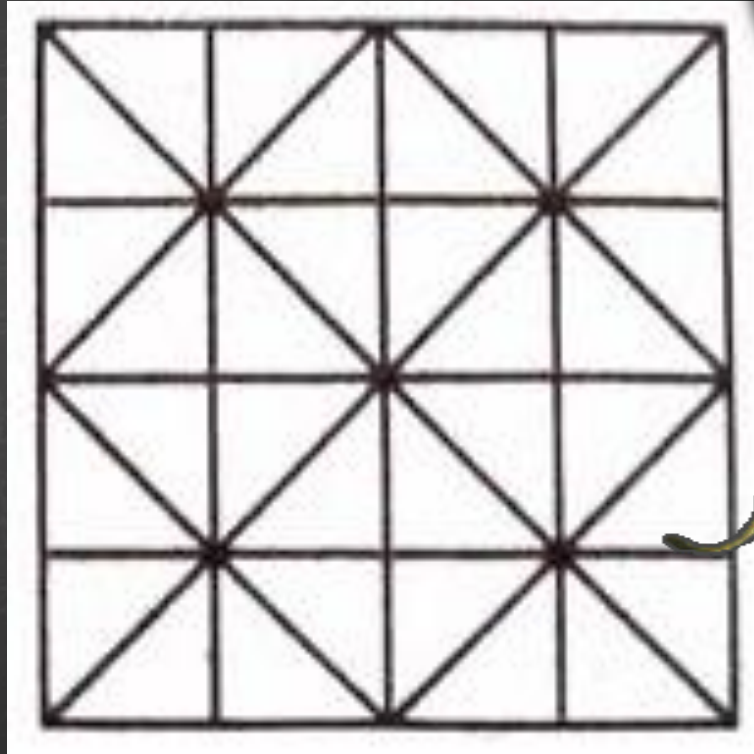
2. रेखाएं / Lines

3. ऊचाई / Height

4. द्रव्य / Matter

find out the number of square –

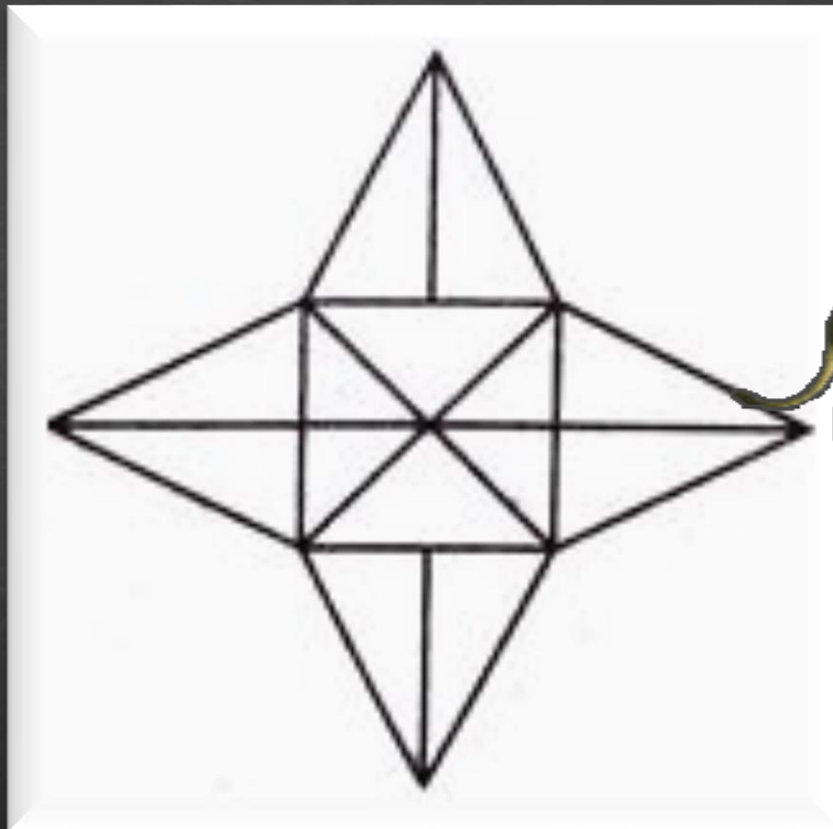
वर्ग की संख्या ज्ञात कीजिये -



- (a) 26
- (b) 30
- (c) 35
- (d) 38



find out the number of triangle –
त्रिभुजों की संख्या ज्ञात कीजिये -

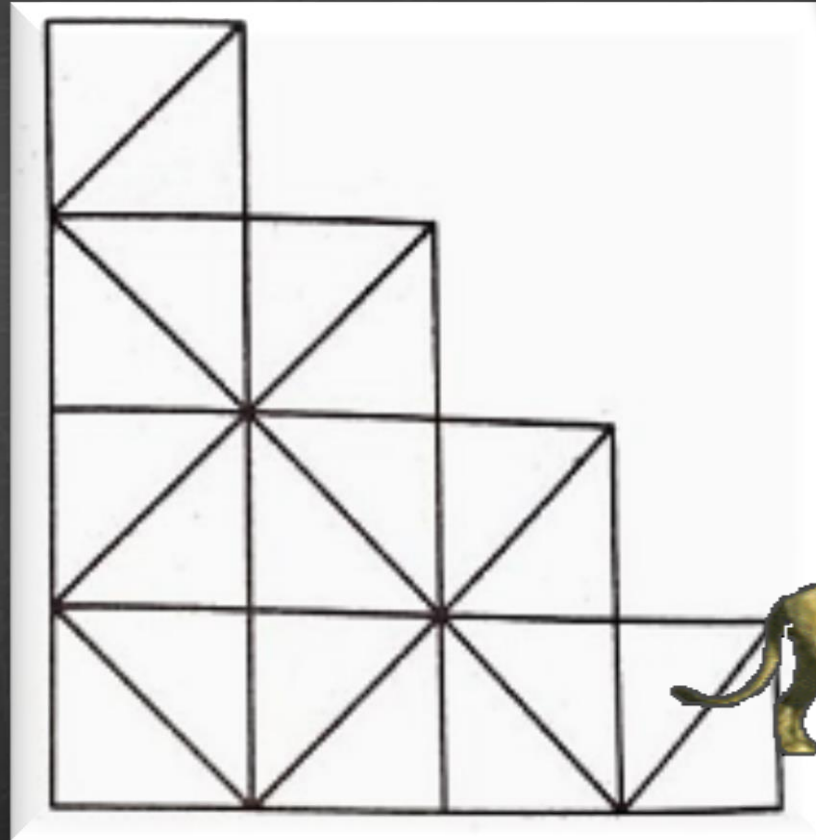


- (a) 18
- (b) 28
- (c) 20
- (d) 24



find out the number of square –

वर्ग की संख्या ज्ञात कीजिये -



(a) 10

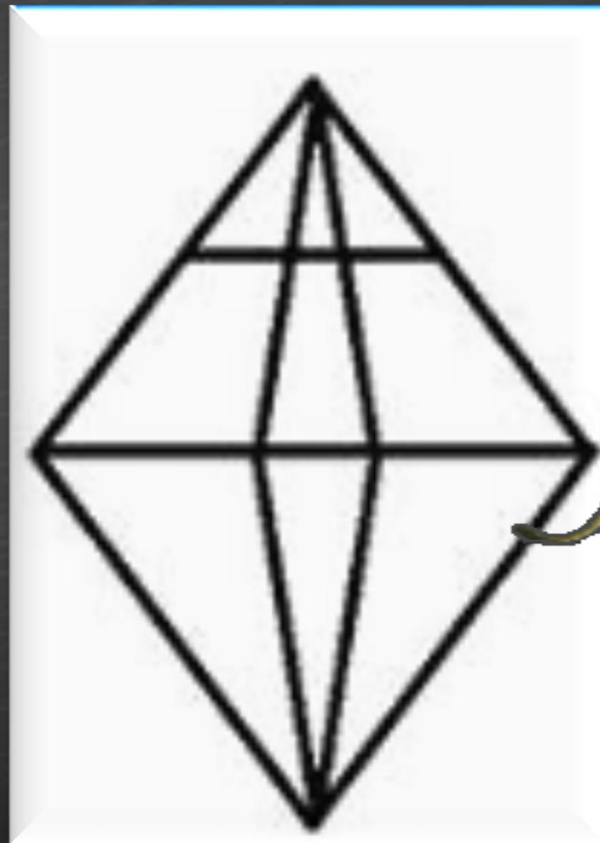
(b) 13

(c) 12

(d) 14



find out the number of triangle –
त्रिभुजों की संख्या ज्ञात कीजिये -



- (a) 12
- (b) 16
- (c) 18
- (d) 20



Find the odd word from the given alternatives.

दिए गए विकल्पों में से विषम शब्द ज्ञात कीजिए।

a) E/7

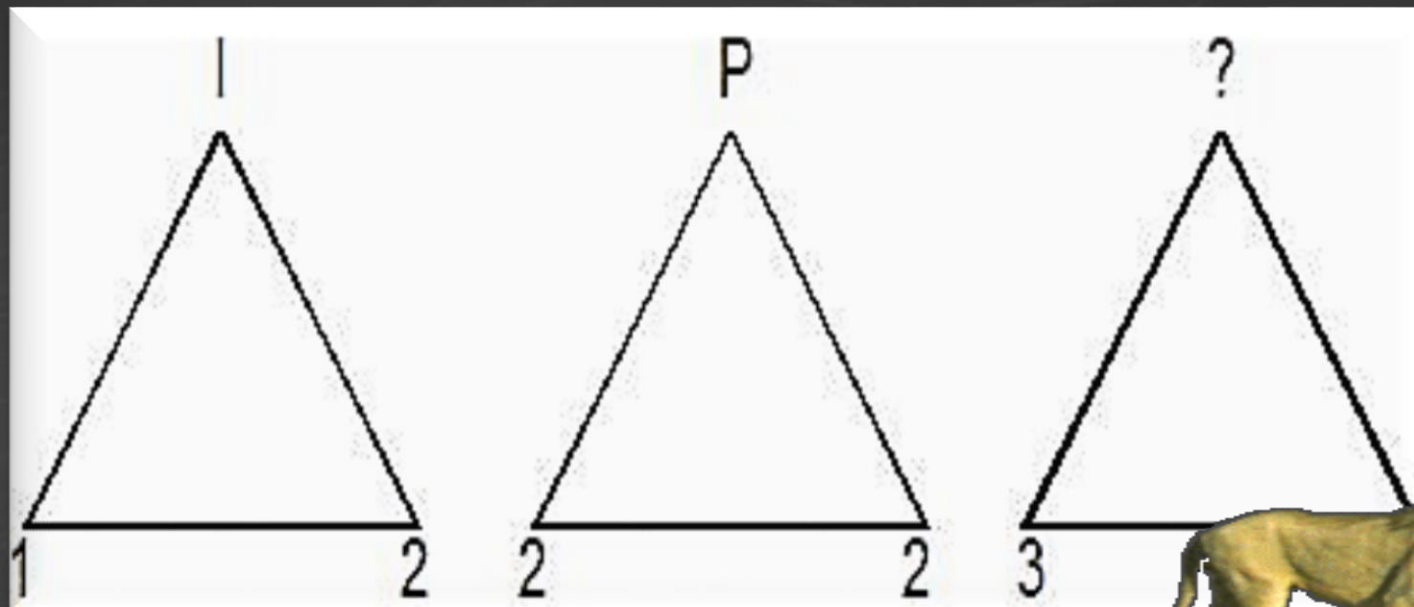
b) K/13

c) N/17

d) X/26







Find the missing number/letter from the given alternatives
 दिए गए विकल्पों में से लुप्त संख्या/अक्षर ज्ञात कीजिए।



- A. D
- B. Y
- C. K
- D. Z

Select the figure in which the given figure is embedded.

उस आकृति का चयन करें जिसमें दी गई आकृति सन्निहित है।



Three of the following four numbers are alike in a certain way and one is different.

Pick the number that is different from the rest.

निम्नलिखित चार संख्याओं में से तीन एक निश्चित तरीके से समान हैं और एक अलग है। वह संख्या ज्ञात कीजिए जो विषम है।



A. 953

B. 523

C. 312

D. 734



Two different positions of the same dice are shown. Which number will be at the top if 5 is at the bottom?

एक ही पासा के दो अलग-अलग स्थितियां दिखाई गयी हैं। यदि 5 सबसे नीचे है तो कौन-सी संख्या सबसे ऊपर होगी?



A. 6

B. 4

C. 2

D. 3

Find the number of triangles in the given figure .

दिए गए आंकड़े में त्रिभुजों की संख्या ज्ञात कीजिए ।



A . 21

B . 22



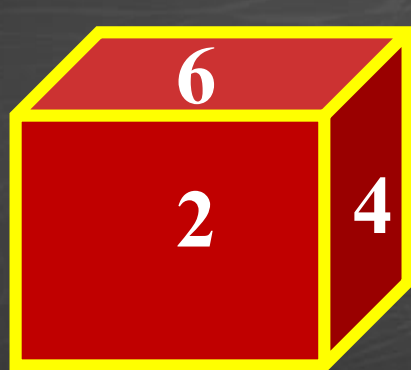
C . 23

D . 24



Three different positions of the same dice are shown here. Which number is on the face opposite the face showing 5?

एक ही पासे के तीन अलग-अलग स्थितियां दिखायी गई हैं। जिस सतह पर 5 है उस सतह के विपरीत वाली सतह पर कौन-सी संख्या होगी?



A. 1

B. 3

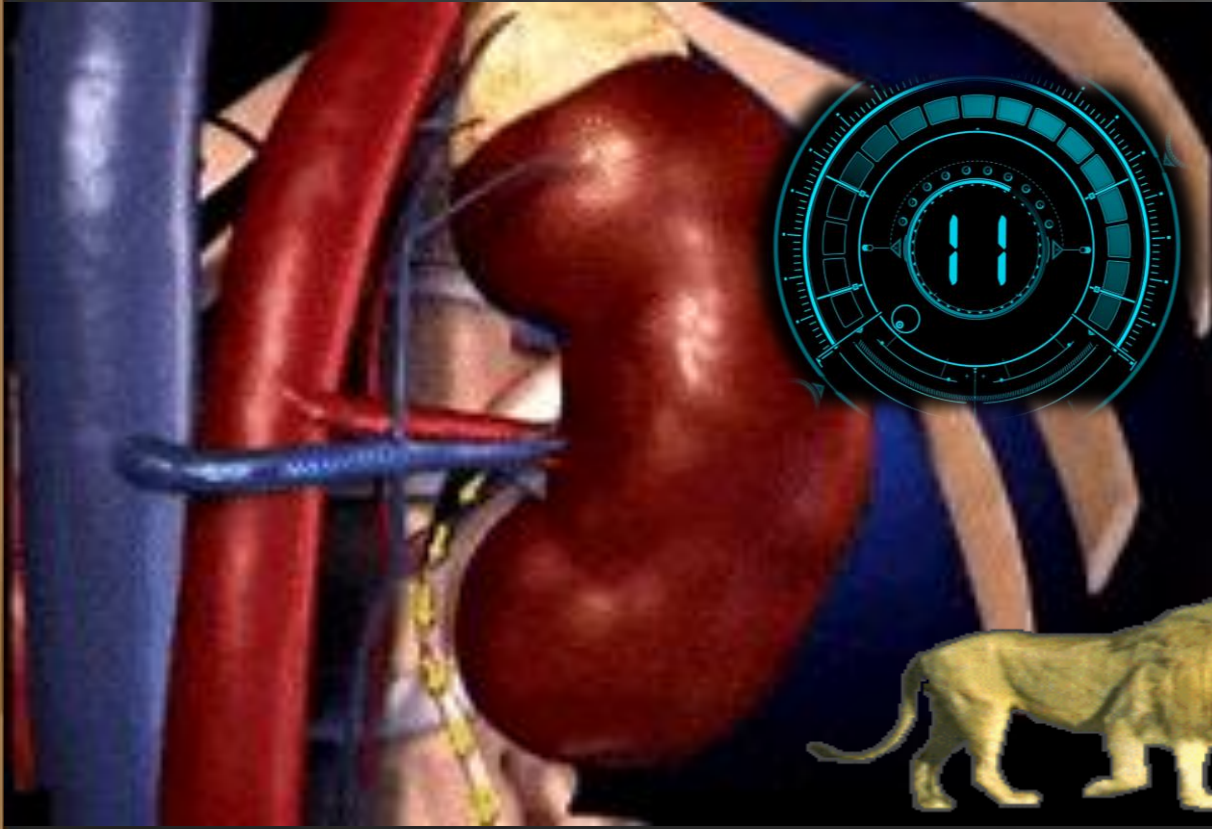
C. 2

D. 6



‘Heart’ is related to “Circulation” in the same way as ‘Kidney’ is related to “_____”.


‘हार्ट’, “सर्कुलेशन” से उसी तरह संबंधित है जैसे ‘किडनी’ “_____” से संबंधित है।



- A. Reproduction / प्रजनन
- B. Respiration / श्वसन
- C. Energy Production / ऊर्जा उत्पादन
- Excretion / मलत्याग

How many triangles are there in the following figure?

निम्नलिखित आकृति में कितने त्रिभुज हैं?




- A. 20
- B. 18
- C. 16
- D. 22

Which of the following diagram indicates the best relation between Boy , Girl and Student ?


निम्न में से कौन सा आरेख लड़का , लड़की और विद्यार्थी के बीच सबसे अच्छे संबंध को इंगित करता है?




B.



C.



D.



Select the related word/ number/ letter from the given alternatives .

दिए गए विकल्पों में से संबंधित शब्द/ संख्या/ अक्षर का चयन करें।

WEDNESDAY : SEND :: SATURDAY : ?



- A. TRUE
- B. SHARE
- C. DUST
- D. DREAM

Find odd word from the given alternatives

दिए गए विकल्पों में से विषम शब्द ज्ञात करें।




- A. **Flow** / बहाव
- B. **Current** / धारा
- C. **Drip** / बूँद
- D. **Stream** / प्रवाह

What will come in place of question mark (?)?

प्रश्नवाचक (?) चिन्ह की जगह क्या आयेगा?

लोकसभा : अध्यक्ष :: राज्यसभा : ?

Lok Sabha: Speaker :: Rajya Sabha:?



1. प्रधानमंत्री / Prime Minister
2. उपध्यक्ष / Deputy Chairman
3. उपराष्ट्रपति / Vice President
4. राष्ट्रपति / President



Mahendra's



**BIGGEST
OFFER**

**ON THIS
CHILDREN'S DAY**



**BUY
SPEED TEST
IN**

₹



ONLY

**13th NOV
10:00 AM**

TO

**15th NOV
10:00 AM**



BUY FROM
myshop.mahendras.org

Mahendra's

ENSURE YOUR SUCCESS WITH- VIDEO GURU



A COMPLETE VIDEO CLASS
FOR YOUR PREPARATION

**Subscribe
BUTTON**



BOOST YOUR PREPARATIONS WITH MAHENDRAS: **STUDY MATERIAL, E-MICA, E-NEWS, BAGS & MUCH MORE.** VISIT NOW: myshop.mahendras.org

LIVE CLASS



SSC CGL (TIER - I)

FOUNDATION CLASS 2019



MRP

~~₹6000~~

Offer price:-

₹2999

LIVE CLASS



IBPS PO MAINS 2019

CRASH COURSE



MRP

~~₹4000~~

Offer price:-

₹1999

BUY FROM myshop.mahendras.org

Mahendra's

ENSURE YOUR SUCCESS WITH- VIDEO GURU



A COMPLETE VIDEO CLASS
FOR YOUR PREPARATION

Subscribe
BUTTON

BOOST YOUR PREPARATIONS WITH MAHENDRAS: STUDY MATERIAL, E-MICA, E-NEWS, BAGS & MUCH MORE. VISIT NOW: myshop.mahendras.org




Current Affairs Live

15 NOVEMBER 2019

सुबह 7:00 बजे

PDF 



PART-2

GS

NCERT पर आधारित


SCIENCE के प्रश्न

PDF 

DAY - 35 7:00 PM



ENGLISH BITES



तैयारी SELECTION की

MISSION IBPS CLERK



REASONING

DAY 21

अबकी बार CLERK पार 600+ SERIES 2019

EXAM में पुछे जाने वाले

महत्वपूर्ण प्रश्न



6:30 AM
LIVE @



9:00 AM

Mahendra's

ENSURE YOUR SUCCESS WITH- VIDEO GURU



A COMPLETE VIDEO CLASS
FOR YOUR PREPARATION

Subscribe
BUTTON



BOOST YOUR PREPARATIONS WITH MAHENDRAS: STUDY MATERIAL, E-MICA, E-NEWS, BAGS & MUCH MORE. VISIT NOW: myshop.mahendras.com

 Mahendra's

ENSURE YOUR SUCCESS WITH- **VIDEO GURU**



A COMPLETE VIDEO CLASS
FOR YOUR PREPARATION

Subscribe
BUTTON



BOOST YOUR PREPARATIONS WITH MAHENDRAS: **STUDY MATERIAL, E-MICA, E-NEWS, BAGS & MUCH MORE.** VISIT NOW: myshop.mahendras.com