

REASONING SSC CHSL (20 JANUARY 20)

Q1. Which letter will replace the question mark (?) in the following series? निम्नलिखित पत्र में प्रश्नवाचक चिन्ह (?) की जगह कौन सा अक्षर आएगा?
D, F, G, I, J, ?

- (a) M (b) K (c) L (d) N

ANS- 3

Q2. Three of the following four number-pairs are alike in a certain way and one is different. Find the odd one out.

निम्नलिखित चार में से तीन नंबर जोड़े एक निश्चित तरीके से एक जैसे हैं और एक अलग है। विषम ज्ञात कीजिये?

- (a) 3 : 18 (b) 7 : 70 (c) 4 : 24 (d) 9 : 108

ANS- 3

Q3. Select the set of numbers that is similar to the following set
उन संख्याओं के समूह का चयन करें जो निम्न सेट के समान है

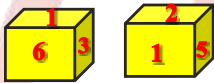
{8, 64, 80}

(a) {2, 8, 20} (b) {4, 16, 32}

(c) {5, 25, 60} (d) {7, 56, 70}

ANS- 4

Q4. Two positions of the same dice are given. which number will be at the top if '6' is at the bottom? एक ही पासा के दो पद दिए गए हैं। यदि 6 'सबसे नीचे' है तो कौन सी संख्या सबसे ऊपर होगी?



- (a) 1 (b) 2 (c) 5 (d) 3

ANS- 3

Q5. Select the option that is related to the third number in the same way as the second number is related to the first number

उस विकल्प का चयन करें जो तीसरे नंबर से उसी तरह से संबंधित है जैसे दूसरी संख्या पहले नंबर से संबंधित है

13 : 182 :: 17

- (a) 297 (b) 306 (c) 312 (d) 288

ANS- 2

Q6. three of the following four letter-cluster/number-pairs are alike in a certain way and one is different. Find the odd one out.

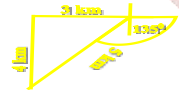
निम्नलिखित चार पत्र-समूहों / संख्या-युग्मों में से तीन एक निश्चित तरीके से और एक जैसे हैं एक अलग है। विषम चुनें।

- (a) 18 : 81 (b) 27 : 72 (c) 37 : 47 (d) 92 : 29

ANS- 3

Q7. Ram starts moving in north direction for 4 km. He took a right turn walk for 3 km. He turned 135° clockwise and walked for 5 km. What is the distance between his initial and final position?

राम 4 किमी तक उत्तर दिशा में चलना शुरू करता है। फिर 3 किमी दाहिने मुड़ता है। फिर वह 135° दक्षिणावर्त घूमता है और 5 किमी तक चला। उसकी प्रारंभिक और अंतिम स्थिति के बीच की दूरी क्या है?



- (a) 4 km (b) 2 km (c) 7 km (d) 0 km

ANS- 4

Q8. Three of the following four numbers are alike In Certain way and one is different. Pick the number that is different from the rest.

निम्नलिखित चार संख्याओं में से तीन एक जैसे हैं और एक अलग है। वह संख्या चुनें जो बाकियों से अलग हो।

- (a) 162 (b) 198 (c) 452 (d) 252

ANS- 3

Q9. Statements / कथन

I. some apples are Mangoes / सभी सेब आम हैं

II. all mangoes are grapes. सभी आम अंगूर हैं

Conclusion / निष्कर्ष

I. some apples are grapes / कुछ सेब अंगूर हैं

II. some apples are not grapes / कुछ सेब अंगूर नहीं हैं

Q10. 'Arbitrator' is related to 'settlement' in the same way as 'Lawyer' is related to '____'? पंच उसी तरह समझौता से संबंधित है जिस तरह से वकील _____ से संबंधित है?

- (a) Justice / न्याय (b) Injustice / अन्याय
(c) Communication. / संचार (d) Advocate. / अभिवक्ता

ANS- 1

Q11. Select the venn diagram that best illustration the relationship between the following classes. Uncle, Relatives, Rich

वेन अरेख का चयन करें जो निम्नलिखित वर्गों के बीच संबंध को सबसे अच्छा चित्रण करता है। चाचा, रिश्तेदार, अमीर



ANS- 4

Q12. How many triangles are there in the following figure?
निम्नलिखित आकृति में कितने त्रिभुज हैं?



- (a) 16 (b) 14 (c) 20 (d) 17

ANS- 4

Q13. Select the related word / letters / number from the given alternatives.

दिए गए विकल्पों में से संबंधित शब्द / अक्षर / संख्या को चुनिए।

Love: Hate :: Charlatan: ?

प्यार : नफरत :: मायावी : ?

- (a) Sorrowful / दुः खद (b) Wizard / जादूगर
(c) Humble / विनम्र (d) Conceited / गर्भित

ANS- 2

Q14. Select the related word / letters / number from the given alternatives.

दिए गए विकल्पों में से संबंधित शब्द / अक्षर / संख्या को चुनिए।

47 : 65 :: 59 : ?

- (a) 95 (b) 110 (c) 106 (d) 118

ANS- 1

Q15. Four positions of a dice are given below. Identify the number at the bottom when top is 1./ एक पासा के चार स्थान नीचे दिए गए हैं। शीर्ष 1 होने पर नीचे की संख्या को पहचानें।




- (a) 6 (b) 3 (c) 2 (d) 5

ANS- 2

Q16. Find the number of triangles in the given figure.

दिए गए आंकड़े में त्रिकोणों की संख्या ज्ञात कीजिए।



- (a) 11 (b) 14 (c) 16 (d) 22 or more

ANS- 4

Q17. In the question, find the missing number from the given responses.

प्रश्न में, दी गई प्रतिक्रियाओं से लापता संख्या ज्ञात कीजिए।



- (a) 11 (b) 14 (c) 16 (d) 22 or more

ANS- 4

Q18. Select the related word/letter / number / figure from the given alternatives.
दिए गए विकल्पों में से संबंधित शब्द / अक्षर / संख्या / संख्या का चयन करें।

Saint : Meditation :: Scientist :

संत : ध्यान :: वैज्ञानिक

- A. Research/ शोध (b) Knowledge/ ज्ञान
(c) Spiritual/ धार्मिक (d) Rational/ तार्किक

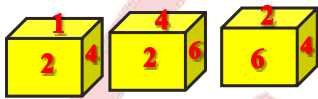
ANS-1

Q19. If NARGRUED is code for GRANDEUR which word is coded as SERPEVRE?/ यदि GRANDEUR को NARGRUED कोड दकया जाता है तो कौन सा कोड SERPEVRE के बलए होगा?

- (a) PERSEVER (b) PRESERVE
(c) PRESERVER (d) PREVERSE

ANS- 2

Q20. Three positions of a dice are given below. Identify the number on the opposite of side showing 4. / एक पासा के तीन स्थान नीचे दिए गए हैं। 4 दिखाने वाले पक्ष के विपरीत पर संख्या को पहचानें।



- (a) 6 (b) 2 (c) 3 (d) cnd

ANS- 4

Q21. If NO = 210
and AAP = 16,
then CAP = ?

- (a) 50 (b) 200 (c) 48 (d) 240

ANS- 3



Q 22. (a) 25 (b) 30 (c) 35 (d) 40

ANS- 2

Q23. Statement / कथन:

People who speak too much against dowry are those who had taken it themselves.

दहेज के खिलाफ बहुत ज्यादा बोलने वाले लोग वे हैं जिन्होंने इसे खुद लिया था।

Conclusions / निष्कर्ष:

- I. It is easier said than done. / कहना आसान है, करना कठिन है
II. People have double standards / लोगों के दोहरे मापदंड हैं