



Mahendra's



SSC CHSL EXAM

REASONING

SYLLOGISM (सम्पूर्ण TRICK)
+
NON VERBAL (नए प्रश्न)
(WITH TRICKS)

DAY 17



Mahendra's

ENSURE YOUR SUCCESS WITH- **VIDEO GURU**



A COMPLETE VIDEO CLASS
FOR YOUR PREPARATION

Subscribe
BUTTON




BOOST YOUR PREPARATIONS WITH MAHENDRAS: STUDY MATERIAL, E-MICA, E-NEWS, BAGS & MUCH MORE. VISIT NOW: myshop.mahendras.com



जिंदगी की किताब
में धैर्य का कवर होना बहुत ज़रूरी है
क्योंकि वही **हर पन्ने** को
बांधकर रखता है.



Good Morning

 **Mahendra's**

ENSURE YOUR SUCCESS WITH- VIDEO GURU



A COMPLETE VIDEO CLASS
FOR YOUR PREPARATION

Subscribe
BUTTON



BOOST YOUR PREPARATIONS WITH MAHENDRAS: **STUDY MATERIAL, E-MICA, E-NEWS, BAGS & MUCH MORE.** VISIT NOW: myshop.mahendras.com

? , Planning, Strategy, Marketing, Finance

? , योजना, रणनीति, विपणन, वित्त

Idea → Planning → Strategy → Marketing → Finance



(a) Realization/ वसूली

(b) Success/ सफलता

(c) Failure / असफलता



Idea/ विचार

Mahendra's

ENSURE YOUR SUCCESS WITH- VIDEO GURU



A COMPLETE VIDEO CLASS
FOR YOUR PREPARATION

**Subscribe
BUTTON**



BOOST YOUR PREPARATIONS WITH MAHENDRAS: **STUDY MATERIAL, E-MICA, E-NEWS, BAGS & MUCH MORE.** VISIT NOW: myshop.mahendras.com

In each of the following, a series is given with one term missing. Choose the correct alternative from the given ones that will complete the series.

निम्नलिखित में से प्रत्येक प्रश्न में, लुप्त पद के साथ एक श्रृंखला दी गई है। दिए गए विकल्पों में से उस सही विकल्प का चयन कीजिये जो इस श्रृंखला को पूरा करेगा।



5, 30, 155, 780, ?

$$5 \times 5 + 5 = 30$$

$$30 \times 5 + 5 = 155$$

$$155 \times 5 + 5 = 780$$

$$780 \times 5 + 5 = 3905$$

(a) 4000



3905

(c) 3900

(d) 3805

Mahendra's

ENSURE YOUR SUCCESS WITH- VIDEO GURU



A COMPLETE VIDEO CLASS
FOR YOUR PREPARATION

**Subscribe
BUTTON**

BOOST YOUR PREPARATIONS WITH MAHENDRAS: STUDY MATERIAL, E-MICA, E-NEWS, BAGS & MUCH MORE. VISIT NOW: myshop.mahendras.com

Which of the following terms follows the trend of the given list ?

निम्नलिखित में से कौन सा पद दी गई सूची की प्रवृत्ति का अनुसरण करता है ?

**PQPPPPPPQ, PPQPPPPQ, PPPQPPPPQ, PPPPQPPQ,
PPPPPPQPPQ, _____.**



(a) QPPPPPPPPQ

(b) PQPPPPPPQ

(c) PPQPPPPPPQ



PPPPPPPPQQ

Mahendra's

ENSURE YOUR SUCCESS WITH- VIDEO GURU



**A COMPLETE VIDEO CLASS
FOR YOUR PREPARATION**

**Subscribe
BUTTON**

BOOST YOUR PREPARATIONS WITH MAHENDRAS: STUDY MATERIAL, E-MICA, E-NEWS, BAGS & MUCH MORE. VISIT NOW: myshop.mahendras.com

While posing for a family photo, the father is standing to the right of the son and left of the grandmother. The mother is sitting to the left of her daughter and right of the grandmother. Who is seated in the middle?

एक फैमिली फोटो में फोटो खींचते समय, पिता, पुत्र के दाएँ ओर और ग्रैंडमदर के बाएँ ओर खड़ा है। माता, अपनी पुत्री के बाएँ ओर और ग्रैंडमदर के दाएँ ओर बैठी हैं। मध्य में कौन बैठा है?

पुत्र पिता **ग्रैंडमदर** माता पुत्री

 **Grandmother/ ग्रैंडमदर**

(b) Son/ पुत्र

(c) Father/ पिता

(d) Mother/ माता

Five Point Someone: Chetan Bhagat : : Swami and Friends : ?

Five Point Someone: चेतन भगत : : Swami and Friends : ?



(a) William Shakespeare
विलियम शेक्सपियर

R.K. Narayan

आर. के. नारायण

(c) Charles Dickens
चार्ल्स डिकेन्स

(d) Rabindra Nath Tagore
रबिन्द्र नाथ टैगोर

 **Mahendra's**

ENSURE YOUR SUCCESS WITH- VIDEO GURU



A COMPLETE VIDEO CLASS
FOR YOUR PREPARATION

Subscribe
BUTTON 

BOOST YOUR PREPARATIONS WITH MAHENDRAS: STUDY MATERIAL, E-MICA, E-NEWS, BAGS & MUCH MORE. VISIT NOW: myshop.mahendras.com

If $8\%5 = 30$,

$$9\%2 = 70$$

and $1\%4 = -30$,

then find the value of $2\%5 = ?$

$$(8 - 5) \times 10 = 30$$

$$(9 - 2) \times 10 = 70$$

$$(1 - 4) \times 10 = -30$$

Similarly

$$(2 - 5) \times 10 = -30$$



-30

(b) 10

(c) -20

(d) 40

Select the related word/letters/number from the given alternatives.

दिए गए विकल्पों में से संबंधित शब्द / अक्षर / संख्या को चुनिए।

(a) Venus : Planet / शुक्रः ग्रह

(b) Moon : Satellite / चंद्रमाः उपग्रह



(c) Jupiter : Black Hole / बृहस्पति : कालोत्पल

(d) Sun : Star / सूर्यः तारा



Mahendra's

ENSURE YOUR SUCCESS WITH- VIDEO GURU



**A COMPLETE VIDEO CLASS
FOR YOUR PREPARATION**

**Subscribe
BUTTON**

BOOST YOUR PREPARATIONS WITH MAHENDRAS: STUDY MATERIAL, E-MICA, E-NEWS, BAGS & MUCH MORE. VISIT NOW: myshop.mahendras.com

In the following question, select the related words/letters /numbers from the given alternatives.

निम्नलिखित प्रश्न में, दिए गए विकल्पों में से सम्बन्धित शब्द/वर्ण/संख्या का चयन करें

$$0.5 : 0.125 :: 2 : ?$$

0



125

(a) 06

(b) 16



08

(d) 12

Mahendra's

ENSURE YOUR SUCCESS WITH- VIDEO GURU



A COMPLETE VIDEO CLASS
FOR YOUR PREPARATION

Subscribe
BUTTON



BOOST YOUR PREPARATIONS WITH MAHENDRAS: STUDY MATERIAL, E-MICA, E-NEWS, BAGS & MUCH MORE. VISIT NOW: myshop.mahendras.com

A series is given with one term missing. Choose the correct alternative from the given ones that will complete the series.

एक श्रृंखला दी गई है जिसमें एक टर्म अज्ञात हैं आपको दिए गए विकल्पों में से उस विकल्प का चयन करना है जो इस श्रृंखला को पूरा करेगा?

Troposphere, Stratosphere, Mesosphere, ?

ट्रोपोस्फीयर, स्ट्रैटोस्फीयर, मेसोस्फीयर, ?

1. Troposphere,

2. stratosphere,

3. Mesosphere

4. Thermosphere,

5. Exosphere are the layers of atmosphere in sequence.

(a) Exosphere/ बहिर्मंडल

Thermosphere/ थर्मोस्फीयर

Stratopause/ क्षोभमंडल

(a) Ozone Layer/ ओजोन परत



From the given alternative words, select the word which cannot be formed using the letters of the given word.

दिए गए वैकल्पिक शब्दों से, उस शब्द का चयन करें जिसे दिए गए शब्द के अक्षरों का उपयोग करके नहीं बनाया जा सकता है।

ENCYCLOPEDIA



(a) OPEN



PLEASE

(c) CANOPY

(d) PLEAD

 **Mahendra's**

ENSURE YOUR SUCCESS WITH- VIDEO GURU



A COMPLETE VIDEO CLASS
FOR YOUR PREPARATION

Subscribe
BUTTON 

BOOST YOUR PREPARATIONS WITH MAHENDRAS: STUDY MATERIAL, E-MICA, E-NEWS, BAGS & MUCH MORE. VISIT NOW: myshop.mahendras.com

Arrange the following words as per order in the dictionary .

शब्दकोश में आदेश के अनुसार निम्नलिखित शब्दों को व्यवस्थित करें

Correct sequence is -

2 - Eyeless



1 - Eyelid



4 - Eyesight



3 - Eyesore

1. Eyelid

2. Eyeless

3. Eyesore

4. Eyesight



2, 1, 4, 3

(b) 2, 1, 3, 4

(c) 4, 3, 1, 2

(d) 4, 2, 3, 1

Mahendra's

ENSURE YOUR SUCCESS WITH- VIDEO GURU



**A COMPLETE VIDEO CLASS
FOR YOUR PREPARATION**

**Subscribe
BUTTON**

BOOST YOUR PREPARATIONS WITH MAHENDRAS: STUDY MATERIAL, E-MICA, E-NEWS, BAGS & MUCH MORE. VISIT NOW: myshop.mahendras.com

Select the related word/letters/number from the given alternatives.

दिए गए विकल्पों में से संबंधित शब्द / अक्षर / संख्या को चुनिए।

ABDG : CDFI :: EFHK : ?



GHJM

(b) HILN

(c) HIMN

(d) HIKM

Mahendra's

ENSURE YOUR SUCCESS WITH- VIDEO GURU



**A COMPLETE VIDEO CLASS
FOR YOUR PREPARATION**

**Subscribe
BUTTON**



BOOST YOUR PREPARATIONS WITH MAHENDRAS: STUDY MATERIAL, E-MICA, E-NEWS, BAGS & MUCH MORE. VISIT NOW: myshop.mahendras.com

For the following questions. Find the odd word/letters/number pair from the given alternatives

निम्नलिखित प्रश्नों के लिए दिए गए विकल्पों में से विषम शब्द / अक्षर / संख्या युग्म ज्ञात कीजिए



(a) MARCH / मार्च

(b) MAY / मई



JUNE / जून

(d) DECEMBER / दिसम्बर

 **Mahendra's**

ENSURE YOUR SUCCESS WITH- VIDEO GURU



A COMPLETE VIDEO CLASS
FOR YOUR PREPARATION

Subscribe
BUTTON 

BOOST YOUR PREPARATIONS WITH MAHENDRAS: STUDY MATERIAL, E-MICA, E-NEWS, BAGS & MUCH MORE. VISIT NOW: myshop.mahendras.com

In a certain code language, '-' represents 'x', '÷' represents '+', '+' represents '÷' and 'x' represents '-'. Find out the answer to the following question.

किसी निश्चित कूट भाषा में '-' 'x' का, '÷' '+' का, '+' '÷' का और 'x' '-' का प्रतिनिधित्व करता है. तो निम्नलिखित प्रश्न का उत्तर ज्ञात करें

$$12 - 2 + 6 x 20 \div 18 = ?$$

(a) 50

$$12 - 2 + 6 x 20 \div 18$$



02

ues.

(c) 19

$$= 12 - 2 + 6 x 20 \div 18$$

$$= 4 - 20 \div 18 = 2$$

(d) 43

Select the related word/letters/number from the given alternatives.

दिए गए विकल्पों में से संबंधित शब्द / अक्षर / संख्या को चुनिए।

Foot : Man :: Hoof : ?

पैर : आदमी :: खुर



(a) Leg / पैर

(b) Dog / कुत्ता

 **Horse / घोड़ा**

(d) Shoe / जूता



 **Mahendra's**

ENSURE YOUR SUCCESS WITH- VIDEO GURU



A COMPLETE VIDEO CLASS
FOR YOUR PREPARATION

Subscribe
BUTTON 

BOOST YOUR PREPARATIONS WITH MAHENDRAS: STUDY MATERIAL, E-MICA, E-NEWS, BAGS & MUCH MORE. VISIT NOW: myshop.mahendras.com

The following series is based on a specific pattern. What should come in place of ? to satisfy the pattern.

निम्नलिखित श्रृंखला एक विशिष्ट पैटर्न पर आधारित है। के स्थान पर क्या आना चाहिए? पैटर्न को पूरा करने के लिए



$$7, 2 = 59$$

$$5, 3 = 28$$

$$9, 1 = 810$$

$$2, 1 = 13$$

$$5, 4 = ?$$



19

(b) 09

(c) 20

(d) 239

Mahendra's

ENSURE YOUR SUCCESS WITH- VIDEO GURU



**A COMPLETE VIDEO CLASS
FOR YOUR PREPARATION**

**Subscribe
BUTTON**



BOOST YOUR PREPARATIONS WITH MAHENDRAS: STUDY MATERIAL, E-MICA, E-NEWS, BAGS & MUCH MORE. VISIT NOW: myshop.mahendras.com

Which one of the given responses would be meaningful order of the following in ascending order?

दी गई प्रतिक्रियाओं में से कौन सी आरोही क्रम में निम्नलिखित में से सार्थक क्रम होगी?



1. Sending / भेजना

2. Encoding / एन्कोडिंग

3. Receiving / प्राप्त करना

4. Decoding / डिकोडिंग

(a) 2, 4, 3, 1

(b) 4, 2, 1, 3


(c) 1, 2, 3, 4



2, 1, 3, 4

Five boys are sitting in a row. A is on the right of B, E is on the left of B, but to the right of C. If A is on the left of D, who is sitting in the middle?

एक पंक्ति में पाँच लड़के बैठे हैं। A, B के दाईं ओर है, E, B के बाईं ओर है, लेकिन C के दाईं ओर है। यदि A, D के बाईं ओर है, तो बीच में कौन बैठा है?




Select the related word/letters/number from the given alternatives.

दिए गए विकल्पों में से संबंधित शब्द / अक्षर / संख्या को चुनिए।

Love: Hate :: Charlatan: ?

प्यार: नफरत :: मायावी : ?



(a) Sorrowful / दुःखद



Wizard / जादूगर

(c) Humble / विनम्र

(d) Conceited / गर्भित

Mahendra's

ENSURE YOUR SUCCESS WITH- VIDEO GURU



A COMPLETE VIDEO CLASS
FOR YOUR PREPARATION

Subscribe
BUTTON

BOOST YOUR PREPARATIONS WITH MAHENDRAS: STUDY MATERIAL, E-MICA, E-NEWS, BAGS & MUCH MORE. VISIT NOW: myshop.mahendras.com

Select the related word/letters/number from the given alternatives.

दिए गए विकल्पों में से संबंधित शब्द / अक्षर / संख्या को चुनिए।

47 : 65 :: 59 : ?

Sol. $4 + 7 = 6 + 5 = 11$

$5 + 9 = 9 + 5 =$



95

(b) 110

(c) 106

(d) 118

 **Mahendra's**

ENSURE YOUR SUCCESS WITH- **VIDEO GURU**



A COMPLETE VIDEO CLASS
FOR YOUR PREPARATION

Subscribe
BUTTON 

BOOST YOUR PREPARATIONS WITH MAHENDRAS: **STUDY MATERIAL, E-MICA, E-NEWS, BAGS & MUCH MORE.** VISIT NOW: myshop.mahendras.com

In the following question, select the odd one from the given alternatives.

निम्नलिखित प्रश्न में, दिए गए विकल्पों में से विषम का चयन करें।



(a) XRMKL



XRMIF

(c) XRNLM

(d) XSNLY

 **Mahendra's**

ENSURE YOUR SUCCESS WITH- VIDEO GURU



A COMPLETE VIDEO CLASS
FOR YOUR PREPARATION

Subscribe
BUTTON 

BOOST YOUR PREPARATIONS WITH MAHENDRAS: **STUDY MATERIAL, E-MICA, E-NEWS, BAGS & MUCH MORE.** VISIT NOW: [myshop.mahendras.c](https://myshop.mahendras.com)



If, $6 \times 4 = 12$,

$4 \times 12 = 24$,

$12 \times 6 = 36$

then $6 \times 9 = ?$

(a) 35

(b) 24

 **27**

(d) 31

Sol.

After following the pattern we get $\frac{6 \times 9}{2} = 27$

Find the missing term in the following question:-

निम्नलिखित प्रश्न में लापता शब्द का पता लगाएं: -

I	II	III
$20 - 10 = 10$	$26 - 6 = 20$	$32 - 9 = 23$
$28 - 18 = 10$	$34 - 14 = 20$	$\boxed{40} - 17 = 23$

10	6	9
18	14	17
28	34	?
20	26	32



(a) 25

(b) 37



40

(d) 57

Mahendra's

ENSURE YOUR SUCCESS WITH- VIDEO GURU



**A COMPLETE VIDEO CLASS
FOR YOUR PREPARATION**

**Subscribe
BUTTON**

BOOST YOUR PREPARATIONS WITH MAHENDRAS: STUDY MATERIAL, E-MICA, E-NEWS, BAGS & MUCH MORE. VISIT NOW: myshop.mahendras.com

If **DECEMBER** is coded as **EDECBMRE** then **FEBRUARY** will be coded as

अगर **DECEMBER** को **EDECBMRE** के रूप में कोडित किया गया है तो **FEBRUARY** को कोडित किया जाएगा

F	E	B	R	U	A	R	Y
X	X	X	X	X	X	X	X
E	F	R	B	A	U	Y	R


(a) EFRBUAYR

(b) EFBRAUYR

(c) EFRBUARY



EFRBAUYR

 Mahendra's

ENSURE YOUR SUCCESS WITH- **VIDEO GURU**



A COMPLETE VIDEO CLASS
FOR YOUR PREPARATION

Subscribe
BUTTON



BOOST YOUR PREPARATIONS WITH MAHENDRAS: **STUDY MATERIAL, E-MICA, E-NEWS, BAGS & MUCH MORE.** VISIT NOW: [myshop.mahendras.c](https://myshop.mahendras.com)