



Mahendra's



RAILWAY NTPC/GROUP D

REASONING



LIVE

TEST

30/30



Mahendra's

ENSURE YOUR SUCCESS WITH- **VIDEO GURU**



A COMPLETE VIDEO CLASS
FOR YOUR PREPARATION

Subscribe
BUTTON



BOOST YOUR PREPARATIONS WITH MAHENDRAS: STUDY MATERIAL, E-MICA, E-NEWS, BAGS & MUCH MORE. VISIT NOW: myshop.mahendras.com



MAHENDRA'S CLASS ASSESSMENTS

EXAM DATES : 03 & 04 JAN 2020.

Congratulations

BANK EXAM TOPPERS



PAWAN KUMAR



ARPITA



AKANKSHA SINGH

SSC EXAM TOPPERS



ANITA TRIPATHI



SHIVANI UMARVAISHYA



PRIYADARSHI

Mahendra's

ENSURE YOUR SUCCESS WITH- VIDEO GURU



A COMPLETE VIDEO CLASS
FOR YOUR PREPARATION

**Subscribe
BUTTON**



BOOST YOUR PREPARATIONS WITH MAHENDRAS: **STUDY MATERIAL, E-MICA, E-NEWS, BAGS & MUCH MORE.** VISIT NOW: myshop.mahendras.com



CURRENT AFFAIRS LIVE

सुबह 7:00 बजे

12-13 JANUARY 2020

STATE OF THE DAY - ANDHRA PRADESH



Mahendra's

ENSURE YOUR SUCCESS WITH- VIDEO GURU



A COMPLETE VIDEO CLASS
FOR YOUR PREPARATION

**Subscribe
BUTTON**



BOOST YOUR PREPARATIONS WITH MAHENDRAS: **STUDY MATERIAL, E-MICA, E-NEWS, BAGS & MUCH MORE.** VISIT NOW: myshop.mahendras.com



CRACK SBI CLERK



2020 EXAM

WITH MAHENDRAS SBI CLERK PRE PREPARATION BATCH 2020

LIVE CLASS

**SBI CLERK PRE
PREPARATION BATCH 2020**

FULL BATCH

ENGLISH MATHS REASONING

SBI

LIVE CLASS

**SBI CLERK PRE
PREPARATION BATCH 2020**

ENGLISH

SBI

LIVE CLASS

**SBI CLERK PRE
PREPARATION BATCH 2020**

MATHS

SBI

LIVE CLASS

**SBI CLERK PRE
PREPARATION BATCH 2020**

REASONING

SBI

*Applicable On Individual Product

Offer Price
₹2499

Offer Price
₹999

BUY FROM
myshop.mahendras.org

Mahendra's

ENSURE YOUR SUCCESS WITH- **VIDEO GURU**



A COMPLETE VIDEO CLASS
FOR YOUR PREPARATION

Subscribe
BUTTON



BOOST YOUR PREPARATIONS WITH MAHENDRAS: STUDY MATERIAL, E-MICA, E-NEWS, BAGS & MUCH MORE. VISIT NOW: myshop.mahendras.org



LIVE CLASS

SBI CLERK PRE PREPARATION BATCH 2020



REASONING



Offer Price
₹999

WHAT YOU WILL GET

- ➔ CLASSES: 6 DAYS A WEEK
- ➔ CLASS DURATION: 1 HOUR
- ➔ 30+ HOURS OF INTERACTIVE LIVE CLASSES
- ➔ RECORDED SESSION
- ➔ CONCEPTS, APPROACHES & QUESTIONS BASED ON THE LATEST PATTERN
- ➔ 30+ TOPIC WISE PDF
- ➔ CHAT FACILITY

BUY FROM
myshop.mahendras.org

Mahendra's

ENSURE YOUR SUCCESS WITH- **VIDEO GURU**



A COMPLETE VIDEO CLASS
FOR YOUR PREPARATION

Subscribe
BUTTON



BOOST YOUR PREPARATIONS WITH MAHENDRAS: STUDY MATERIAL, E-MICA, E-NEWS, BAGS & MUCH MORE. VISIT NOW: myshop.mahendras.org

RITIKA MAHENDRAS

<https://t.me/joinchat/AAAAAFIFrmfglJslepg3yg>



Mahendra's

ENSURE YOUR SUCCESS WITH- VIDEO GURU



A COMPLETE VIDEO CLASS
FOR YOUR PREPARATION

Subscribe
BUTTON



BOOST YOUR PREPARATIONS WITH MAHENDRAS: **STUDY MATERIAL, E-MICA, E-NEWS, BAGS & MUCH MORE.** VISIT NOW: myshop.mahendras.com

1. If 'summer is hot' is coded as 'de fe ba' and 'come cold summer' as 'ja ha ba' and 'winter is cold' as 'pa ja de' then how will "come hot winter" be coded?

यदि 'summer is hot' को 'de fe ba' के रूप में, 'come cold summer' को 'ja ha ba' के रूप में और 'winter is cold' को 'pa ja de' के रूप में कोड किया जाता है तो "come hot winter" को किस प्रकार कोड किया जायेगा?

- (1) de ba ja
- (2) fe ba pa
- (3) ba pa ha
- (4) pa ha fe

2. If P means \div , R means \times , Q means $+$ and S means $-$, then $48 \text{ P } 8$
 $Q \ 6 \ R \ 9 \ S \ 31 = ?$

यदि P का अर्थ \div , R का अर्थ \times , Q का अर्थ $+$ और S का अर्थ $-$ है तो $48 \text{ P } 8$
 $Q \ 6 \ R \ 9 \ S \ 31 = ?$


(1) 60

(2) 29

(3) 31

(4) 54

DAILY CLASS TIME
6:15 PM

 Mahendra's

ENSURE YOUR SUCCESS WITH- VIDEO GURU



A COMPLETE VIDEO CLASS
FOR YOUR PREPARATION

Subscribe
BUTTON



BOOST YOUR PREPARATIONS WITH MAHENDRAS: **STUDY MATERIAL, E-MICA, E-NEWS, BAGS & MUCH MORE.** VISIT NOW: myshop.mahendras.com

3. Which pair is not exactly similar to the other three pairs.
कौन सी जोड़ी अन्य तीन जोड़ियों के समान नहीं है?



(a) Principal : School/प्रिंसिपल: स्कूल

(b) Pages : Note book/पेज: नोट बुक

(c) Letters : Word/अक्षर : शब्द

(d) Students : Class/छात्र: कक्षा

4. Select the related word from the given options.

Bird : Wings :: Fish : ?/पक्षी: पंख :: मछली: ?




(a) Gills/गलफड़े

(b) Head/सिर

(c) Fins/मत्स्यपंख

(d) Legs/पैर



5. Find the missing number (?) in the series

लुप्त संख्या (?) ज्ञात कीजिए।

3, 7, 13, 21, 31, ?



(a) 41

(b) 42

(c) 43

(d) 44



6. If TABLE = RYZJC, then CHAIR = ?
यदि TABLE = RYZJC है तो CHAIR = ?



- (a) AFZHQ
- (b) AFYGP
- (c) FAGYP
- (d) ZFAHQ



7. B is the brother of C. D is the sister of B. F is the sister of E who is the son of C. K is the husband of C. How is D related to F?
B, C का भाई है। D, B की बहन है। F, E की बहन है जो C का पुत्र है। K, C का पति है। D, F से कैसे संबंधित है?

(a) Maternal Aunt/मौसी

(b) Mother/माता

(c) Sister/बहन

(d) Niece/नीस




8. What will next in the series?
श्रृंखला में आगे क्या होगा?

ADGJ, CFIL, EHKN, ?



- (a) FILO
- (b) HKNQ
- (c) DGJM
- (d) GJMP**



9. Rearrange the jumbled letters to make meaningful words :

then select the one which is different

अर्थपूर्ण शब्द बनाने के लिए जंबल किए गए अक्षरों को फिर से व्यवस्थित करें और फिर जो अलग है उसका चयन करें।

- 
- (a) ENIMSAJ
(b) DLOGIRAM
(c) TORRAC
(d) REWOLFNU

10. Suresh is taller than Ramesh who is shorter than Rakesh. Jinesh is taller than the shortest person but shorter than Rakesh. Pritesh is taller than Suresh but shorter than Jinesh.

Who is the shortest?

सुरेश, रमेश से लंबा है जो राकेश से छोटा है। जिनेश सबसे छोटे व्यक्ति से लंबा है लेकिन राकेश से छोटा है। प्रीतेश सुरेश से लंबा है, लेकिन जिनेश से छोटा है।
सबसे छोटा कौन है?

- (a) Rakesh
- (b) Ramesh**
- (c) Pritesh
- (d) Suresh

DAILY CLASS TIME
6:15 PM

 **Mahendra's**

ENSURE YOUR SUCCESS WITH- VIDEO GURU



A COMPLETE VIDEO CLASS
FOR YOUR PREPARATION

Subscribe
BUTTON



BOOST YOUR PREPARATIONS WITH MAHENDRAS: **STUDY MATERIAL, E-MICA, E-NEWS, BAGS & MUCH MORE.** VISIT NOW: myshop.mahendras.com

11. If VOTER = 46259, HEATER = 851259, TEASER = 251159,
then which number represents S?

यदि VOTER = 46259, HEATER = 851259, TEASER = 251159,
तो S किस संख्या का प्रतिनिधित्व करता है?



(a) 1

(b) 5

(c) 8

(d) 7



12. Heart : Cardiologist : : Brain : ?

हृदय : हृदय रोग विशेषज्ञ :: मस्तिष्क : ?



- (a) Ophthalmologist/नेत्र-विशेषज्ञ
- (b) Nephrologist/किडनी रोग विशेषज्ञ
- (c) Neurologist/न्यूरोलॉजिस्ट
- (d) Gynecologist/प्रसूतिशास्त्री

13. Electric current : Ampere : : Weight : ?
विद्युत प्रवाह: एम्पीयर:: वजन:?



- (a) Scale/स्केल
- (b) Kilogram/किलोग्राम
- (c) Commodity/वस्तु
- (d) Measurement/माप



14. L is K's sister. M is the father of K. N and O are brothers. L is the mother of O. How is K related to N?

L, K की बहन है। M, K का पिता है। N और O आपस में भाई हैं। L, O की माता है। K, N से कैसे संबंधित है?

- (a) Maternal Uncle/मामा
- (b) Brother/भाई
- (c) Nephew/नेफ्यू
- (d) CND

15. Statement : I. All the glitters is not gold/सभी ग्लिटर सोना नहीं है

II. Sujatha wears a gold ornament

सुजाता सोने का आभूषण पहनती है

Conclusions: I. Sujatha's ornament glitters/सुजाता के आभूषण चमकते हैं

II. Sujatha's ornaments do not glitter .

सुजाता के गहनों में चमक नहीं है।

(a) Only conclusion I follows

(b) Only conclusion II follows

(c) Both conclusion I and II follows

(d) Neither conclusion I and II follows

16. If SMART = 93180, MARBLE = 318225 and EAT = 537, then
STABLE =?

यदि SMART = 93180, MARBLE = 318225 और EAT = 510, तो
STABLE =?

(a) 901225

(b) 253678

(c) 453678

(d) 243678

17. Statement : Ahimsa should be basic principle of human beings.

अहिंसा मनुष्य का मूल सिद्धांत होना चाहिए।

All of us should practice Ahimsa.

हम सभी को अहिंसा का अभ्यास करना चाहिए।

Conclusions: I. We all know the real meaning of Ahimsa.

हम सभी अहिंसा का वास्तविक अर्थ जानते हैं।

II. Ahimsa promotes global harmony.

अहिंसा वैश्विक सद्भाव को बढ़ावा देती है।

(a) Only conclusion I follows

(b) Only conclusion II follows

(c) Both conclusion I and II follows

(d) Neither conclusion I and II follows



18. Select the missing number from the given responses.

दिये गये विकल्पों में से लुप्त संख्या ज्ञात कीजिए।

DAILY CLASS TIME

6:15 PM



16

25

49

64

81

100

40

196

?

(a) 811

(b) 564

(c) 480

(d) 405

 Mahendra's

ENSURE YOUR SUCCESS WITH- **VIDEO GURU**



A COMPLETE VIDEO CLASS
FOR YOUR PREPARATION

Subscribe
BUTTON



BOOST YOUR PREPARATIONS WITH MAHENDRAS: **STUDY MATERIAL, E-MICA, E-NEWS, BAGS & MUCH MORE.** VISIT NOW: myshop.mahendras.com

19. Find out the correct answer for the unsolved equation on the basis of the given equation./दिये गये समीकरण के आधार पर अनुत्तरित समीकरण का सही उत्तर ज्ञात कीजिये।

If/यदि $11 \times 12 \times 13 = 345$, $24 \times 23 \times 35 = 769$ then/तो $31 \times 43 \times 44 = ?$

(a) 497

(b) 974

(c) 749

(d) 589

20. Which of the following Venn-diagram represents best relations between leather, atoms and electrons?

निम्नलिखित में से कौन सा वेन-आरेख चमड़े, परमाणु और इलेक्ट्रॉनों के बीच सर्वश्रेष्ठ संबंधों का प्रतिनिधित्व करता है?



21. Find the missing number from the below options.

19	78	20
25	144	47
16	?	13

(a) 96

(b) 76

(c) 58

(d) 29

22. Select the word pair in which the two words are related in the same way as the two words in the following word-pair.

उस शब्द जोड़ी का चयन करें जिसमें दो शब्द उसी तरह से संबंधित हैं जैसे कि निम्नलिखित शब्द-जोड़ी में दो शब्द आपस में संबंधित है।



Season: Winter/ऋतु: सर्दी

- (a) Week : Calendar/सप्ताह: कैलेंडर
- (b) Summer : Autumn/ग्रीष्म: शरद ऋतु
- (c) Year: Century/वर्ष: सेंचुरी
- (d) Month : April/माह: अप्रैल

23. Select the option that is related to the third number in the same way as the second number is related to the first number.

उस विकल्प का चयन करें जो तीसरी संख्या से उसी तरह संबंधित है जैसे दूसरी संख्या पहली संख्या से संबंधित है।

12 : 68 : 21 : ?

(a) 49

(b) 117

(c) 122

(d) 79

24. Set them in a descending order of area./अवरोही क्रम में सेट करें।

A. South America/दक्षिण अमेरिका

B. Africa/अफ्रीका

C. Europe/यूरोप

D. Australia/ऑस्ट्रेलिया

E. North America/उत्तर अमेरिका



(a) B, E, A, D, C

(b) B, A, E, D, C

(c) B, A, E, C, D

(d) B, E, A, C, D

25. Arrange the following words in a logical and meaningful order.

निम्नलिखित शब्दों को एक तार्किक और सार्थक क्रम में व्यवस्थित करें।

1) Egypt/मिस्र

2) Africa/अफ्रीका

3) Great Pyramid/महान पिरामिड 4) World/विश्व

5) Giza/गिजा



(a) 3, 5, 2, 1, 4

(b) 3, 5, 1, 2, 4


(c) 5, 3, 1, 2, 4

(d) 5, 3, 1, 4, 2

26. The number of triangle in the following diagram is :



- (a) 13
- (b) 14
- (c) None
- (d) 17


 **SSC CGL EXAM**


REASONING

**PREVIOUS
YEAR PAPER 2017**

POSTMORTEM

DAY 29





 **RAILWAY NTPC/GROUP D**

REASONING

BEST TRICKS

- DICE
- NON VERBAL
- ORDER RANKING
- CLASSIFICATION





 **ENSURE YOUR SUCCESS WITH- VIDEO GURU**

VIDEO GURU

A COMPLETE VIDEO CLASS FOR YOUR PREPARATION

Subscribe BUTTON  **BOOST YOUR PREPARATIONS WITH MAHENDRAS: STUDY MATERIAL, E-MICA, E-NEWS, BAGS & MUCH MORE. VISIT NOW: myshop.mahendras.com**

SSC CGL EXAM

MATHS

MENSURATION 2D

**BASIC से
WITH TRICKS**

DAY 29



SSC CHSL EXAM

MATHS

TIME & WORK

**BASIC से
LEVEL 1**

DAY 19





CURRENT AFFAIRS LIVE

सुबह 7:00 बजे

12-13 JANUARY 2020

STATE OF THE DAY - ANDHRA PRADESH



Mahendra's

ENSURE YOUR SUCCESS WITH- VIDEO GURU





A COMPLETE VIDEO CLASS
FOR YOUR PREPARATION

**Subscribe
BUTTON**



BOOST YOUR PREPARATIONS WITH MAHENDRAS: **STUDY MATERIAL, E-MICA, E-NEWS, BAGS & MUCH MORE.** VISIT NOW: myshop.mahendras.com

 Mahendra's




SSC CHSL EXAM

ENGLISH

SPELLING ERROR CHALLENGE LEVEL 2

DAY 19



 Mahendra's



RAILWAY NTPC/GROUP D

GS



2 HOURS NON-STOP



 Mahendra's


ENSURE YOUR SUCCESS WITH- VIDEO GURU



A COMPLETE VIDEO CLASS FOR YOUR PREPARATION

 **Subscribe** 

BOOST YOUR PREPARATIONS WITH MAHENDRAS: STUDY MATERIAL, E-MICA, E-NEWS, BAGS & MUCH MORE. VISIT NOW: myshop.mahendras.com

 Mahendra's

ENSURE YOUR SUCCESS WITH- **VIDEO GURU**



A COMPLETE VIDEO CLASS
FOR YOUR PREPARATION

Subscribe
BUTTON



BOOST YOUR PREPARATIONS WITH MAHENDRAS: **STUDY MATERIAL, E-MICA, E-NEWS, BAGS & MUCH MORE.** VISIT NOW: [myshop.mahendras.c](https://myshop.mahendras.com)