

REASONING UP SI (18 NOVEMBER 2019)

Q1 How many Triangle are there in the given figure ?/दी गई आकृति में कितने त्रिभुज हैं?



a. 20 b. 22 c. 24 d. 16 ANS-2

Q2. If 'green' is called 'white', 'white' is called 'yellow', 'yellow' is called 'blue', 'blue' is called 'pink' and 'pink' is called 'black', then what is the colour of sky?/यदि 'हरे' को 'सफ़ेद', 'सफ़ेद' को 'पीला', 'पीला' को 'नीला' और 'गुलाबी' को 'गुलाबी' और 'गुलाबी' को 'काला' कहा जाता है, तो क्या है

a) Pink / गुलाबी b) Blue / नीला c) Green / हरा d) white / सफ़ेद
e) Yellow / पीला ANS-2

Q3. How many Triangle are there in the given figure ?/दी गई आकृति में कितने त्रिभुज हैं?



a. 40 b. 39 c. 44 d. 46 ANS-2

Q4. Four of the following five are alike in a certain way and so form a group. Which is the one that does not belong to that group?/निम्नलिखित पाँच में से चार एक निश्चित तरीके से एक जैसे हैं और इसलिए एक समूह बनाते हैं।

वह कौन सा है जो उस समूह से संबंधित नहीं है?
a) 24 B. 32 C. 64 D. 48
e) 72 ANS-3

Q5. How many Triangle are there in the given figure ?/दी गई आकृति में कितने त्रिभुज हैं?



a. 13 b. 14 c. 15 d. 16 ANS-2

Q6. Suman knows that one number is bigger than 9 but smaller than 15 and Anil knows that the number is smaller than 17 but bigger than 13. If both inferences are correct. Then what is the number?/सुमन जानता है कि एक संख्या 9 से बड़ी लेकिन 15 से छोटी है और अनिल जानता है कि संख्या 17 से छोटी लेकिन 13 से बड़ी है। यदि दोनों अनुमान सही हैं तो संख्या क्या है?

A. 13 B. 15 C. 14 D. 16 ANS-3

Q7. How many Triangle are there in the given figure ?/दी गई आकृति में कितने त्रिभुज हैं?



a. 21 b. 22 c. 18 d. 20 e. none ANS-

Q8. Four of the following five are alike in a certain way and so form a group.

Which is the one that does not belong to that group?/निम्नलिखित पाँच में से चार एक निश्चित तरीके से एक जैसे हैं और इसलिए एक समूह बनाते हैं। वह कौन सा है जो उस समूह से संबंधित नहीं है?


a) January b) July c) May d) June
e) December ANS-3

Q9. Find the number of circle ?/ वृत्तों की संख्या ज्ञात करें ?



A. 12 B. 11 C. 13 D. 14 ANS-3

Q10. Find the number of cube ?/ घनों की संख्या ज्ञात करें ?

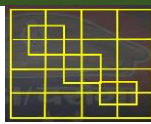


A. 56 B. 21 C. 50 D. 32 ANS-1

Q11. 5, 16, 49, 104, ?

A. 171 B. 191 C. 181 D. 161 ANS-3

Q12. Find the number of Square ?/वर्गों की संख्या ज्ञात करें ?



A. 41 B. 45 C. 43 D. 44 ANS-2

Q13. 7, 26, 63, 124, 215, 342, ?

A. 481 B. 511 C. 391 B. 421 ANS-2

Q14. How many Triangle are there in the given figure ?/दी गई आकृति में कितने त्रिभुज हैं?



a. 48 b. 47 c. 45 d. 52 ANS-1

Q15. Statements: Some Politician are Sinister. / कुछ राजनीतिज्ञ, भ्रष्ट हैं।

All Sinister is a Bureaucrats. / सभी भ्रष्ट, अधिकारी हैं।

Conclusions: I. Some Bureaucrats are Sinister. / कुछ अधिकारी, भ्रष्ट हैं।

II. No Sinister is a Bureaucrat. / कोई भ्रष्ट, अधिकारी नहीं है।

A. Only conclusion I follows. B. Only conclusion II follows.

C. Neither conclusion I nor II follows. D. Both conclusions I and II follows

ans-1

Q16. How many Rectangle are there in the given figure ?/दी गई आकृति में कितने आयत हैं?



a. 21 b. 22 c. 22 d. 23 ans-1

Q17. Find the odd word/ number/letters/number pair/ figure from the given alternatives/दिए गए विकल्पों में से विषम शब्द/ अक्षर/ संख्या/संख्या युग्म /आकृति को चुनिए।

A. EGKQ B. CEIO C. LNQW D. PRVB

ANS-3

Q18. How many Rectangle are there in the given figure ?/दी गई आकृति में कितने आयत हैं?



a. 100 b. 101 c. 30 d. 31

ANS-1

Q19. In each of the following questions. Select the related letter/ word/ number from the given alternatives./निम्नलिखित प्रश्नों में से प्रत्येक में दिए गए विकल्पों में से सम्बन्धित शब्द/ अक्षर/ संख्या को चुनिए।

423 : 657 :: 534 : ?

A. 678 B. 867 C. 768 D. 876 ANS-3

Q20. How many Rectangle are there in the given figure ?/दी गई आकृति में कितने आयत हैं?



a. 10 b. 11 c. 12 d. 13 ANS-2


Q21. Which of the given alternatives will have meaningful sequence?/दिये गये विकल्पों में से कौन सा शब्दों का अर्थपूर्ण क्रम होगा?

1. Transplantation 2. Agricultural land 3. Sowing 4. Farmer 5. Sapling

1. रोपाई 2. कृषि भूमि 3. बीजारोपण 4. किसान 5. पौधा

A. 4,2,1,5,3 B. 4,2,1,3,5 C. 2,4,1,5,3 D. 2,4,3,5,1 ANS-4


Q22. How many Rectangle are there in the given figure ?/दी गई आकृति में कितने आयत हैं?



a. 21 b. 22 c. 20 d. 23

ANS-1

Q23. How many Line are there in the given figure ?/दी गई आकृति में कितनी रेखाएँ हैं?




a. 16 b. 15 c. 21 d. 24 ANS-3

Q24. If $33 + 44 = 24$, $44 + 66 = 48$, then $55 + 77 = ?$ / यदि $33 + 44 = 24$, $44 + 66 = 48$, तो $55 + 77 = ?$

A. 48 B. 60 C. 96 D. 70 ANS-4

Q25. Find the minimum number of straight lines required to make the given figure/दी गई आकृति बनाने के लिए आवश्यक न्यूनतम पंक्तियों की संख्या ज्ञात कीजिए



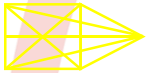
A. 14 B. 12 C. 16 D. 15 ANS-2

Q26. Select the related number/word/letter from given alternatives./ दिये गये विकल्पों में से सम्बन्धित संख्या/शब्द/अक्षर को चुनिये।

Beholden : Obligated :: Faint : ? / कुतज़ : अभारी :: अचेत : ?

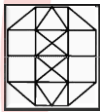
A. Cowardice / भीरुता B. Swoon / मूर्छा C. Weak / अशक्त
D. Waggly / अस्थिर ANS-2

Q27. Find the minimum number of straight lines required to make the given figure/दी गई आकृति बनाने के लिए आवश्यक न्यूनतम पंक्तियों की संख्या ज्ञात कीजिए



A. 11 B. 13 C. 15 D. 09 ANS-1

Q28. How many Rectangle are there in the given figure ?/दी गई आकृति में कितने आयत हैं?



a. 21 b. 22 c. 20 d. 23 ANS-1

Q30. Select the related number/word/letter from given alternatives./ दिये गये विकल्पों में से सम्बन्धित संख्या/शब्द/अक्षर को चुनिये।

Ganga : Varanasi : Kshipra : ? / गंगा : वाराणसी : क्षिप्रा : ?

A. Bhopal / भोपाल B. Jabalpur / जबलपुर
C. Ujjain / उज्जैन D. Indore / इंदौर ANS-3

Q31. Find the number of cube ?/ घनों की संख्या ज्ञात करे ?

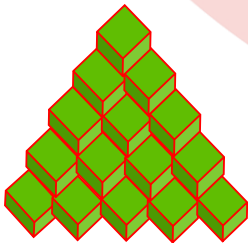


a. 13 b. 14 c. 12 d. 15 ANS-2

Q32. Find odd word from the given alternatives./दिए गए विकल्पों में से विषम शब्द ज्ञात करें।

A. Arrow / तीर B. Axe / कुल्हाड़ी
C. Knife / चाकू D. Dagger / कटार ANS-1

Q33. Find the number of cube ?/ घनों की संख्या ज्ञात करे ?



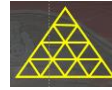
A. 32 B. 35 C. 36 D. 15 ANS-2

Q34. If/यदि $4 \times 6 \times 9 = 649$ and/और, $9 \times 8 \times 4 = 894$ then/तो

$3 \times 7 \times 2 = ?$

A. 294 B. 732 C. 813
D. 272 ANS-2

Q35. How many Triangle are there in the given figure ?/दी गई आकृति में कितने त्रिभुज हैं?




a. 28 b. 27 c. 30 d. 32 ANS-2

Q36. Select the related number/word/letter from given alternatives./दिये गये विकल्पों में से सम्बन्धित संख्या/शब्द/अक्षर को चुनिये।

PK : MN :: D Y : ?

A. DE B. BC C. AB D. WX ANS-2

Q37. Find the number of cube ?/ घनों की संख्या ज्ञात करे ?




A. 32 B. 31 C. 30 D. 45 ANS-3

Q38. Select the related number/word/letter from given alternatives./दिये गये विकल्पों में से सम्बन्धित संख्या/शब्द/अक्षर को चुनिये।

Brazil : South American :: Egypt : ? / ब्राजील : दक्षिण अमेरिका :: मिस्र : ?

A. Asian / एशियन B. Africa / अफ्रीका
C. Europe / यूरोप D. South America / दक्षिण-अमेरिका
ANS-2

Q39. Find the number of circle ?/ वृत्तों की संख्या ज्ञात करे ?



A. 10 B. 11 C. 08 D. 14 ANS-3

Q40. Which one of the given responses would be a meaningful order of the following?/ दिए गए प्रतिक्रियाओं में से कौन-सा निम्नलिखित का सार्थक क्रम होगा?

1. Irrigation 2. Dam 3. Glacier 4. River 5. Canal
1. सिंचाई 2. बांध 3. हिमनदी 4. नदी 5. नहर


A. 3,2,4,5,1 B. 3,4,2,1,5
C. 4,3,2,5,1 D. 3,4,2,5,1 ANS-4

Q41. Find the number of Square ?/वर्गों की संख्या ज्ञात करे ?



A. 06 B. 09 C. 10 D. 11 ANS-3

Q42. Find the number of Square ?/वर्गों की संख्या ज्ञात करे ?



A. 73 B. 75 C. 72 D. 60 ANS-2

