



SSC CHSL



REASONING

PREVIOUS YEAR PAPER

WITH BEST TRICKS



DAY-47

 Mahendra's

ENSURE YOUR SUCCESS WITH- **VIDEO GURU**



A COMPLETE VIDEO CLASS
FOR YOUR PREPARATION

Subscribe
BUTTON



BOOST YOUR PREPARATIONS WITH MAHENDRAS: STUDY MATERIAL, E-MICA, E-NEWS, BAGS & MUCH MORE. VISIT NOW: myshop.mahendras.c



पानी में तस्वीर बना सकते हो तुम
कलाम को शमशेर बना सकते हो तुम
कायर हैं जो तकदीर पे रोते हैं
जैसी चाहो वैसी तकदीर बना सकते हो तुम

 **Mahendra's**

ENSURE YOUR SUCCESS WITH- VIDEO GURU



A COMPLETE VIDEO CLASS
FOR YOUR PREPARATION

Subscribe
BUTTON



BOOST YOUR PREPARATIONS WITH MAHENDRAS: **STUDY MATERIAL, E-MICA, E-NEWS, BAGS & MUCH MORE.** VISIT NOW: myshop.mahendras.com



Mahendra'sTM



FOLLOW ME!

ATUL MAHENDRAS

[https://t.me/joinchat/AA
AAAEqDxL8VHQy...](https://t.me/joinchat/AA
AAAEqDxL8VHQy...)

 Mahendra's

ENSURE YOUR SUCCESS WITH- **VIDEO GURU**



A COMPLETE VIDEO CLASS
FOR YOUR PREPARATION


Subscribe
BUTTON



BOOST YOUR PREPARATIONS WITH MAHENDRAS: STUDY MATERIAL, E-MICA, E-NEWS, BAGS & MUCH MORE. VISIT NOW: myshop.mahendras.c

Find the number of triangles in the below figure?

नीचे दिए गए आंकड़े में त्रिभुजों की संख्या ज्ञात कीजिये?



(a) 5

✓ 6

(c) 7

(d) 8



If $436 = 3$, $783 = 8$

and $654 = 5$, then

$896 = ?$

$$(4 + 3 + 6) - 10 = 3$$

$$(7 + 8 + 3) - 10 = 8$$

$$(6 + 5 + 4) - 10 = 5$$

$$(8 + 9 + 6) - 10 = 13$$

(a) 5

(b) 8


✓ 13

(d) 6



How many squares are there in the given figure?

दी गई आकृति में कितने वर्ग हैं?



a. 10

b. 11

c. 12


✓ 14 से अधिक




Which one of the following diagrams represents the correct relation among life, death, time ?

निम्नलिखित में से कौन सा डायग्राम जीवन, मृत्यु, समय के सही संबंध को दर्शाता है?

1.



3.




4.



Find the number of triangles in the below figure?

नीचे दिए गए आंकड़े में त्रिभुजों की संख्या ज्ञात कीजिये?



(a) 12

(b) 11

✓ 10

(d) 09



Mahendra's

ENSURE YOUR SUCCESS WITH- VIDEO GURU



A COMPLETE VIDEO CLASS
FOR YOUR PREPARATION

Subscribe
BUTTON



BOOST YOUR PREPARATIONS WITH MAHENDRAS: STUDY MATERIAL, E-MICA, E-NEWS, BAGS & MUCH MORE. VISIT NOW: myshop.mahendras.c

Which one of the given responses would be a meaningful order of the following -
दी गई प्रतिक्रियाओं में से कौन सी निम्नलिखित में से एक सार्थक व्यवस्था होगी -


1. Dusk / शाम

2. Dawn / भोर

3. Noon / दोपहर

4. Night / रात

(a) 2,1,3,4

 **2,3,1,4**

(c) 1,2,3,4

(d) 3,1,2,4



Find out the odd word/letters/number/number pair from the given alternatives.
दिए गए विकल्पों में से विषम शब्द/वर्ण/संख्या का चयन करें



(a) Rhinoceros / गैंडा



Rabbit / खरगोश

(c) Blackbuck / काला हिरन

(d) Swamp deer / दलदल हिरण



Mahendra's

ENSURE YOUR SUCCESS WITH- VIDEO GURU



A COMPLETE VIDEO CLASS
FOR YOUR PREPARATION

Subscribe
BUTTON

BOOST YOUR PREPARATIONS WITH MAHENDRAS: STUDY MATERIAL, E-MICA, E-NEWS, BAGS & MUCH MORE. VISIT NOW: myshop.mahendras.com

Dravid is elder than Shangakara. Symonds is elder than Shangakara but younger than Dravid. Dhoni is younger than both Shangakara and Gautam but Gautam is younger than Shangakara. Who is the youngest?

द्रविड़ शांगकारा से बड़े हैं। साइमंड्स शंगकारा से बड़ा है लेकिन द्रविड़ से छोटा है। धोनी शंगकारा और गौतम दोनों से छोटे हैं लेकिन गौतम शंगकारा से छोटे हैं। सबसे छोटा कौन है?



- (a) Dravid / द्रविड़**
- (b) Shangakara / शंगकारा**
- (c) Symonds / साइमंड्स**
- ✓ Dhoni / धोनी**

If BEAT = 25 – 22 – 26 – 7 and

**RUST = 9 – 6 – 8 – 7, then how will you
code 'BURST' ?**



(a) 25 – 7 – 8 – 7 – 6

☒ 25 – 6 – 9 – 8 – 7

(c) 25 – 22 – 9 – 8 – 7

(d) 25 – 9 – 6 – 8 – 7

In a class of 50 students Mahesh rank is 32th from the left and Suresh rank is 38th from the right. How many students are sitting in between Mahesh and Suresh?

50 छात्रों की एक कक्षा में महेश रैंक से 32 वें और सुरेश रैंक दाएं से 38 वें स्थान पर हैं। महेश और सुरेश के बीच में कितने छात्र बैठे हैं?



(1) 19

(2) 20

✓ 18

(4) CND

(5) None of these



Select the option figure that will complete the series of question figure.

प्रश्न आकृति की श्रृंखला को पूरा करने वाले विकल्प का चयन करें।

4	5		7	4		6	7		
7	6		6	5		5	4		?



(a)

5	4
7	6

(b)

4	5
7	6



5	6
4	7

(d)

4	7
5	6



What day of the week will be on 31 May 2020?

31 मई 2020 को सप्ताह का कोन-सा दिन होगा ?



(A) Friday / शुक्रवार

(B) Saturday / शनिवार

(C) Thursday / ब्रहस्पतिवार

✓ Sunday / रविवार

Mahendra's

ENSURE YOUR SUCCESS WITH- VIDEO GURU



**A COMPLETE VIDEO CLASS
FOR YOUR PREPARATION**

**Subscribe
BUTTON**



BOOST YOUR PREPARATIONS WITH MAHENDRAS: STUDY MATERIAL, E-MICA, E-NEWS, BAGS & MUCH MORE. VISIT NOW: myshop.mahendras.c

If 15 (196) 29 and 16 (100) 6, then what is the value of 'A' in 31 (A) 48?

यदि 15 (196) 29 और 16 (100) 6 है, तो 31 (A) 48 में 'A' का मूल्य क्या है?

(a) 361

(b) 256

(c) 324

 289



Find the odd word/letters/number pair from the given alternatives.

दिए गए विकल्पों में से विषम शब्द / अक्षर / संख्या युग्म ज्ञात कीजिए।



- (a) **Swimming** / तैराकी
- (b) **Sailing** / जलयान
- (c) **Diving** / गोताखोरी
- ✓ **Driving** / ड्राइविंग

Mahendra's

ENSURE YOUR SUCCESS WITH- VIDEO GURU



A COMPLETE VIDEO CLASS
FOR YOUR PREPARATION

Subscribe
BUTTON



BOOST YOUR PREPARATIONS WITH MAHENDRAS: **STUDY MATERIAL, E-MICA, E-NEWS, BAGS & MUCH MORE.** VISIT NOW: myshop.mahendras.c

Pointing to lady , Rahul said , "she is the only daughter of my wife's grandfather's only child . How is lady related to the Rahul ?

महिला की ओर इशारा करते हुए राहुल ने कहा, " वह मेरी पत्नी के ग्रैंड फादर के एकलौते बच्चे की एकलौती पुत्री है। महिला , राहुल से कैसे सम्बंधित है ?



- (1) **Father** / पिता
- (2) **Daughter** / पुत्री
- ☒ (3) **Wife** / पत्नी
- (4) **Husband** / पति

Choose out the odd one -
निम्न में से विषम चुनें -



- a) **Curd / दही**
- b) **Butter / मक्खन**
- ☒ c) **Oil / तेल**
- d) **Cheese / पनीर**
- e) **Cream / क्रीम**

If 27 (15) 33 and 41 (13) 53, then what is the value of 'A' in 26 (A) 35?

यदि 27 (15) 33 और 41 (13) 53 है, तो 26 (A) 35 में 'A' का मान क्या है?

$$2 + 7 + 3 + 3 = 15$$

$$4 + 1 + 5 + 3 = 13$$

$$2 + 6 + 3 + 5 = 16$$

 16

(b) 13

(c) 14

(d) 11



Find out the odd word/letters/ number/number pair from the given alternatives.

दिए गए विकल्पों में से विषम शब्द/वर्ण/संख्या का चयन करें -



(a) A


(b) U

 T

(d) O

How many triangles and squares are there in the following figure?

निम्नलिखित आकृति में त्रिभुज और वर्ग की संख्या ज्ञात कीजिए?



a. 18, 06

b. 17, 08

 **18, 05**

d. 15, 10



 **Mahendra's**

ENSURE YOUR SUCCESS WITH- VIDEO GURU



A COMPLETE VIDEO CLASS
FOR YOUR PREPARATION

Subscribe
BUTTON



BOOST YOUR PREPARATIONS WITH MAHENDRAS: STUDY MATERIAL, E-MICA, E-NEWS, BAGS & MUCH MORE. VISIT NOW: myshop.mahendras.com

Choose out the odd one -

निम्न में से विषम चुनें -



- a) **Football** / फुटबॉल
- b) **Volleyball** / वॉलीबॉल
- c) **Cricket** / क्रिकेट
- ☒ **Chess** / शतरंज
- e) **Hockey** / हॉकी

In the following question, select the missing number from the given series.

निम्नलिखित प्रश्न में, दी गयी श्रृंखला में से अज्ञात संख्या का चयन करें

963	2	844
464	?	903



- ☒ 2
- b) 3
- c) 4
- d) 5



A series is given with one term missing. Choose the correct alternative from the given ones that will complete the series.

एक श्रृंखला दी गई है जिसमें एक टर्म अज्ञात है आपको दिए गए विकल्पों में से उस विकल्प का चयन करना है जो इस श्रृंखला को पूरा करेगा?

Inch, Decimeter, Foot, ?

इंच , डेसीमीटर , फुट , ?

(a) **Nanometer** / नैनोमीटर

(b) **Millimeter** / मिलीमीटर

(c) **Centimeter** / सेंटीमीटर

 **Meter** / मीटर



In the following question, select the odd word from the given alternatives.

निम्नलिखित प्रश्न में, दिए गए विकल्पों में से विषम शब्द का चयन करें।



- Cotton / कपास**
(b) Mustard / सरसों
(c) Peas / मटर
(d) Sesame / तिल

Mahendra's

ENSURE YOUR SUCCESS WITH- VIDEO GURU



A COMPLETE VIDEO CLASS
FOR YOUR PREPARATION

Subscribe
BUTTON

BOOST YOUR PREPARATIONS WITH MAHENDRAS: STUDY MATERIAL, E-MICA, E-NEWS, BAGS & MUCH MORE. VISIT NOW: myshop.mahendras.com

Choose out the odd one.

निम्न में से विषम चुनें -



- a) **Kanpur** / कानपुर
- b) **Allahabad** / इलाहाबाद
- c) **Varanasi** / वाराणसी
-  **Mathura** / मथुरा
- e) **Haridwar** / हरिद्वार

A boy running towards south turns to his right and runs away. Then he turns to his right and finally to his left. In which direction is he running now?

दक्षिण की ओर भाग रहा एक लड़का अपना दाईं ओर घूमता है और भागता है। फिर वह अपनी दाईं ओर और अंत में अपनी बाईं ओर घूमता है। अब वह किस दिशा में भाग रहा है ?



- (a) उत्तर / North**
- (b) पूर्व / East**
- (c) दक्षिण / South**
-  **पश्चिम / West**

Mohan, Ritika, Janvi, Priya and Riya are friends. Janvi runs faster than Ritika but slower than Priya. Mohan is the slowest runner and Riya runs faster than Priya. Who runs the fastest among the five?

मोहन, रितिका, जानवी, प्रिया और रिया दोस्त हैं। जानवी रितिका से तेज़ लेकिन प्रिया से धीमे दौड़ती है। मोहन सबसे धीमे दौड़ता है और रिया प्रिया से तेज दौड़ती है। पाँचों में सबसे तेज कौन दौड़ता है?



(a) Priya / प्रिया

✓ Riya / रिया

(c) Ritika / रितिका

(d) Mohan/ मोहन

In the following question, select the missing number from the given series.

निम्नलिखित प्रश्न में, दी गयी श्रृंखला में से अज्ञात संख्या का चयन करें



T	R	H
D	M	W
48	62	?

Sol. $20 + 4 = 24 \times 2 = 48$
 $18 + 13 = 31 \times 2 = 62$
 $8 + 23 = 31 \times 2 = 62$

(a) 70



62

(c) 64

(d) 68

Mahendra's

ENSURE YOUR SUCCESS WITH- VIDEO GURU



A COMPLETE VIDEO CLASS
FOR YOUR PREPARATION

**Subscribe
BUTTON**



BOOST YOUR PREPARATIONS WITH MAHENDRAS: STUDY MATERIAL, E-MICA, E-NEWS, BAGS & MUCH MORE. VISIT NOW: myshop.mahendras.com

If $33 + 44 = 24$

$$44 + 66 = 48$$

then $55 + 77 = ?$ **A. 48**

B. 60

C. 96

70



In each of the following questions, select the related letters / word / numbers /figure from the given alternatives.

निम्नलिखित प्रश्नों में से प्रत्येक में दिए गए विकल्पों में से सम्बन्धित शब्द/ अक्षरों/ संख्या/आकृति को चुनिए।

Water : Ice :: Lava : ?

पानी : बर्फ :: लावा : ?



Rock / चट्टान



Ash / राख

Flake / परत



Pebble / कंकड़

Mahendra's

ENSURE YOUR SUCCESS WITH- VIDEO GURU



A COMPLETE VIDEO CLASS
FOR YOUR PREPARATION

Subscribe
BUTTON

BOOST YOUR PREPARATIONS WITH MAHENDRAS: STUDY MATERIAL, E-MICA, E-NEWS, BAGS & MUCH MORE. VISIT NOW: myshop.mahendras.com

If $882 = 20$
and $996 = 26,$
then $729 = ?$

(a) 24

(b) 30

20

(d) 32



Mahendra's

ENSURE YOUR SUCCESS WITH- VIDEO GURU



A COMPLETE VIDEO CLASS
FOR YOUR PREPARATION

**Subscribe
BUTTON**

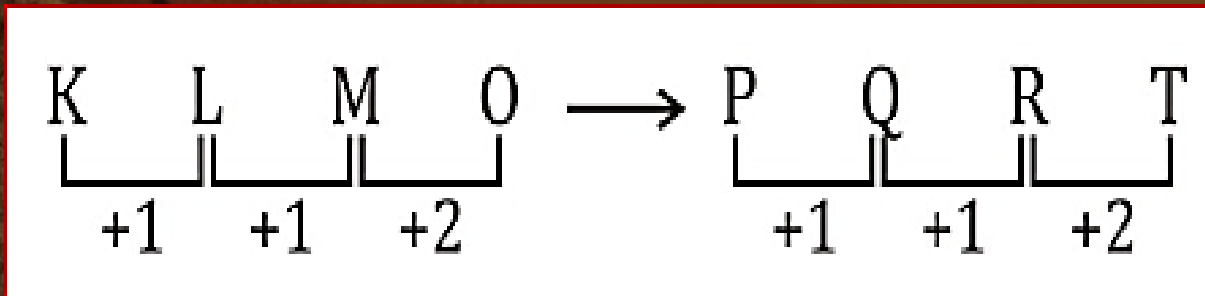


BOOST YOUR PREPARATIONS WITH MAHENDRAS: **STUDY MATERIAL, E-MICA, E-NEWS, BAGS & MUCH MORE.** VISIT NOW: myshop.mahendras.c

Which of the following follow the same pattern as :

निम्नलिखित में से कौन सा पैटर्न समान है:

K L M O



(a) E F G H


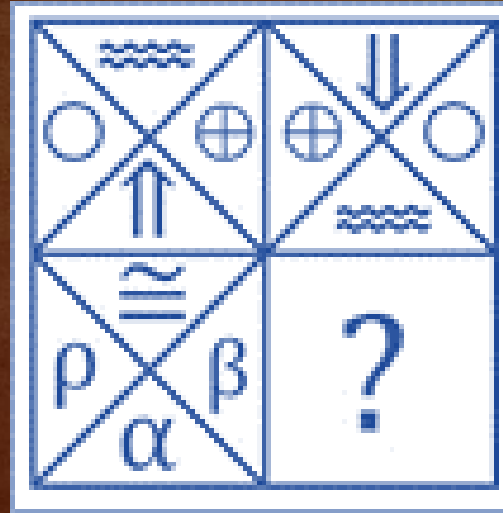
(b) W X Z A

 **P Q R T**

(d) L N P Q

Which answer figure will complete the pattern in the question figure ?


प्रश्न आकृति में कौन सी उत्तर आकृति पैटर्न को पूरा करेगी?



(c)



(b)



(d)

Mahendra's

ENSURE YOUR SUCCESS WITH- VIDEO GURU



A COMPLETE VIDEO CLASS
FOR YOUR PREPARATION

Subscribe
BUTTON

BOOST YOUR PREPARATIONS WITH MAHENDRAS: **STUDY MATERIAL, E-MICA, E-NEWS, BAGS & MUCH MORE.** VISIT NOW: myshop.mahendras.com

Select the word pair in which the two words are related in the same way as are the two words in the following word.

शब्द जोड़ी का चयन करें जिसमें दो शब्द उसी तरह से संबंधित हैं जैसे कि निम्नलिखित शब्द में दो शब्द हैं।

545 : 196 :: 173 : ?

Sol. $5 + 4 + 5 = 14$

$= 14^2 = 196$

$1 + 7 + 3 = 11$

$= 11^2 = 121$

(a) 72



121

(c) 84

(d) 41

Mahendra's

ENSURE YOUR SUCCESS WITH- VIDEO GURU



**A COMPLETE VIDEO CLASS
FOR YOUR PREPARATION**

**Subscribe
BUTTON**



BOOST YOUR PREPARATIONS WITH MAHENDRAS: STUDY MATERIAL, E-MICA, E-NEWS, BAGS & MUCH MORE. VISIT NOW: myshop.mahendras.com

If $1 \$ 9 \& 5 = 14$

and $2 \& 4 \$ 3 = -41$,

then $7 \$ 9 \& 9 = ?$



(a) 72



70

(c) 68

(d) 64

$$19 - 5 = 14$$

$$2 - 43 = -41$$

$$79 - 9 = 70$$



If $1 \times 3 \times 5 = 1925$

and $7 \times 9 \times 11 = 4981121$,

then find the value of $19 \times 21 \times 23 = ?$



(a) 361529441

(b) 361441289

(c) 441361289



361441529

 Mahendra's

ENSURE YOUR SUCCESS WITH- VIDEO GURU



A COMPLETE VIDEO CLASS
FOR YOUR PREPARATION

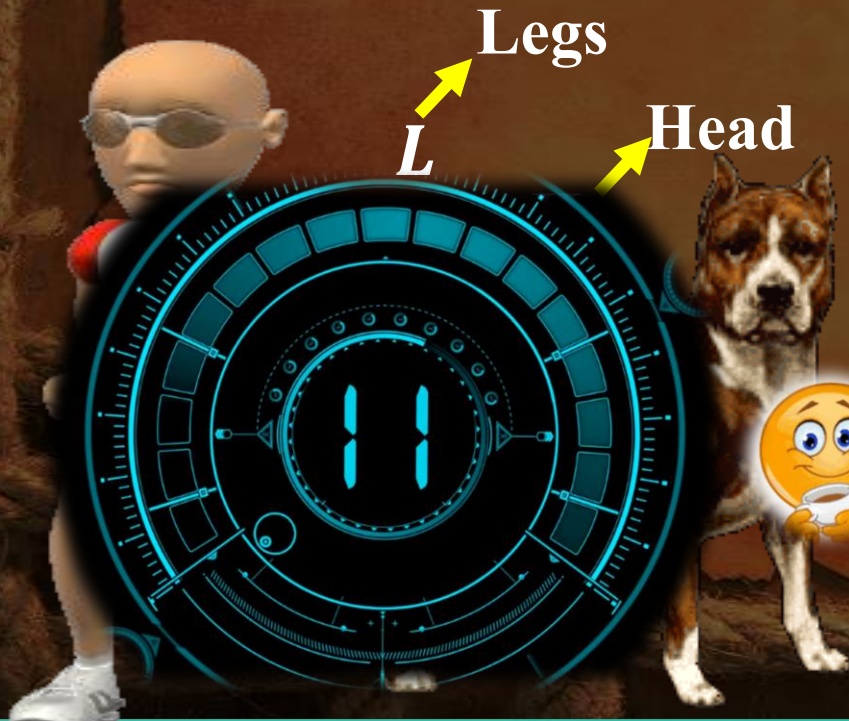
Subscribe
BUTTON



BOOST YOUR PREPARATIONS WITH MAHENDRAS: STUDY MATERIAL, E-MICA, E-NEWS, BAGS & MUCH MORE. VISIT NOW: myshop.mahendras.c

एक जगह पर कुछ लड़के और कुत्ते हैं। यदि सिर की कुल संख्या 7 है और पैरों की कुल संख्या 20 है, तो कितने लड़के और कितने कुत्ते हैं?

There are some boys and dogs at a place. If total number of heads is 7 and total number of legs is 20, how many boys and how many dogs are there?



- (a) **5 boys and 7 dogs** / 5 लड़के और 7 कुत्ते
- (b) **4 boys and 2 dogs** / 4 लड़के और 2 कुत्ते
- (c) **4 boys and 3 dogs** / 4 लड़के और 3 कुत्ते
- (d) **10 boys and 1 dogs** / 10 लड़के और 1 कुत्ते

Find the missing number from the given alternatives:

दिए गए विकल्पों में से लुप्त संख्या ज्ञात कीजिए:



AZ	BY	CX
DW	EV	FU
GT	?	IR

(a) HR



HS

(c) HV

(d) HU

Mahendra's

ENSURE YOUR SUCCESS WITH- VIDEO GURU



A COMPLETE VIDEO CLASS
FOR YOUR PREPARATION

**Subscribe
BUTTON**



BOOST YOUR PREPARATIONS WITH MAHENDRAS: STUDY MATERIAL, E-MICA, E-NEWS, BAGS & MUCH MORE. VISIT NOW: myshop.mahendras.com

A man walked 9 km towards East and then 12 km towards South. How far is he from the starting point?

एक आदमी 9 किमी पूर्व की ओर और फिर 12 किमी दक्षिण की ओर चला गया। वह शुरुआती बिंदु से कितनी दूर है?



9km East



12km South

(a) 8 km

(b) 21km



15 km

(d) 7.5 km



If NO = 210
and AAP = 16,
then CAP = ?

(a) 50

(b) 200



48

(d) 240



Mahendra's

ENSURE YOUR SUCCESS WITH- VIDEO GURU



**A COMPLETE VIDEO CLASS
FOR YOUR PREPARATION**

**Subscribe
BUTTON**



BOOST YOUR PREPARATIONS WITH MAHENDRAS: STUDY MATERIAL, E-MICA, E-NEWS, BAGS & MUCH MORE. VISIT NOW: myshop.mahendras.com

 Mahendra's

ENSURE YOUR SUCCESS WITH- **VIDEO GURU**



A COMPLETE VIDEO CLASS
FOR YOUR PREPARATION

Subscribe
BUTTON



BOOST YOUR PREPARATIONS WITH MAHENDRAS: **STUDY MATERIAL, E-MICA, E-NEWS, BAGS & MUCH MORE.** VISIT NOW: myshop.mahendras.com