



Mahendra's



SSC CGL 2019

MATHS

DISCOUNT

MODERATE

TO

HIGH LEVEL

WITH TRICKS

DAY 11



Mahendra's

ENSURE YOUR SUCCESS WITH- **VIDEO GURU**



A COMPLETE VIDEO CLASS
FOR YOUR PREPARATION

Subscribe
BUTTON



BOOST YOUR PREPARATIONS WITH MAHENDRAS: STUDY MATERIAL, E-MICA, E-NEWS, BAGS & MUCH MORE. VISIT NOW: myshop.mahendras.com

JOIN THE TELEGRAM CHANNEL FOR QUESTIONS AND PDF

PRABAL MAHENDRAS

<https://t.me/joinchat/AAAAAEijN973c9BzXbEc3w>

**DAILY CLASS
TIME 9 AM**



LINK IN THE DESCRIPTION OF VIDEO

A single discount equivalent to three successive discounts of $22\frac{2}{9}\%$, $14\frac{2}{7}\%$, 6.25% is ?

$22\frac{2}{9}\%$, $14\frac{2}{7}\%$, 6.25% के तीन क्रमिक छूट के बराबर एक एकल छूट है?

SSC CGL

A) 35


B) 31.25

C) 37.5

D) 33.33

DAILY CLASS

TIME 9 AM



Three equal Successive discount % allows on an article affects as an single discount of 78.4 %, Find the each equal discount % ?

CGL 2018

एक वस्तु पर तीन बराबर क्रमिक छूट देने के बाद 78.4% की एकल छूट के रूप में प्राप्त होती है , प्रत्येक समान छूट% ज्ञात करें?

A) 38.3%


B) 33.3%

C) 44.44%

D) 40 %

DAILY CLASS


TIME 9 AM



A 1000 Rs box of cookies is offered at 10% discount and Rs 400 bar of chocolate is at 8 % discount , If we buy 2 box cookies and 3 bar of chocolate What is the effective discount we get in % ?

CGL MAINS 2017

कुकीज का 1000 रु का बॉक्स 10% छूट पर और चॉकलेट का 400 रु का बार 8 % छूट पर दिया जाता है, अगर हम 2 बॉक्स कुकीज़ और 3 बार चॉकलेट खरीदते हैं तो हमें% में क्या प्रभावी छूट मिलती है?



A) 9

B) 8.5

C) 9.25

D) 8.75

DAILY CLASS

TIME 9 AM

If 60 % of the discount is offered on the Marked Price and Selling Price is equal to the Cost Price then what was the percentage Mark up ?

यदि अंकित मूल्य पर 60 % की छूट दी गई है और विक्रय मूल्य लागत मूल्य के बराबर है तो कितने प्रतिशत अंकित मूल्य को बढ़ाया गया ?

CGL 2018


A) 100

B) 150

C) 250

D) 40

**DAILY CLASS
TIME 9 AM**



The cost price of an article is x . It is Marked up by 120 % , If it is sold at Rs 8800 after giving 20% discount . What is the value of x (in Rs) ?

एक लेख की लागत मूल्य x है। इसे 120% तक चिह्नित किया जाता है, यदि 20% छूट देने के बाद इसे 8800 रुपये में बेचा जाता है। X का मूल्य (रु में) क्या है?

CGL 2017

A) 5000

B) 6000

C) 6680

D) 7680




**DAILY CLASS
TIME 9 AM**

Cost price of 12 balls is equal to the selling price of 9 balls and discount on 10 balls is equal to profit on 5 balls Find the difference between Profit % and Discount % ?

CGL 2018

12 गेंदों की लागत मूल्य 9 गेंदों की बिक्री मूल्य के बराबर है और 10 गेंदों पर छूट 5 गेंदों पर लाभ के बराबर है। लाभ% और छूट% के बीच अंतर ज्ञात करें?




- A) 20%**
- B) 15%**
- C) 16.6%**
- D) 22.2%**

DAILY CLASS
TIME 9 AM

A dishonest trader marks his goods by 80 % and gives 25% discount besides he get 20% more from wholeseller and sells 10% less per kg to customer
What is the overall Profit% ?

CGL MAINS 2017

एक बेईमान व्यापारी अपने माल को 80% तक चिह्नित करता है और 25% की छूट देता है इसके अलावा वह व्हेलर से 20% अधिक प्राप्त करता है और ग्राहक को 10% प्रति किलो बेचता है जो समग्र लाभ% है?



A) 80

B) 60

C) 70

D) 65

DAILY CLASS
TIME 9 AM

After giving 20 % discount A man still gains 10 % profit then Find the ratio of Cost price and marked price ?

20% छूट देने के बाद एक आदमी अभी भी 10% लाभ प्राप्त करता है तो लागत मूल्य और चिह्नित मूल्य का अनुपात ज्ञात करें?

CGL 2011

A) 11:8

B) 8:11

C) 3:11

D) 11:4

DAILY CLASS

TIME 9 AM



A shopkeeper gives 2 items free on purchase of every 8 items and also allows a discount of 25 % Find the final discount percent the customer get ?

एक दुकानदार हर 8 वस्तुओं की खरीद पर 2 आइटम मुफ्त देता है और 25% की छूट भी देता है ग्राहक को मिलने वाली अंतिम छूट प्रतिशत का पता लगाएं?


EXPECTED

A) 400

B) 40

C) 4

D) 15




**DAILY CLASS
TIME 9 AM**

A shopkeeper gives 4 articles free on purchase of 12 articles and also allows a discount of 20% and still gains 20% profit Find the ratio of CP:MP ?

एक दुकानदार 12 वस्तुओं की खरीद पर 4 वस्तुओं मुफ्त देता है और 20% की छूट भी देता है और 20% लाभ प्राप्त करता है CP: MP का अनुपात ज्ञात करें?

**EXPECTED IN
2019**



A) 2:1

B) 1:3

C) 1:2

D) 3:1

DAILY CLASS

TIME 9 AM

A Medicine merchant marks his goods at Rs. 300 and allows a discount 25%. If he still gains 12.5%, then the cost price of article is:

एक मेडिसिन व्यापारी अपने माल को 300 रु पर अंकित करता है और छूट 25% की छूट देता है। यदि वह फिर भी 12.5% लाभ प्राप्त करता है, तो वस्तु का क्रय मूल्य क्या है?

CHSL 2018

A) 200

B) 220

C) 240

D) 260

DAILY CLASS
TIME 9 AM



The marked price of a radio is Rs. 4,800. The shopkeeper allows a discount of 10% and gains 8%. If no discount is allowed, his gain percent will be

एक रेडियो की चिह्नित कीमत रु 4,800 है दुकानदार 10% की छूट देता है और 8% लाभ हासिल करता है। यदि कोई छूट नहीं दी जाती है, तो उसका लाभ प्रतिशत होगा

CGL 2015

A) 18

B) 20

C) 22

D) 25




DAILY CLASS
TIME 9 AM

An article was sold at a profit of 14% Had it been sold at 121 Rs less then he suffers a loss of 8 % If the same article is sold for 536.25 then, Profit/loss % is :
एक वस्तु 14% के लाभ पर बेचा गया था। इसे 121 रुपये कम में बेचा गया था, तो उसे 8% का नुकसान हुआ। यदि उसी वस्तु को 536.25 पर बेचा जाता है, तो लाभ / हानि% है:

**CGL MAINS
2018**

- A) loss 5%**
- B) profit 2.5%**
- C) loss 2.5%**
- D) profit 5%**



**DAILY CLASS
TIME 9 AM**

An article is sold at certain price .If it is sold at 80 % of this price then there is a loss of 10 % . What is the profit % When it is sold at the original selling price ?

एक वस्तु निश्चित मूल्य पर बेचा जाता है। यदि यह इस मूल्य के 80% पर बेचा जाता है तो 10% की हानि होती है। मूल विक्रय मूल्य पर बेचे जाने पर क्या लाभ% है?

**CGL MAINS
2018**

A) 12

B) 15

C) 12.5

D) 15.5

**DAILY CLASS
TIME 9 AM**





Sangeeta verma 19 hours ago
 Ans1.-----2.5%loss
 Ans2.-----12.5%profit
 Nice questions sir....

2 REPLY

[View 2 replies](#)



Mohit Bansal 20 hours ago
 Answers are
 C) Loss of 2.5%
 B) 15%

REPLY



Dhurv Tomar 20 hours ago
 Answers are
 C) 12.5
 C) loss of 2.5%

REPLY



UP61 Gāmērs 20 hours ago
 homework Q1
 ans.C



RAMA KUMARI 15 hours ago
 Home work Ans- 1) 2.5% loss
 -2) 12.5

REPLY



Abhishek Mishra 13 hours ago
 1. 2.5 % of loss
 2. 12.5 % of Profit

REPLY



kinsu rai 13 hours ago
 Q2 12.5

REPLY



Monica Sharma 17 hours ago
 Option C 12.5%

REPLY



Rahul Gomase 19 hours ago
 Home work answer
 1-2.5 % loss
 2- skip

1 REPLY



anand patel 20 hours ago
 Answer
 A-2.5% loss
 B-15%profit

1 REPLY



Kishore Bera 20 hours ago
 Home work answer
 1. 2.5% loss
 2. 12.5% profit



Mr. Vivek Bhatt 18 hours ago
 Homework Q. 1- 2.75 loss
 Q. 2- skip, app bataiye

REPLY

[View reply](#)



Harsh Rajput 14 hours ago
 Q1 2.5% loss
 Q2 12.5% Profit

REPLY



Shulman Gupta 7 hours ago
 1 2.5
 2 12.5

REPLY



Khiladi Nilesh Yadav 19 hours ago
 thanks sir




Manohar Naidu 19 hours ago
 1st. 2.5% loss
 2nd. 12.5

1 REPLY



lakhan shaktawat 20 hours ago
 12. 5 ans

1 REPLY



Sangha Priyo Hazra 8 hours ago
 Home Work
 1-Skip
 2- 12.5

REPLY



Manjeet Swami 12 hours ago
 1)2.5%loss
 2)12.5%profit

REPLY



Anurag Singh 8 hours ago
 2.5%loss
 12.5%profit

REPLY



ANAND KUMAR 17 hours ago
 Q1 2.5%loss
 Q2 12.5 profit



Vishu Gupta*** 20 hours ago
 Ans
 1-2.5% profit
 2-15%

REPLY



amarjeet yadav 19 hours ago
 My Answer
 C_ 12.5
 And next
 2.5



Intiaz Ahemed 19 hours ago
 2.5
 12.5

1 REPLY



sparsh srivastva 12 hours ago (edited)
 2.5% loss
 12.5

2 REPLY



shubham madaan 18 hours ago
 1-LOSS 2.5%
 2-12.5

1 REPLY



neelu yadav 13 hours ago
 Home work answer-
 1).2.5%loss
 2).12.5%profit
 Thanks sir

1 REPLY



Punam Sangwan 14 hours ago
 Home work answer
 1 2.5% loss
 2 12.5

1 REPLY



Ravi prajapati 9 hours ago
 A.....2.5%
 B.....12.5%
 Jay shri krishna sir

A merchant makes a profit of 20% by selling an article. What would be the percentage change in the profit percent had he paid 10% less for it and the customer paid 20% more for it? एक व्यापारी एक वस्तु को बेचकर 20% का लाभ कमाता है। लाभ प्रतिशत में प्रतिशत परिवर्तन क्या होगा उन्होंने इसके लिए 10% कम भुगतान किया था और ग्राहक ने इसके लिए 20% अधिक भुगतान किया?

CGL 2008

HOME WORK



A) 120%

B) 125%

C) 200%

D) 150%

**DAILY CLASS
TIME 9 AM**



Mahendra's



SSC CHSL 2019

MATHS

**INTRODUCTION
&
STRATEGY**

TO CRACK

DAY

1

CHSL EXAM





Mahendra's



SSC CGL 2019

REASONING

LIVE TEST

CLOCK
ANALOGY
CLASSIFICATION
MISSING

DAY 14



Mahendra's



RAILWAY NTPC/GROUP D

REASONING

NTPC का
मरा

SHOW

CLOCK
CLASSIFICATION
FIGURES
ANALOGY

DAY 16



 Mahendra's

ENSURE YOUR SUCCESS WITH- **VIDEO GURU**



A COMPLETE VIDEO CLASS
FOR YOUR PREPARATION

Subscribe
BUTTON



BOOST YOUR PREPARATIONS WITH MAHENDRAS: **STUDY MATERIAL, E-MICA, E-NEWS, BAGS & MUCH MORE.** VISIT NOW: [myshop.mahendras.c](http://myshop.mahendras.com)