





Mahendra's



LIVE


रेलवे GROUP- D परीक्षा

Live Test - 05

इससे बाहर कुछ नहीं

REASONING | 2:00 PM







For Your Any Type of Reasoning Related Queries Join
Telegram Channel:

Reasoning by Jaishri
Jaishri Mahendras Reasoning

Get Additional **10%** Discount On All Products &
Services of Mahendras

Use Code : **E07637**



- Order ranking
- Coding decoding
- Analogy
- Word formation
- Figure counting
- Number series
- Blood relation
- Cube
- Dice
- Statement and conclusion
- Classification
- Statement and argument
- Venn diagram
- Word formation
- Missing character
- Alphabetical series
- Calendar
- Clock
- Syllogism



Akhil is the maternal uncle of Rashmi. Ramesh is the father of Rashmi. How is Ramesh related to Akhil?

अखिल रश्मि का मामा है। रमेश रश्मि का पिता है। रमेश का अखिल से क्या संबंध है?



- A. Brother-in-law / बहनोई
- B. Brother / भाई
- C. Father / पिता
- D. Cousin / चचेरे भाई



Telegram link- @Reasoning by Jaishri

In a certain code language, "FAILURE" is written as "FRULIAG".
How is "SUCCESS" written in that code language?

एक निश्चित कोड भाषा में, "FAILURE" को "FRULIAG" लिखा जाता है। उस कोड भाषा में "SUCCESS" कैसे लिखा जाता है?

- (a) TSECCUT
- (b) SSECCUS
- (c) TSECCUS
- (d) TSECCUU





Telegram link- @Reasoning by Jaishri

Directions: In the following questions, find the missing/ number/ letters/figure from the given responses.

निर्देश: निम्नलिखित प्रश्नों में, दिए गए जवाबों से लापता / संख्या / अक्षर / आकृति ज्ञात कीजिए।

15, 16, 19, 20, 23, 24, ?

- A. 23
- B. 24
- C. 25
- D. 27



If "A" denotes "added to", "B" denotes "divided by", "C" denotes "multiplied by" and "D" denotes "subtracted from", then

154 B 11 C 6 A 6 D 27 = ?

यदि "A" को "जोड़ा जाता है", "B" को "से विभाजित", "C" से "गुणा" से और "D" से "घटाया" से दर्शाया जाए, तो

154 B 11 C 6 A 6 D 27 = ?



- (a) 60
- (b) 63
- (c) 33
- (d) 64



Telegram link- @Reasoning by Jaishri

Which set of letters when sequentially placed at the gaps in the given letter series shall complete it?

अनुक्रमिक रूप से दिए गए पत्र श्रृंखला में अंतराल पर रखे जाने पर अक्षरों का कौन सा सेट इसे पूरा करेगा?

s _ r _ t _ s _ r



- (a) trts
- (b) rtst
- (c) trst
- (d) tsss



Telegram link- @Reasoning by Jaishri

Directions: In the following questions, find the missing/ number/ letters/figure from the given responses.

निर्देश: निम्नलिखित प्रश्नों में, दिए गए जवाबों से लापता / संख्या / अक्षर / आकृति ज्ञात कीजिए।

88, 22, 25, 5, 9, $3/2$, ?



- (a) $10/2$
- (b) $13/2$
- (c) 6
- (d) 12



A 'Square' is related to 'Cube' in the same way as a 'Circle' is related to ...?

'स्क्वायर' का संबंध 'क्यूब' से उसी तरह है जैसे 'सर्कल' का संबंध ... से है?

- A. Sphere / गोला क्षेत्र
- B. Circumference / परिधि
- C. Diameter / व्यास
- D. Area / क्षेत्रफल





Telegram link- @Reasoning by Jaishri

Arrange the given words in the sequence in which they occur in the dictionary.

दिए गए शब्दों को उस क्रम में व्यवस्थित करें जिसमें वे शब्दकोश में होते हैं।

- i. Amateur
- ii. Abominable
- iii. Amalgamable
- iv. Accumulate

- (a) ii, i, iv, iii
- (b) iii, iv, ii, i
- (c) ii, iv, i, iii
- (d) ii, iv, iii, i





Telegram link- @Reasoning by Jaishri

Directions: In the following questions, find the missing/ number/ letters/figure from the given responses.

निर्देश: निम्नलिखित प्रश्नों में, दिए गए जवाबों से लापता / संख्या / अक्षर / आकृति ज्ञात कीजिए।

2, 8, 14, 24, 34, 48, ?

A. 34

B. 56

C. 87

D. 62



Directions: In the following questions, find the missing/ number/ letters/figure from the given responses.

निर्देश: निम्नलिखित प्रश्नों में, दिए गए जवाबों से लापता / संख्या / अक्षर / आकृति ज्ञात कीजिए।

Jailor : Prison :: curator : ?

जेलर : जेल :: क्यूरेटर : ?



(d) Cell / सेल

(b) Museum / संग्रहालय

(c) Warden / वार्डन

(d) Cure / इलाज



Statement

- (I) Some children are adults. कुछ बच्चे वयस्क हैं।
(II) Some adults are old. कुछ वयस्क बूढ़े हैं।

निष्कर्ष:- Conclusion :

- (I) Some children are not old. कुछ बच्चे बूढ़े नहीं हैं।
(II) Some adults are not old. कुछ वयस्क बूढ़े नहीं होते हैं।

- (a) Conclusion I follows
(b) Conclusion II follows
(c) Neither I nor II follows
(d) Both I and II follows



Telegram link- @Reasoning by Jaishri

If 21 (49) 14 and 159 (169) 146, then what is the value of 'A' in 56 (A) 44?

- (a) 144
- (b) 121
- (c) 225
- (d) 256





Telegram link- @Reasoning by Jaishri

In a certain code language, "BALL" is written as "27" and "CANE" is written as "23". How is "YELL" written in that code language?

एक निश्चित कोड भाषा में, "BALL" को "27" और "CANE" को "23" लिखा जाता है। उस कोड भाषा में "YELL" कैसे लिखा जाता है?

- (a) 50
- (b) 39
- (c) 54
- (d) 61





Telegram link- @Reasoning by Jaishri

In the following question, select the word which cannot be formed using the letters of the given word.

निम्नलिखित प्रश्न में, उस शब्द का चयन करें जिसे दिए गए शब्द के अक्षरों का उपयोग करके नहीं बनाया जा सकता है।

Precipitation



- (a) Reaction
- (b) Patient
- (c) Reacts
- (d) Petition



Telegram link- @Reasoning by Jaishri

Directions: In the following questions, find the missing/ number/ letters/figure from the given responses.

निर्देश: निम्नलिखित प्रश्नों में, दिए गए जवाबों से लापता / संख्या / अक्षर / आकृति ज्ञात कीजिए।

12, 21, 23, 32, 34, ?

- A. 34
- B. 43
- C. 26
- D. 28



Telegram link- @Reasoning by Jaishri

The speed of Duronto is more than the speed of Rajdhani.
Shatabdi moves faster than Garib Rath but slower than Rajdhani.
Which one is the slowest?

दुरंतो की गति राजधानी की गति से अधिक है। शताब्दी गरीब रथ से तेज चलती है लेकिन राजधानी से धीमी है। कौन सा सबसे धीमा है?



- (a) Garib Rath
- (b) Shatabdi
- (c) Rajdhani
- (d) Duranto



Directions: In the following questions, find the missing/
number/ letters/figure from the given responses.

निर्देश: निम्नलिखित प्रश्नों में, दिए गए जवाबों से लापता /
संख्या / अक्षर / आकृति ज्ञात कीजिए।

- A. 14
- B. 29
- C. 27
- D. 31

?	113	161
2	7	6
3	4	5





Telegram link- @Reasoning by Jaishri

What was the day of the week on 28th may 2006?

28 मई 2006 को सप्ताह का कौन सा दिन था?



- (A) Sunday /रविवार
- (B) Friday /शुक्रवार
- (C) Thursday / गुरुवार
- (D) Tuesday / मंगलवार

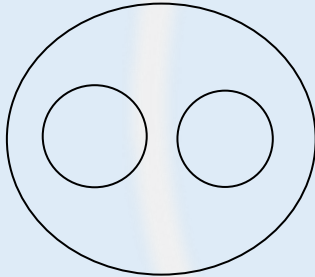


Telegram link- @Reasoning by Jaishri


Which of the following diagrams indicates the best relation between medical Father, husband and male?

निम्नलिखित में से कौन सा चित्र पिता, पति और पुरुष उपकरण के बीच संबंध को इंगित करता है?

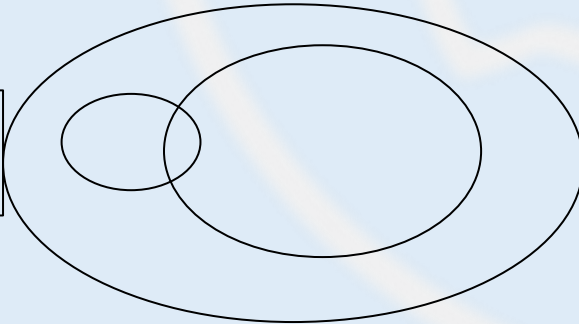
A.




B.



C.



D.





Telegram link- @Reasoning by Jaishri

Directions: In the following questions, find the missing/ number/ letters/figure from the given responses.

निर्देश: निम्नलिखित प्रश्नों में, दिए गए जवाबों से लापता / संख्या / अक्षर / आकृति ज्ञात कीजिए।

How?

9, 27, 31, 155, 161, 1127, ?

- A. 1228
- B. 316
- C. 2254
- D. 1135



For Your Any Type of Reasoning Related Queries Join
Telegram Channel:

Reasoning by Jaishri
Jaishri Mahendras Reasoning

Get Additional **10%** Discount On All Products &
Services of Mahendras

Use Code : **E07637**



