



Mahendra's



LIVE

रेलवे GROUP- D परीक्षा

Live Test - 04

इससे बाहर कुछ नहीं

REASONING | 2:00 PM





For Your Any Type of Reasoning Related Queries Join
Telegram Channel:

Reasoning by Jaishri
Jaishri Mahendras Reasoning

Get Additional **10%** Discount On All Products &
Services of Mahendras

Use Code : **E07637**



- Order ranking
- Coding decoding
- Analogy
- Word formation
- Figure counting
- Number series
- Blood relation
- Cube
- Dice
- Statement and conclusion
- Classification
- Statement and argument
- Venn diagram
- Word formation
- Missing character
- Alphabetical series
- Calendar
- Clock
- Syllogism



यदि अंग्रेजी वर्णमाला से सभी स्वर हटा दिए जाते हैं, तो वर्णमाला की नई श्रृंखला में 15वें स्थान पर क्या आएगा?

If all vowels from the English alphabet (vowel) Are removed, then the new series of the alphabet What will come in 15th place?

- (A) letter O / अक्षर O
- (B) letter R / अक्षर R
- (C) letter S / अक्षर S
- (D) letter T / अक्षर T





Statements:

$$A = B < C; B > D; D > E$$

Conclusions:

I. $D < C$

II. $A > E$

- a. Only conclusions I is true.
- b. Only conclusions II is true.
- c. Either conclusions I or II is true.
- d. Neither conclusions I nor II is true.
- e. Both conclusions I and II are true.





Directions: In the following questions, find the missing/ number/ letters/figure from the given responses.

निर्देश: निम्नलिखित प्रश्नों में, दिए गए जवाबों से लापता / संख्या / अक्षर / आकृति ज्ञात कीजिए।



Mouse : Click :: Keyboard : ?

माउस : क्लिक करें :: कीबोर्ड : ?

- A. Point**
- B. Scroll**
- C. Type**
- D. Create**



Statements:/ कथन:

Some sky are banana. / कुछ आकाश केले हैं

All bananas are drop. / सभी केले ड्रॉप हैं।

Some drops are limit. / कुछ ड्रॉप सीमा हैं

Conclusions:/निष्कर्ष:

I. All limit can never be sky./

सभी सीमा कभी भी आकाश नहीं हो सकतीं

II. Some drops are sky. / कुछ ड्रॉप आकाश हैं

III. No limit is sky. / कोई सीमा आकाश नहीं है

(a) Only I follows / केवल I अनुसरण करता है

(b) Only II follows / केवल II अनुसरण करता है

(c) Only I and II follow / केवल I और II अनुसरण करता है

(d) Only III follows / केवल III अनुसरण करता है





Directions: In the following questions, find the missing/ number/ letters/figure from the given responses.

निर्देश: निम्नलिखित प्रश्नों में, दिए गए जवाबों से लापता / संख्या / अक्षर / आकृति ज्ञात कीजिए।



51, 44, 49, 42, 47, 40, 45, ?

- A. 34**
- B. 38**
- C. 78**
- D. 45**



Directions: In the following questions, find the missing/ number/ letters/figure from the given responses.

निर्देश: निम्नलिखित प्रश्नों में, दिए गए जवाबों से लापता / संख्या / अक्षर / आकृति ज्ञात कीजिए।



DW, GT, JQ, MN, PK, SH, ?

- A. UF**
- B. UE**
- C. VE**
- D. VF**



Directions: In the following questions, find the missing/ number/ letters/figure from the given responses.

निर्देश: निम्नलिखित प्रश्नों में, दिए गए जवाबों से लापता / संख्या / अक्षर / आकृति ज्ञात कीजिए।



- A. Rhombus / समचतुर्भुज
- B. Cone / शंकु
- C. Square / वर्ग
- D. Parallelogram / चतुर्भुज



Q. If SAVING is coded as RCXHPI, how is INCOME coded in that code ?

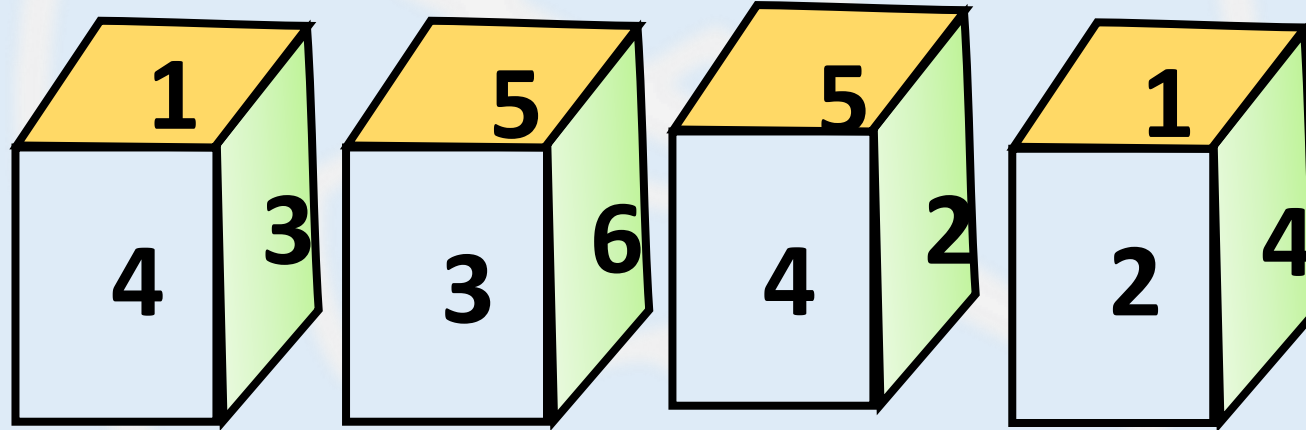
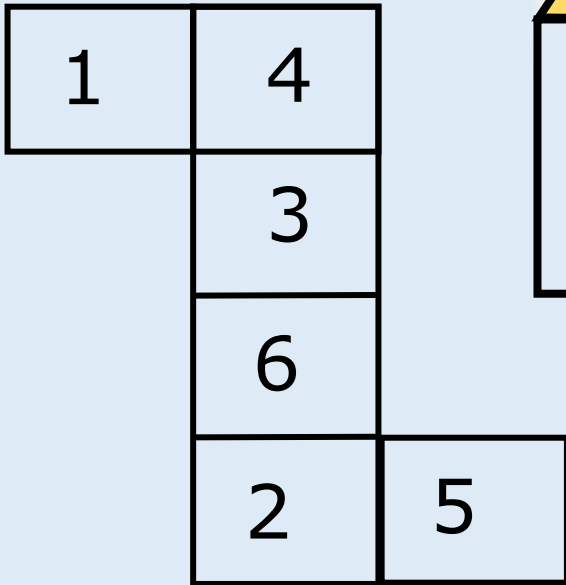
प्र. एक निश्चित कूट भाषा में, SAVING को RCXHPI लिखा जाता है तो INCOME को उसी कूट भाषा में क्या लिखा जायेगा ?

- A. HPENOH
- B. HPEZEY
- C. HPENOG
- D. HPEZDG



The figure given on the left-hand side in each of the following questions is folded to form a box. Choose from the alternatives (1), (2), (3) and (4) the boxes that is like the box formed.

निम्नलिखित में से प्रत्येक प्रश्न में बाएं हाथ की ओर दिए गए चित्र को बंद करने पर एक घन बनता है। विकल्प (1), (2), (3) और (4) चित्र से बने विकल्प को चुनें?





A man leaves his home and walks 10 km towards East. He then turns right and walks for another 5 km. He then turns 180° and walks for 10 km. Finally, he turns left and walks for 10 km. How far is he from his starting position?

एक आदमी अपना घर छोड़ता है और 10 किमी पूर्व की ओर चलता है। वह फिर दायें मुड़ता है और 5 किमी तक चलता है। वह फिर 180° मुड़ता है और 10 किमी तक चलता है। अंत में, वह बाएं मुड़ता है और 10 किमी तक चलता है। वह अपनी प्रारंभिक स्थिति से कितनी दूर है?

- (A) 0 km
- (B) 5 km
- (C) 10 km
- (D) 15 km





Directions: In the following questions, find the missing/ number/ letters/figure from the given responses.

निर्देश: निम्नलिखित प्रश्नों में, दिए गए जवाबों से लापता / संख्या / अक्षर / आकृति ज्ञात कीजिए।



AC, DG, HM, NU, VG, HU, ?

- A. UN
- B. UM
- C. VM
- D. VN



A is the husband of B and C is the son of A. D and E are the children of F, who is the daughter-in-law of A and B. What is the relation between C and F?

A, B का पति है और C, A का पुत्र है। D और E, F की संतान है, A और B की बहू कौन है, C और F के बीच क्या संबंध है?

(A) C has two sisters, one elder to him and the second one younger to him.
/ C की दो बहनें हैं, एक उससे बड़ी और दूसरी उससे छोटी।

(B) C is the only son of his parents. /
C अपने माता-पिता का इकलौता बेटा है।

(C) D is the brother of E. / D, E का भाई है।

(D) E is the sister of D. / E, D की बहन है।





यदि अंग्रेजी वर्णमाला में अभाज्य संख्या की स्थान पर आने वाले सभी अक्षरों को हटा दिया जाता है, तो वर्णमाला की नई श्रृंखला में 11वें स्थान पर क्या आएगा?

If the prime number in the English alphabet Removed all incoming characters Goes, the 11th in the new series of the alphabet What will come at the place?

- (A) letter P / अक्षर P
- (B) letter R / अक्षर R
- (C) Letter S / अक्षर S
- (D) letter T / अक्षर T



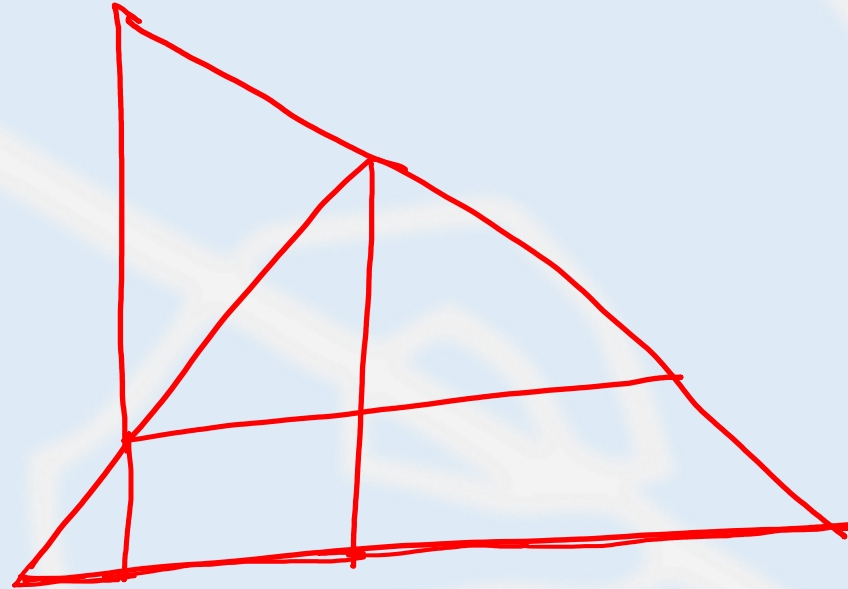


Find number of triangle in figure?

आकृति में त्रिभुज की संख्या ज्ञात करे?



- (A) 15
- (B) 10
- (C) 17
- (D) 18





Directions: In the following questions, find the missing/ number/ letters/figure from the given responses.

निर्देश: निम्नलिखित प्रश्नों में, दिए गए जवाबों से लापता / संख्या / अक्षर / आकृति ज्ञात कीजिए।

72 : 56 :: 110 : ?



- A. 74**
- B. 90**
- C. 87**
- D. 69**



Directions: In the following questions, find the missing/ number/ letters/figure from the given responses.

निर्देश: निम्नलिखित प्रश्नों में, दिए गए जवाबों से लापता / संख्या / अक्षर / आकृति ज्ञात कीजिए।



- A. Spring
- B. Autumn
- C. Windy
- D. Summer



Sudhakar is taller than Ramesh and Rajesh is shorter than Sudhakar. Who is the shortest amongst them?

सुधाकर रमेश से लंबा है और राजेश सुधाकर से छोटा है। उनमें से सबसे छोटा कौन है?

- (A) Ramesh is not the tallest person. रमेश सबसे लंबा व्यक्ति नहीं है।
- (B) Sudhakar is the shortest person. सुधाकर सबसे छोटे व्यक्ति हैं।
- (C) Rajesh is the tallest person. राजेश सबसे लंबा व्यक्ति है।
- (D) Rajesh is the shortest person. राजेश सबसे छोटा व्यक्ति है।





Directions: In the following questions, find the missing/ number/ letters/figure from the given responses.

निर्देश: निम्नलिखित प्रश्नों में, दिए गए जवाबों से लापता / संख्या / अक्षर / आकृति ज्ञात कीजिए।



- A. 14
- B. 29
- C. 27
- D. 39

36	18	45
24	12	?
32	16	39



Directions: In the following questions, find the missing/ number/ letters/figure from the given responses.

निर्देश: निम्नलिखित प्रश्नों में, दिए गए जवाबों से लापता / संख्या / अक्षर / आकृति ज्ञात कीजिए।



- A. 4
- B. 9
- C. 6
- D. 3

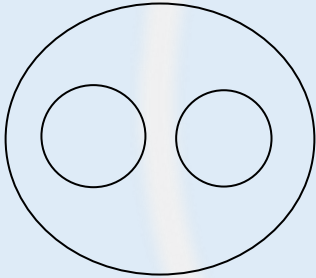
581	?	631
692	8	531




Which of the following diagrams indicates the best relation between medical Mother, doctor , and Female?

निम्नलिखित में से कौन सा चित्र माँ, डॉक्टर और महिला उपकरण के बीच संबंध को इंगित करता है?

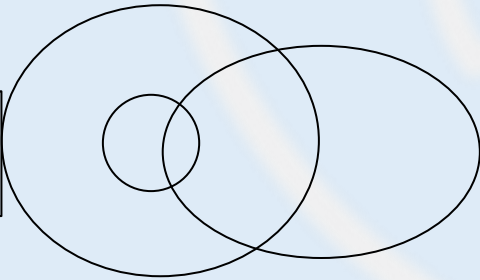
A.




B.



C.



D.





For Your Any Type of Reasoning Related Queries Join
Telegram Channel:

Reasoning by Jaishri
Jaishri Mahendras Reasoning

Get Additional **10%** Discount On All Products &
Services of Mahendras

Use Code : **E07637**

